

**CONCURSO PARA PROVIMENTO DE VAGAS DO QUADRO
PERMANENTE DE PESSOAL DO DEPARTAMENTO MUNICIPAL
ÁGUA E ESGOTO DO MUNICÍPIO DE UBERLÂNDIA**

Edital Nº 01 / 2019

AUXILIAR TÉCNICO OPERACIONAL

Código: 101

LEIA COM ATENÇÃO AS SEGUINTE INSTRUÇÕES

1. Este caderno contém as questões da **Prova Objetiva**.
2. Use a Folha de Respostas (Versão do Candidato) reproduzida ao final deste caderno apenas para marcar o Gabarito.
3. Ao receber a **Folha de Respostas da Prova Objetiva**:
 - Confira seu nome, número de inscrição e cargo.
 - Assine, **A TINTA**, no espaço próprio indicado.

4. **ATENÇÃO**: transcreva no espaço apropriado da sua **FOLHA DE RESPOSTAS**, com sua caligrafia usual, mantendo as letras maiúsculas e minúsculas, desconsiderando aspas e autoria, a seguinte frase:

“A alegria de fazer o bem é a única felicidade verdadeira.” Leon Tolstói

ATENÇÃO:

FOLHA DE RESPOSTAS SEM ASSINATURA NÃO TEM VALIDADE.

5. Ao transferir as respostas para a **Folha de Respostas**:

01 • use apenas caneta esferográfica azul ou preta.

02 • preencha, sem forçar o papel, toda a área reservada à letra correspondente à resposta solicitada em cada questão.

03 • assinale somente **uma** alternativa em cada questão.

04 Sua resposta **NÃO** será computada se houver marcação de mais de uma alternativa, questões não assinaladas ou rasuras.

NÃO DEIXE NENHUMA QUESTÃO SEM RESPOSTA.

A **Folha de Respostas** não deve ser dobrada, amassada ou rasurada.

ATENÇÃO: Período de Sigilo – Não será permitido ao candidato se ausentar em definitivo da sala de provas antes de decorridas 2(duas) horas do início das provas. O candidato não poderá fazer anotação de questões ou informações relativas às suas respostas no Comprovante Definitivo de Inscrição (CDI) ou em quaisquer outros meios, que não os permitidos no Edital e especificados na capa da prova. Os candidatos não poderão utilizar-se, em hipótese alguma, de lapiseira, corretivos ou lápis-borracha ou outro material distinto do constante no Edital. Será proibido, durante a realização das provas, fazer uso ou portar, mesmo que desligados, telefone celular, relógios, *paggers*, *beep*, agenda eletrônica, lápis, borracha, corretivo, calculadora, *walkman*, *notebook*, *palmtop*, gravador, transmissor / receptor de mensagens de qualquer tipo ou qualquer outro equipamento eletrônico, podendo a organização deste Concurso Público vetar o ingresso do candidato com outros aparelhos além dos anteriormente citados. Durante o período de realização das provas, não será permitida qualquer espécie de consulta ou comunicação entre os candidatos ou entre estes e pessoas estranhas, oralmente ou por escrito, assim como não será permitido o uso de livros, códigos, manuais, impressos, anotações ou quaisquer outros meios. Durante o período de realização das provas, não será permitido o uso de óculos escuros, boné, chapéu, gorro, lenço ou similares. O candidato não poderá levar o caderno de questões da Prova Objetiva. Será permitido levar somente o rascunho da Folha de respostas da prova objetiva. Não haverá substituição da Folha de Respostas da Prova Objetiva por erro do candidato. Ao término do prazo estabelecido para a prova, os três últimos candidatos deverão permanecer na sala até que o último candidato termine sua prova, devendo todos assinar a Ata de Sala, atestando a idoneidade da fiscalização das provas, retirando-se da sala de prova de uma só vez. As instruções contantes no Caderno de Questões e na Folha de Respostas da Prova Objetiva, bem como as orientações e instruções expedidas pela FUNDEP durante a realização da prova, complementam o Edital e deverão ser rigorosamente observadas e seguidas pelo candidato.

O Caderno de Questões e o Gabarito da Prova Objetiva serão divulgados no endereço eletrônico www.gestaodeconcursos.com.br no dia 11 de fevereiro de 2020.

DURAÇÃO MÁXIMA DA PROVA: 4 (QUATRO) HORAS

ATENÇÃO

Sr.(a) Candidato(a),

Antes de começar a fazer a prova, confira se este caderno contém, ao todo, **30 (trinta)** questões de múltipla escolha, cada uma constituída de 4 (quatro) alternativas de respostas, assim distribuídas: 10 (dez) questões de **Língua Portuguesa**, 10 (dez) questões de **Matemática** e 10 (dez) questões de **Atualidades**, todas perfeitamente legíveis.

Havendo algum problema, informe **imediatamente** ao aplicador de provas para que ele tome as providências necessárias.

Caso não observe essa recomendação, não lhe caberá qualquer reclamação ou recursos posteriores.

LÍNGUA PORTUGUESA

INSTRUÇÃO: Leia o texto a seguir para responder às questões de 1 a 4.

Dicas DMAE Caixa d'água

O DMAE garante a qualidade da água até o hidrômetro. Depois é com você. Faça sua parte, mantendo a caixa d'água limpa!

Depois que a água passa por modernos processos de tratamento nas Estações do DMAE, ela é distribuída à população livre de impurezas. Porém, dentro dos imóveis, a água tem outro local de armazenamento, conhecido por caixa d'água. Esse reservatório é indispensável, pois ele irá garantir que não irá faltar água em sua casa quando houver necessidade de manutenção no sistema de abastecimento.

A caixa d'água deve ser lavada a cada seis meses e precisa ser mantida bem tampada, para que nenhum bicho ou sujeira entre nela. Esses cuidados são imprescindíveis, já que a responsabilidade do DMAE é garantir a qualidade da água distribuída até o hidrômetro. Daí em diante, a responsabilidade passa para o consumidor.

Para manter a sua caixa d'água bem limpa e evitar transtornos, você pode seguir os seguintes passos:

1º passo: esvazie a caixa d'água;

2º passo: escove bem as paredes e o fundo da caixa d'água com uma escova de *nylon*;

3º passo: lave bem a caixa d'água com um jato forte de água limpa;

4º passo: misture um litro de água sanitária e cinco litros de água limpa e com um pano espalhe esta solução nas paredes e no fundo da caixa d'água;

5º passo: espere 30 minutos para que a solução de água sanitária faça a desinfecção da caixa d'água;

6º passo: enxágue a caixa d'água e deixe toda a água escorrer até que a caixa fique vazia;

7º passo: encha a caixa d'água e repita toda a operação daqui a seis meses.

Disponível em: <www.uberlandia.mg.gov.br/prefeitura/orgaos-municipais/dmae/dicas-dmae/> (Adaptação).

QUESTÃO 1

Esse texto tem a finalidade de

- A) anunciar os serviços do DMAE.
- B) alertar o leitor a respeito do desperdício de água.
- C) relatar um fato do cotidiano.
- D) instruir o consumidor.

QUESTÃO 2

De acordo com o texto, a caixa d'água de uma residência deve ser limpa

- A) uma vez por ano.
- B) uma vez a cada dois anos.
- C) duas vezes ao ano.
- D) duas vezes por semestre.

QUESTÃO 3

Releia o seguinte trecho:

“Esses cuidados são **imprescindíveis**, já que a responsabilidade do DMAE é garantir a qualidade da água distribuída até o hidrômetro”.

A palavra destacada tem o mesmo sentido de

- A) “desnecessários”.
- B) “indispensáveis”.
- C) “adequados”.
- D) “verdadeiros”.

QUESTÃO 4

Logo após espalhar a solução para desinfetar a caixa d'água, o consumidor deve

- A) enxaguá-la.
- B) enchê-la novamente.
- C) esperar meia hora.
- D) escovar as paredes e o fundo da caixa.

INSTRUÇÃO: Leia o texto a seguir para responder às questões de 5 a 9.

Vazamentos

Consertar vazamentos nas ruas e nos passeios é também um dos serviços realizados pelo DMAE. Ao se deparar com um vazamento, o consumidor deve imediatamente avisar a autarquia. Ligue para o telefone 115 para que o reparo seja providenciado.

Já os vazamentos dentro de imóveis são de responsabilidade do usuário. Se a conta de água do usuário veio com um valor muito acima do habitual e não se trata de consumo, deve estar ocorrendo um vazamento e ele pode não estar visível. Nesse caso, o usuário deve chamar um profissional do ramo rapidamente. Apenas ele tem conhecimento e prática para descobrir e corrigir o vazamento.

Problema resolvido, é só solicitar ao DMAE uma vistoria e a revisão da conta relativa ao consumo alterado. Mas atenção, o local do reparo deve ser deixado exposto para que, na vistoria, os técnicos comprovem o conserto. É importante guardar também as notas fiscais, peças retiradas e quaisquer outros indícios que ajudem o DMAE a atestar a correção do vazamento.

Você sabia que um pequeno buraco de dois milímetros no encanamento pode desperdiçar mais de 3 200 litros de água em um único dia? Esteja sempre alerta! Pequenos vazamentos são grandes desperdiçadores de água.

Disponível em: <www.uberlandia.mg.gov.br/prefeitura/orgaos-municipais/dmae/servicos-dmae/vazamentos/> (Adaptação).

QUESTÃO 5

Releia o trecho.

“Ao se deparar com um vazamento, o consumidor deve imediatamente avisar a **autarquia**”.

A palavra destacada se refere ao(à)

- A) DMAE.
- B) prefeitura.
- C) secretaria.
- D) governo.

QUESTÃO 6

Releia este trecho.

“Consertar vazamentos nas ruas e nos passeios é também um dos serviços realizados pelo DMAE”.

Assinale a alternativa em que o deslocamento da palavra “também”, nesse trecho, não altera o sentido original.

- A) Consertar vazamentos nas ruas e nos passeios **também** é um dos serviços realizados pelo DMAE.
- B) Consertar vazamentos **também** nas ruas e nos passeios é um dos serviços realizados pelo DMAE.
- C) Consertar vazamentos nas ruas e nos passeios é um dos serviços realizados **também** pelo DMAE.
- D) Consertar **também** vazamentos nas ruas e nos passeios é um dos serviços realizados pelo DMAE.

QUESTÃO 7

Releia o seguinte trecho, observando as palavras destacadas.

“Se a conta de água do usuário veio com um valor muito acima do habitual e não se trata de consumo, **deve** estar ocorrendo um vazamento e ele pode não estar visível. Neste caso, o usuário **deve** chamar um profissional do ramo rapidamente.”

É correto afirmar que a palavra “deve”

- A) indica uma orientação, em sua primeira ocorrência, e uma suposição, em sua segunda ocorrência.
- B) tem, em suas duas ocorrências, exatamente o mesmo sentido.
- C) indica uma suposição, em sua primeira ocorrência, e uma orientação, em sua segunda ocorrência.
- D) tem, ao mesmo tempo, dois sentidos: expressa uma dúvida e uma obrigação.

QUESTÃO 8

Releia este trecho.

“Problema resolvido, é só solicitar ao DMAE uma vistoria e a revisão da conta relativa ao consumo alterado”.

Assinale a alternativa em que a reescrita não alterou o sentido do trecho.

- A) Por mais que o problema seja resolvido, é só solicitar ao DMAE uma vistoria e a revisão da conta relativa ao consumo alterado.
- B) Depois de o problema resolvido, é só solicitar ao DMAE uma vistoria e a revisão da conta relativa ao consumo alterado.
- C) Apesar de o problema ser resolvido, é só solicitar ao DMAE uma vistoria e a revisão da conta relativa ao consumo alterado.
- D) Para que o problema seja resolvido, é só solicitar ao DMAE uma vistoria e a revisão da conta relativa ao consumo alterado.

QUESTÃO 9

Analise a imagem a seguir.



Disponível em: www.images.app.googl.
Acesso em: 17 dez. 2019.

De acordo com a imagem e o texto verbal, é correto afirmar que

- A) o homem, antigamente, aproveitava a água da chuva.
- B) o guarda-chuva perdeu a função que tinha.
- C) é necessário, atualmente, mais do que em outros tempos, economizar água.
- D) a falta de água, em algumas cidades, é explicada pela falta de chuvas.

QUESTÃO 10

Assinale a alternativa em que a palavra destacada está corretamente classificada entre parênteses.

- A) Apenas **ele** tem conhecimento e prática para descobrir e corrigir o vazamento. (pronome)
- B) Ligue para o telefone 115 para que o **reparo** seja providenciado. (verbo)
- C) Pequenos vazamentos são **grandes** desperdiçadores de água. (advérbio)
- D) Neste caso, o usuário deve chamar um profissional do ramo **rapidamente**. (adjetivo)

MATEMÁTICA

QUESTÃO 11

Paulo devia uma quantia em dinheiro para Cristina e decidiu efetuar o pagamento por meio de transferência bancária, utilizando o aplicativo do banco em seu telefone celular. Porém, ao digitar o valor, Paulo se equivocou e trocou o algarismo das dezenas pelo algarismo das centenas, transferindo para Cristina um valor diferente do que devia à amiga.

Sabendo que o valor transferido por Paulo foi de R\$ 2 573,50, uma maneira de corrigir o seu erro é

- A) efetuando uma nova transferência no valor de R\$ 257,50.
- B) efetuando uma nova transferência no valor de R\$ 180,00.
- C) solicitando à amiga que devolva a quantia de R\$ 257,50.
- D) solicitando à amiga que devolva a quantia de R\$ 180,00.

QUESTÃO 12

O prefeito de uma cidade encomendou um estudo acerca do acesso da população a serviços de água tratada e destinação de esgoto em todas as residências do município. O resultado obtido o deixou preocupado: apenas 40% dos lares do município recebiam água tratada e, simultaneamente, tinham o esgoto devidamente tratado. 55% das casas recebiam água tratada, mas não tinham o esgoto corretamente destinado. As demais 320 casas do município não recebiam água tratada, tampouco tinham infraestrutura adequada para coleta do esgoto.

Qual é o total de residências desse município?

- A) 1 600.
- B) 3 200.
- C) 4 800.
- D) 6 400.

QUESTÃO 13

Um leitorista tinha um dia de trabalho disponível para verificar a contagem em todos os hidrômetros de uma região da cidade. Ele realizou $\frac{1}{6}$ do trabalho na parte da manhã e $\frac{2}{5}$ do total na parte da tarde.

Qual a fração, do total de hidrômetros da região, que ele concluiu nesse dia?

- A) $\frac{1}{3}$.
- B) $\frac{2}{3}$.
- C) $\frac{13}{30}$.
- D) $\frac{17}{30}$.

QUESTÃO 14

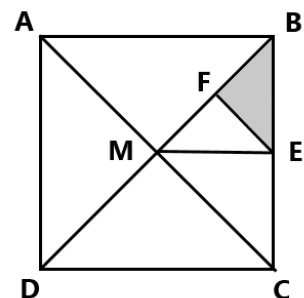
Uma mangueira possui uma vazão constante de 3 L por minuto.

Qual é a quantidade de água que essa mangueira colocará em um reservatório se ela for aberta às 12h50min20s e desligada às 18h50min20seg do mesmo dia? (Considere que a capacidade total do reservatório não será atingida nesse período)

- A) 180 L.
- B) 360 L.
- C) 900 L.
- D) 1080 L.

QUESTÃO 15

A figura a seguir contém o quadrado ABCD, em que E e F são pontos médios dos segmentos BC e BM, respectivamente.



A área sombreada representa qual fração da área total desse quadrado?


- A) $\frac{1}{4}$.
- B) $\frac{1}{8}$.
- C) $\frac{1}{16}$.
- D) $\frac{1}{32}$.

QUESTÃO 16


A logomarca de uma empresa é formada por um quadrado cinza e quatro triângulos equiláteros pretos. Cada triângulo equilátero possui um lado em comum com o quadrado, e não há sobreposição entre as áreas dos triângulos e as áreas dos quadrados.

Qual das figuras a seguir representa melhor a descrição da logomarca da empresa?


A)




B)



C)



D)



QUESTÃO 17

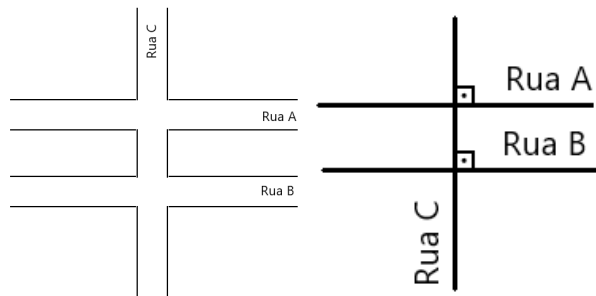
Uma pizzaria oferece em seu cardápio dois tamanhos de pizza: grande e gigante. A pizza grande possui diâmetro de 30 cm e custa R\$ 30,00. Já a pizza gigante tem 40 cm de diâmetro. Ambas possuem a mesma espessura e distribuição uniforme de recheio por toda a massa.

É correto afirmar que

- A) se a pizza gigante custar R\$ 55,00, ambas apresentarão a mesma relação custo-benefício.
- B) se a pizza gigante custar R\$ 40,00, ela apresentará relação custo-benefício melhor que a pizza grande.
- C) se a pizza gigante custar menos de R\$ 40,00, ela apresentará relação custo-benefício pior que a pizza grande.
- D) se a pizza gigante custar mais de R\$ 55,00, ela apresentará relação custo-benefício melhor que a pizza grande.

QUESTÃO 18

As ruas A, B e C, de dois cruzamentos de uma cidade, foram esquematizadas nas figuras a seguir.



Em relação a essas ruas, é correto afirmar:

- A) A rua A é paralela à rua C.
- B) A rua B é paralela à rua C.
- C) A rua A é perpendicular à rua C.
- D) A rua B é perpendicular à rua A.

QUESTÃO 19

Considere os conjuntos A, em que cada elemento é uma cidade do estado de Minas Gerais, e B, em que cada elemento é uma cidade do Brasil.

Sobre os conjuntos A e B, é correto afirmar que

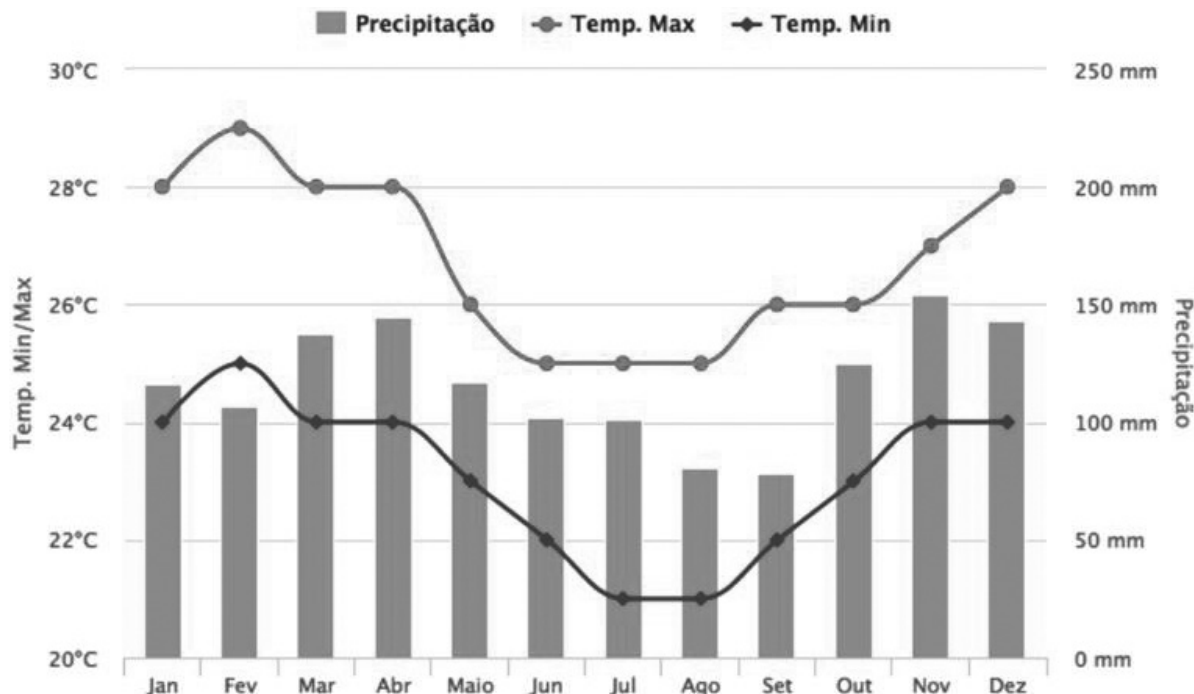
- A) $A \in B$.
- B) $B \in A$.
- C) $A \subset B$.
- D) $B \subset A$.

QUESTÃO 20

Um turista avalia visitar a cidade de Porto Seguro, na Bahia, mas para isso, quer que algumas condições climáticas atendam a condições que ele considera ideais. São elas:

1. Ele pretende evitar temperaturas superiores a 26 graus.
2. Ele pretende evitar temperaturas inferiores a 22 graus.
3. Ele espera que chova menos do que 100 mm no período.

O gráfico a seguir mostra dados sobre o clima de Porto Seguro coletados historicamente nos 12 meses do ano.



Fonte: <<https://guia.melhoresdestinos.com.br/quando-ir-porto-seguro-52-260-p.html>>. Acesso em: 22 out. 2019.

Qual é o mês ideal para que o turista tenha mais chances de ter suas expectativas atendidas durante a viagem?

- A) Abril.
- B) Agosto.
- C) Outubro.
- D) Setembro.

ATUALIDADES

QUESTÃO 21

A PUC Minas é parceira da Câmara Municipal de Uberlândia no principal programa ligado à formação política de jovens do Ensino Médio, o Parlamento Jovem, um projeto criado pela Assembleia Legislativa de Minas há mais de 15 anos, que alcança jovens em várias cidades do estado por meio de parceria com as câmaras municipais.

Disponível em: <<https://www.camarauberlandia.mg.gov.br/imprensa/noticias/camara-homenageara-puc-minas-pelos-60-anos-de-atuacao-no-estado>>. Acesso em: 11 dez. 2019 (Adaptação).

Assinale a alternativa que não apresenta um dos objetivos do projeto de extensão intitulado Parlamento Jovem.

- A) Incentivar o exercício da cidadania.
- B) Fortalecer a democracia participativa.
- C) Formar novos profissionais para a Câmara.
- D) Estimular a formação política de estudantes.

QUESTÃO 22

O Departamento Municipal de Água e Esgoto (Dmae) instalou nos últimos dois meses 152 novos contêineres para recolhimento de lixo doméstico. O número representa um aumento de 9,9% na coleta mecanizada, totalizando 1 603 unidades na área urbana e 182 na área rural.

Disponível em: <<https://www.uberlandia.mg.gov.br/2019/12/10/uberlandia-amplia-o-numero-de-conteineres-da-coleta-mecanizada/>>. Acesso em: 10 dez. 2019 (Adaptação).

A coleta mecanizada melhora a forma de descarte do lixo, uma vez que

- A) faz com que o lixo bloqueie o escoamento de água pluvial.
- B) provoca maior acumulação de materiais descartados nas vias.
- C) reduz o problema de destruição das sacolas de lixo por animais.
- D) aumenta os maus odores exalados pela matéria em decomposição.

QUESTÃO 23

Desde janeiro de 2019, mais de 2 mil km de estradas vicinais receberam manutenção. Os serviços incluem patrolamento, terraplanagem, encascalhamento e drenagem. Além disso, os moradores da zona rural também foram atendidos com execução, reforma, encabeçamento e demolição de pontes e mata-burros.

Disponível em: <<https://www.uberlandia.mg.gov.br/2019/11/22/manutencao-de-estradas-vicinais-ja-e-recorde-em-2019/>>. Acesso: 10 dez. 2019 (Adaptação).

A manutenção periódica de vias rurais tem como um dos seus principais objetivos

- A) provocar a imigração dos agricultores pobres.
- B) incentivar a ocupação de terras improdutivas.
- C) diminuir os índices de violência no meio rural.
- D) facilitar a circulação de pessoas e mercadorias.

QUESTÃO 24

Para falar sobre prevenção do câncer de mama, esteve presente na segunda reunião ordinária do mês de outubro de 2019, na Câmara Municipal de Uberlândia, o médico oncologista Rogério Araújo. A data escolhida para a realização da reunião é simbólica na medida em que outubro é o mês no qual é realizada mundialmente uma campanha com a intenção de alertar a sociedade sobre a importância do diagnóstico precoce do câncer de mama.

Qual o nome dessa campanha?

- A) Outubro Rosa.
- B) Outubro do Câncer.
- C) Dia Mundial do Câncer.
- D) Multirão Contra o Câncer.

QUESTÃO 25

Durante a Semana Interna de Prevenção de Acidentes do Trabalho (Sipat) da Prefeitura de Uberlândia, servidores municipais puderam ter acesso a palestras sobre diversos temas, como segurança do trabalho, saúde, qualidade de vida, departamento de pessoal, meio ambiente e prevenção às drogas. Foram oferecidas mais de dez palestras, entre outras atividades, em benefício dos profissionais que prestam serviço ao município de forma direta e indireta.

Disponível em: <<https://www.uberlandia.mg.gov.br/2019/11/29/atividades-da-semana-interna-de-prevencao-de-acidentes-do-trabalho-sao-encerradas/>>. Acesso em: 10 dez. 2019 (Adaptação).

Eventos como a Semana Interna de Prevenção de Acidentes do Trabalho, realizada pela prefeitura de Uberlândia, têm por objetivo

- A) aumentar a carga horária dos funcionários sem vínculo empregatício.
- B) provocar a competição sadia entre os trabalhadores e aumentar os lucros.
- C) proporcionar bem-estar e segurança por meio da informação aos servidores.
- D) incentivar que os empregados denunciem seus patrões aos órgãos competentes.

QUESTÃO 26

De acordo com o Ministério da Economia, Uberlândia fechou mais um mês com saldo positivo na geração de emprego. Os dados apontam que o saldo de outubro ficou em 730 novos postos de trabalho, contabilizando 9 317 admissões e 8.587 demissões. No acumulado do ano, o saldo é 4.253 empregos gerados.

Disponível em: <<https://www.uberlandia.mg.gov.br/2019/11/21/generacao-de-emprego-continua-em-alta-em-uberlandia/>>. Acesso em: 10 dez. 2019 (Adaptação).

Os setores que mais contribuíram para o saldo positivo na geração de emprego em Uberlândia em 2019 foram

- A) turismo e aviação.
- B) petrolífero e pesca.
- C) metalurgia e mineração.
- D) comércio e agropecuária.

QUESTÃO 27

O desmatamento ocorrido no Brasil tem afetado não só a vida dos animais, mas também a oferta de água doce, sobretudo no Cerrado e na Amazônia, que são justamente as regiões que abrigam os principais mananciais da malha hidrográfica brasileira.

Disponível em: <<https://www.bbc.com/portuguese/brasil-46026334>>. Acesso em: 02 nov. 2018 (Adaptado).

O desmatamento ocorrido no Brasil ajuda a explicar

- A) a diminuição do rebanho bovino do país.
- B) as recorrentes crises hídricas que têm ocorrido no país.
- C) o contínuo processo de desertificação do bioma da Mata Atlântica.
- D) a redução da margem de lucro obtida pelo setor agropecuário.

QUESTÃO 28

O professor Nelson Inocêncio destaca o crescimento do percentual de pretos e pardos que concluíram a graduação nos últimos anos, mas pondera que é preciso pensar outras políticas para garantir uma aproximação real entre o nível de educação de negros e brancos. De acordo com ele: Se a política de cotas não for suficiente, ainda que diminua o abismo entre brancos e negros, a gente vai ter que ter outras políticas.

Disponível em: <<http://agenciabrasil.ebc.com.br/educacao/noticia/2018-05/cotas-foram-revolucao-silenciosa-no-brasil-afirma-especialista>>. Acesso em: 21 nov. 2019 (Adaptação).

Com relação às ações afirmativas no Ensino Superior, assinale a alternativa correta.

- A) Os negros ainda não alcançaram o mesmo nível de educação dos brancos.
- B) Os negros cotistas têm desempenho inferior ao de alunos não cotistas.
- C) Os negros ingressam na universidade exclusivamente por meio de cotas.
- D) Os negros vindos de famílias ricas foram os únicos beneficiados com as cotas.

QUESTÃO 29

Em Minas Gerais, o número de casos de sarampo confirmados durante o ano de 2019 subiu de 51 para 74, sendo que quatro destes ocorreram no primeiro trimestre de 2019. Desde junho de 2019, o número de casos suspeitos aumentou, totalizando 1.688 notificações provenientes de 229 municípios no estado. Destes, 1 158 (68,6%) foram descartados, 460 (27,3%) estão em investigação e 70 (4,1%) casos foram confirmados.

Disponível em: <<https://g1.globo.com/mg/triangulo-mineiro/noticia/2019/10/23/uberlandia-dobra-o-numero-de-sarampo-e-a-cidade-com-mais-casos-confirmados-da-doenca-em-mg.ghtml>>. Acesso em: 11 nov. 2019 (Adaptação).

Sobre os casos de sarampo ocorridos durante o ano de 2019 em Minas Gerais, é correto afirmar que

- A) Belo Horizonte foi a única cidade do estado que apresentou casos confirmados da doença.
- B) a cidade de Uberlândia não apresentou casos suspeitos da doença entre julho e dezembro.
- C) a maior parte dos casos suspeitos de sarampo no Estado foram posteriormente confirmados.
- D) no Triângulo Mineiro e Alto Paranaíba ocorreram cerca de 30% dos casos confirmados da doença.

QUESTÃO 30

Analise a tabela a seguir.

**Municípios do Triângulo Mineiro,
Alto Paranaíba e Noroeste do estado**

Municípios	População 2018	População 2019	Varição percentual 2018 / 2019	Varição absoluta 2018 / 2019
Uberlândia	683.427	691.305	1,17%	8.058
Uberaba	330.361	333.783	1,03%	3.422
Patos de Minas	150.833	152.488	1,09%	1.655
Araguari	116.691	117.267	0,49%	576
Araxá	105.083	106.229	1,09%	1.146
Ituiutaba	104.067	104.671	0,58%	604
Paracatu	92.430	93.158	0,78%	728
Patrocínio	90.041	90.757	0,79%	716
Frutal	58.962	59.496	0,90%	534
João Pinheiro	48.561	47.452	-2,28%	-1.109
Monte Carmelo	47.682	47.809	0,26%	127
São Gotardo	35.145	35.469	0,92%	324

Disponível em: <https://g1.globo.com/mg/triangulo-mineiro/noticia/2019/08/29/ibge-aponta-que-uberlandia-e-a-2a-mais-populosa-de-mg-veja-situacao-das-principais-cidades-do-triangulo-alto-paranaiba-e-noroeste.ghtml>. Acesso em: 11 nov. 2019 (Adaptação).

Considerando essa tabela, analise as afirmativas a seguir.

- I. A população da região do Triângulo Mineiro aumentou.
- II. Uberlândia manteve o posto de cidade mais populosa da região.
- III. João Pinheiro diminuiu a diferença populacional em relação à Uberlândia.

Estão corretas as afirmativas

- A) I e II, apenas.
- B) I e III, apenas.
- C) II e III, apenas.
- D) I, II e III.

FOLHA DE RESPOSTAS (VERSÃO DO CANDIDATO)

1	A	B	C	D	16	A	B	C	D
	<input type="checkbox"/>	<input type="checkbox"/>	<input type="checkbox"/>	<input type="checkbox"/>		<input type="checkbox"/>	<input type="checkbox"/>	<input type="checkbox"/>	<input type="checkbox"/>
2	A	B	C	D	17	A	B	C	D
	<input type="checkbox"/>	<input type="checkbox"/>	<input type="checkbox"/>	<input type="checkbox"/>		<input type="checkbox"/>	<input type="checkbox"/>	<input type="checkbox"/>	<input type="checkbox"/>
3	A	B	C	D	18	A	B	C	D
	<input type="checkbox"/>	<input type="checkbox"/>	<input type="checkbox"/>	<input type="checkbox"/>		<input type="checkbox"/>	<input type="checkbox"/>	<input type="checkbox"/>	<input type="checkbox"/>
4	A	B	C	D	19	A	B	C	D
	<input type="checkbox"/>	<input type="checkbox"/>	<input type="checkbox"/>	<input type="checkbox"/>		<input type="checkbox"/>	<input type="checkbox"/>	<input type="checkbox"/>	<input type="checkbox"/>
5	A	B	C	D	20	A	B	C	D
	<input type="checkbox"/>	<input type="checkbox"/>	<input type="checkbox"/>	<input type="checkbox"/>		<input type="checkbox"/>	<input type="checkbox"/>	<input type="checkbox"/>	<input type="checkbox"/>
6	A	B	C	D	21	A	B	C	D
	<input type="checkbox"/>	<input type="checkbox"/>	<input type="checkbox"/>	<input type="checkbox"/>		<input type="checkbox"/>	<input type="checkbox"/>	<input type="checkbox"/>	<input type="checkbox"/>
7	A	B	C	D	22	A	B	C	D
	<input type="checkbox"/>	<input type="checkbox"/>	<input type="checkbox"/>	<input type="checkbox"/>		<input type="checkbox"/>	<input type="checkbox"/>	<input type="checkbox"/>	<input type="checkbox"/>
8	A	B	C	D	23	A	B	C	D
	<input type="checkbox"/>	<input type="checkbox"/>	<input type="checkbox"/>	<input type="checkbox"/>		<input type="checkbox"/>	<input type="checkbox"/>	<input type="checkbox"/>	<input type="checkbox"/>
9	A	B	C	D	24	A	B	C	D
	<input type="checkbox"/>	<input type="checkbox"/>	<input type="checkbox"/>	<input type="checkbox"/>		<input type="checkbox"/>	<input type="checkbox"/>	<input type="checkbox"/>	<input type="checkbox"/>
10	A	B	C	D	25	A	B	C	D
	<input type="checkbox"/>	<input type="checkbox"/>	<input type="checkbox"/>	<input type="checkbox"/>		<input type="checkbox"/>	<input type="checkbox"/>	<input type="checkbox"/>	<input type="checkbox"/>
11	A	B	C	D	26	A	B	C	D
	<input type="checkbox"/>	<input type="checkbox"/>	<input type="checkbox"/>	<input type="checkbox"/>		<input type="checkbox"/>	<input type="checkbox"/>	<input type="checkbox"/>	<input type="checkbox"/>
12	A	B	C	D	27	A	B	C	D
	<input type="checkbox"/>	<input type="checkbox"/>	<input type="checkbox"/>	<input type="checkbox"/>		<input type="checkbox"/>	<input type="checkbox"/>	<input type="checkbox"/>	<input type="checkbox"/>
13	A	B	C	D	28	A	B	C	D
	<input type="checkbox"/>	<input type="checkbox"/>	<input type="checkbox"/>	<input type="checkbox"/>		<input type="checkbox"/>	<input type="checkbox"/>	<input type="checkbox"/>	<input type="checkbox"/>
14	A	B	C	D	29	A	B	C	D
	<input type="checkbox"/>	<input type="checkbox"/>	<input type="checkbox"/>	<input type="checkbox"/>		<input type="checkbox"/>	<input type="checkbox"/>	<input type="checkbox"/>	<input type="checkbox"/>
15	A	B	C	D	30	A	B	C	D
	<input type="checkbox"/>	<input type="checkbox"/>	<input type="checkbox"/>	<input type="checkbox"/>		<input type="checkbox"/>	<input type="checkbox"/>	<input type="checkbox"/>	<input type="checkbox"/>

AO TRANSFERIR ESSAS MARCAÇÕES PARA A FOLHA DE RESPOSTAS,
OBSERVE AS INSTRUÇÕES ESPECÍFICAS DADAS NA CAPA DA PROVA.

USE CANETA ESFEROGRÁFICA AZUL OU PRETA.

**ATENÇÃO:
AGUARDE AUTORIZAÇÃO
PARA VIRAR O CADERNO DE PROVA.**