



CONCURSO PÚBLICO PARA PROVIMENTO  
DE CARGOS DA PREFEITURA  
MUNICIPAL DE ERVÁLIA

Edital 02/2018

**FUNDAMENTAL COMPLETO**

Códigos: 201 e 202

**LEIA COM ATENÇÃO AS SEGUINTE INSTRUÇÕES**

1. Este caderno contém as questões da **Prova Objetiva**.
2. Use o rascunho da **Folha de Respostas** reproduzido ao final deste caderno apenas para marcar o **Gabarito**.
3. Ao receber a **Folha de Respostas** da **Prova Objetiva**:
  - Confira seu nome, número de inscrição e cargo.
  - Assine, **A TINTA**, no espaço próprio indicado.

4. **ATENÇÃO:** transcreva no espaço apropriado da sua **FOLHA DE RESPOSTAS**, com sua caligrafia usual, mantendo as letras maiúsculas e minúsculas, desconsiderando aspas e autoria, a seguinte frase:

**“O medo de perder tira a vontade de ganhar.”** Wanderley Luxemburgo

**ATENÇÃO:**

**FOLHAS DE RESPOSTAS SEM ASSINATURA NÃO TÊM VALIDADE.**

5. Ao transferir as respostas para a **Folha de Respostas** da **Prova Objetiva**:

- |    | A                                   | B                                   | C                                   | D                        |   |
|----|-------------------------------------|-------------------------------------|-------------------------------------|--------------------------|---|
| 01 | <input checked="" type="checkbox"/> | <input type="checkbox"/>            | <input type="checkbox"/>            | <input type="checkbox"/> | • use apenas caneta esferográfica azul ou preta;  |
| 02 | <input type="checkbox"/>            | <input checked="" type="checkbox"/> | <input type="checkbox"/>            | <input type="checkbox"/> | • preencha, sem forçar o papel, toda a área reservada à letra correspondente à resposta solicitada em cada questão; |
| 03 | <input type="checkbox"/>            | <input type="checkbox"/>            | <input checked="" type="checkbox"/> | <input type="checkbox"/> | • assinale somente <b>uma</b> alternativa em cada questão.  |
- Sua resposta **NÃO** será computada se houver marcação de mais de uma alternativa, questões não assinaladas ou rasuras.

**NÃO DEIXE NENHUMA QUESTÃO SEM RESPOSTA.**

As **Folhas de Respostas** não devem ser dobradas, amassadas ou rasuradas.

**ATENÇÃO:** Período de Sigilo: não será permitido ao candidato se ausentar em definitivo da sala de provas antes de decorrida 1 (uma) hora do início das provas. Os candidatos não poderão utilizar, em hipótese alguma, de lapiseira, corretivos, borracha ou outro material distinto do constante no item 9.4.11 do Edital. Quaisquer acessórios como óculos escuros, boné, chapéu, gorro, lenço ou similares não terão seu uso permitido. Quaisquer aparelhos eletrônicos como telefone celular, *smartphones*, *tablets*, relógios (ainda que analógico), enquanto na sala de provas, deverão permanecer desligados, tendo sua bateria retirada. As instruções constantes no Caderno de Questões e nas Folhas de Respostas, bem como as orientações e instruções expedidas pela Fundep durante a realização das provas, complementam o Edital e deverão ser rigorosamente observadas e seguidas pelo candidato. Não haverá substituição das Folhas de Respostas por erro do candidato. O candidato não poderá levar o seu Caderno de Questões e / ou rascunhos e / ou anotações. Será proibida, durante a realização das provas, qualquer espécie de consulta ou comunicação entre os candidatos ou entre estes e pessoas estranhas, oralmente ou por escrito, assim como não será permitido o uso de livros, códigos, manuais, impressos, anotações ou quaisquer outros meios. Ao término do prazo estabelecido para a prova, os três últimos candidatos deverão permanecer na sala até que o último candidato termine sua prova, devendo todos assinar a Ata de Ocorrências da sala, atestando a idoneidade da fiscalização das provas, retirando-se da sala de prova de uma só vez. Poderá, ainda, ser eliminado o candidato que: tratar com falta de urbanidade os examinadores, auxiliares, aplicadores ou autoridades presentes; portar arma(s) no local de realização das provas, ainda que de posse de documento oficial de licença para o respectivo porte.

O Caderno de Questões e o gabarito da Prova Objetiva serão divulgados no endereço eletrônico <[www.gestaodeconcursos.com.br](http://www.gestaodeconcursos.com.br)> no dia 4 de fevereiro de 2019.

**DURAÇÃO MÁXIMA DA PROVA: 3 (TRÊS) HORAS**

# ATENÇÃO

Sr.(a) Candidato(a),

Antes de começar a fazer a prova, confira se este caderno contém, ao todo, **25 (vinte e cinco) questões de múltipla escolha**, cada uma constituída de 4 (quatro) alternativas de respostas, assim distribuídas: 10 (dez) questões de **Língua Portuguesa**, 10 (dez) de questões de **Matemática** e 5 (cinco) questões de **Atualidades**, todas perfeitamente legíveis.

Havendo algum problema, informe **imediatamente** ao aplicador de provas para que ele tome as providências necessárias.

Caso não observe essa recomendação, não lhe caberá qualquer reclamação ou recursos posteriores.

**INSTRUÇÃO:** Leia o texto a seguir para responder às questões de 1 a 5.

### Pontos de vista

Os sinais de pontuação estavam quietos dentro do livro de Português quando estourou a discussão.

— Esta história já começou com um erro – disse a Vírgula.

— Ora, por quê? – perguntou o Ponto de Interrogação.

— Deveriam me colocar antes da palavra “quando” – respondeu a Vírgula.

— Concordo! – disse o Ponto de Exclamação. — O certo seria: “Os sinais de pontuação estavam quietos dentro do livro de Português, quando estourou a discussão”.

— Viram como eu sou importante? – disse a Vírgula.

— E eu também – comentou o Travessão. — Eu logo apareci para o leitor saber que você estava falando.

— E nós? – protestaram as Aspas. — Somos tão importantes quanto vocês. Tanto que, para chamar a atenção, já nos puseram duas vezes neste diálogo.

— O mesmo digo eu – comentou o Dois-Pontos. — Apareço sempre antes das Aspas e do Travessão.

— Estamos todos a serviço da boa escrita! – disse o Ponto de Exclamação. — Nossa missão é dar clareza aos textos. Se não nos colocarem corretamente, vira uma confusão como agora!

— Às vezes podemos alterar todo o sentido de uma frase – disseram as Reticências. — Ou dar margem para outras interpretações...

— É verdade – disse o Ponto. — Uma pontuação errada muda tudo.

— Se eu aparecer depois da frase “a guerra começou” – disse o Ponto de Interrogação — é apenas uma pergunta, certo?

— Mas se eu aparecer no seu lugar – disse o Ponto de Exclamação — é uma certeza: “A guerra começou!”

— Olha nós aí de novo – disseram as Aspas.

— Pois eu estou presente desde o começo – disse o Travessão.

— Tem hora em que, para evitar conflitos, não basta um Ponto, nem uma Vírgula, é preciso os dois – disse o Ponto e Vírgula. — E aí entro eu.

— O melhor mesmo é nos chamarem para trazer paz – disse a Vírgula.

— Então, que nos usem direito! – disse o Ponto Final. E pôs fim à discussão.

Conto de João Anzanello Carrascoza.  
Nova Escola - Ed. Nº 165. Set. 2003.

### QUESTÃO 1

Considerando a norma-padrão, assinale a alternativa em que se tem um fato posterior a certo momento passado, tendo em vista os verbos utilizados nestes trechos.

- A) “— Pois eu estou presente desde o começo – disse o Travessão.”
- B) “— E nós? – protestaram as Aspas. — Somos tão importantes quanto vocês.”
- C) “— Deveriam me colocar antes da palavra “quando” – respondeu a Vírgula.”
- D) “— O melhor mesmo é nos chamarem para trazer paz – disse a Vírgula.”

### QUESTÃO 2

Considerando a norma-padrão e o sentido exigido em cada contexto dos trechos analisados a seguir, assinale a alternativa incorreta.

- A) Em “E pôs fim à discussão.”, a ideia de acréscimo está presente e é marcada pela conjunção “e”.
- B) Em “— Pois eu estou presente desde o começo – disse o Travessão.”, “pois” tem sentido conclusivo, uma vez que encabeça uma conclusão da personagem.
- C) Em “— Mas se eu aparecer no seu lugar – disse o Ponto de Exclamação — é uma certeza: ‘A guerra começou!’”, “mas” tem sentido adversativo, uma vez que inicia uma ressalva da personagem.
- D) Em “— Ou dar margem para outras interpretações...”, a ideia de alternância está presente e é marcada pela conjunção “ou”.

### QUESTÃO 3

Considerando o título do texto, “Pontos de vista”, e as interpretações dele decorrentes, assinale a alternativa que apresenta a melhor definição, segundo o *Dicionário Michaelis*, para o termo “vistas”, nesse contexto.

- A) “Paisagem que se vê a partir de algum ponto.”
- B) “Imagem captada pelo sentido da visão.”
- C) “Aquilo que se estabelece como objetivo.”
- D) “Opinião sobre determinado assunto.”

### QUESTÃO 4

Analise este trecho.

“**Se** não nos colocarem corretamente, vira uma confusão como agora!”

A conjunção destacada confere ao trecho sentido

- A) consecutivo.
- B) causal.
- C) condicional.
- D) explicativo.

## QUESTÃO 5

Releia este trecho.

“— E **nós?** – protestaram as **Aspas**. — Somos tão importantes **quanto** vocês. Tanto que, para chamar a atenção, já nos **puseram duas** vezes neste **diálogo**.”

As palavras destacadas são, morfológica e respectivamente,

- A) pronome / substantivo / advérbio / verbo / numeral / substantivo.
- B) preposição / pontuação / pronome / advérbio / artigo / verbo.
- C) pronome / sujeito / advérbio / advérbio / artigo / substantivo.
- D) preposição / substantivo / pronome / verbo / numeral / complemento verbal.

## QUESTÃO 6

Considerando a norma-padrão, assinale a alternativa em que o emprego da crase é obrigatório e correto.

- A) Carlos joga futevol à Pelé.
- B) Esse mês iremos à festas de aniversário todos os fins de semana.
- C) Nunca fui à Nova Iorque.
- D) À qual dos seguranças você pediu ajuda?

**INSTRUÇÃO:** Leia o texto a seguir para responder às questões 7 e 8.



Disponível em: <[www.custodio.net](http://www.custodio.net)>. Acesso em: 10 jan. 2019.

## QUESTÃO 7

O efeito de humor dessa tirinha é garantido pelo(a)

- A) repetição do termo “poesia”, cujo objetivo é enfatizar a mensagem do texto.
- B) linguagem não verbal, que por si só é responsável por esse efeito.
- C) duplo-sentido de determinada expressão da tirinha.
- D) escrita do texto verbal da tirinha em primeira pessoa.

## QUESTÃO 8

A tirinha analisada é composta basicamente por substantivos qualificados por adjetivos.

Assinale a alternativa em que a palavra / locução destacada não qualifica outra do mesmo trecho.

- A) As férias **de janeiro** de Adriana foram excelentes.
- B) **Excepcionalmente** esse fim de semana, eu trabalhei.
- C) Os brincos de Lara eram **maravilhosos**.
- D) São **naturais** os cabelos de Fernanda.

**INSTRUÇÃO:** Analise o texto a seguir para responder às questões 9 e 10.



Disponível em: <educrealmirian.blogspot.com>. Acesso em: 27 nov. 2018

### QUESTÃO 9

Considerando a norma-padrão, assinale a alternativa em que o porquê foi utilizado incorretamente.

- A) A professora substituiu Fernanda porque aluno?
- B) Adriano, você fez isso por quê?
- C) Carol não sabe por que foi demitida.
- D) Vá para casa, porque você não é bem-vindo aqui.

### QUESTÃO 10

Analise este trecho.

“[...] Por que você não me deixa em paz?”

Algumas palavras ou expressões pressupõem, segundo a gramática normativa, determinada estrutura frasal.

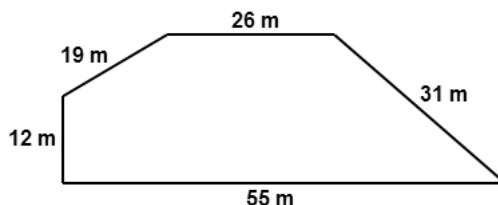
Considerando a norma-padrão e o emprego adequado dos pronomes, assinale a alternativa que está escrita corretamente.

- A) O encontrarei depois do jantar.
- B) Daria-te todas as flores se eu te amasse.
- C) Tenho dedicado-me aos estudos esse semestre.
- D) As lâmpadas se acenderam ao anoitecer.

## MATEMÁTICA

### QUESTÃO 11

A figura a seguir mostra a forma do terreno que Olavo comprou.



Para construir um muro em todo o contorno do terreno, quantos metros de muro no total ele precisará construir?

- A) 86 metros.
- B) 88 metros.
- C) 112 metros.
- D) 143 metros.

### QUESTÃO 12

Um pintor, ao pintar uma casa, gasta uma lata de tinta para cada 60 m<sup>2</sup>.

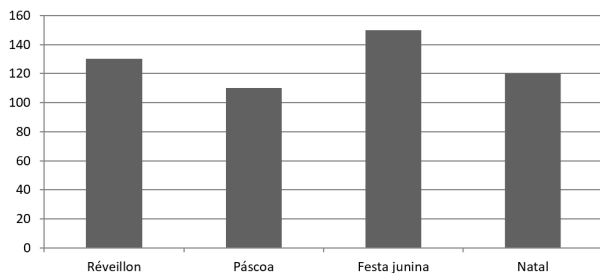
Para pintar uma casa de 540 m<sup>2</sup> serão necessárias

- A) 9 latas de tinta.
- B) 8 latas de tinta.
- C) 7 latas de tinta.
- D) 6 latas de tinta.

### QUESTÃO 13

O gráfico a seguir apresenta o resultado de uma pesquisa realizada com um grupo de brasileiros sobre a preferência por datas comemorativas no Brasil.

**Preferência por datas comemorativas no Brasil**

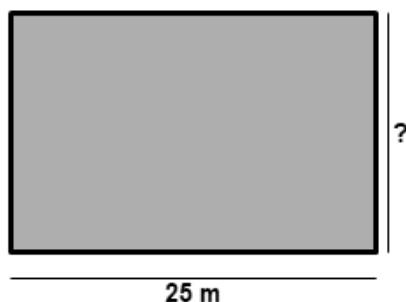


Com base nos dados apresentados no gráfico, pode-se afirmar que a data comemorativa menos preferida pelo grupo é

- A) Réveillon.
- B) Páscoa.
- C) Festa junina.
- D) Natal.

### QUESTÃO 14

Para construir uma horta, um agricultor cercou um terreno retangular com 25 m de comprimento, como mostra a figura a seguir:

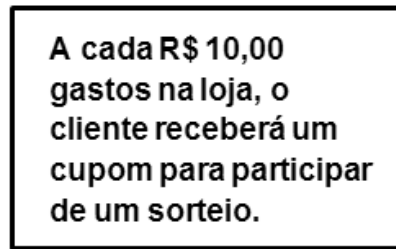


Para que a área dessa horta seja igual a 300 m<sup>2</sup>, a medida da largura do terreno deve ser de

- A) 12 m.
- B) 25 m.
- C) 50 m.
- D) 100 m.

### QUESTÃO 15

Observe a promoção da loja Pag Pouco:



Letícia gastou R\$ 750,00 nessa loja. O número de cupons que ela recebeu foi:

- A) 65
- B) 70
- C) 75
- D) 80

### QUESTÃO 16

João é caixa em um banco. Para atender cinco clientes, ele leva em média 60 minutos. Quanto tempo ele gastará, trabalhando nesse ritmo, para atender oito clientes?

- A) 40 minutos
- B) 60 minutos
- C) 65 minutos
- D) 96 minutos

### QUESTÃO 17

Observe a promoção no preço de ventiladores da loja Varejão.



Luciana comprou um desses ventiladores à vista. Quanto ela pagou?

- A) R\$ 45,00
- B) R\$ 60,00
- C) R\$ 105,00
- D) R\$ 195,00

### QUESTÃO 18

Um carpinteiro serra uma tábua de 80 cm em dois pedaços. Se o pedaço menor corresponde à quarta parte do comprimento da tábua, quanto mede esse pedaço?

- A) 20 cm
- B) 40 cm
- C) 60 cm
- D) 80 cm

### QUESTÃO 19

A tabela a seguir apresenta os preços antigos e os novos preços de produtos de um hortifrúti.

Produto	Preço antigo	Preço atual
Banana	R\$ 2,99	R\$ 7,39
Batata doce	R\$ 1,19	R\$ 2,99
Pepino	R\$ 1,79	R\$ 6,99
Quiabo	R\$ 2,39	R\$ 9,39

Fonte: Procon

Com base nos dados apresentados na tabela, o produto que sofreu maior aumento foi

- A) banana.
- B) batata doce.
- C) pepino.
- D) quiabo.

### QUESTÃO 20

Observe o extrato bancário de Cristina durante cinco dias do mês de maio de 2018:

Extrato Bancário – Maio 2018	
Em 21/05 -----	saldo R\$ 1250,00
Em 22/05 -----	saque de R\$ 300,00
Em 23/05 -----	Depósito de R\$ 520,00
Em 24/05 -----	Saque R\$ 280,00
Em 25/05 -----	Depósito R\$ 455,00

De acordo somente com essa movimentação financeira, quanto Cristina terá em sua conta no dia 26/05?

- A) R\$ 1 190,00
- B) R\$ 1 250,00
- C) R\$ 1 470,00
- D) R\$ 1 645,00

## ATUALIDADES

### QUESTÃO 21

O atual nome da cidade, Ervália, foi estabelecido em

- A) 1853, substituindo a sua primeira denominação, São Sebastião dos Aflitos.
- B) 1891, momento em que a cidade se separou do município de Ubá.
- C) 1938, quando se tornou município desmembrado de Viçosa.
- D) 1943, quando teve seu nome mudado de Erval para Ervália.

### QUESTÃO 22

O sítio onde se localiza a cidade de Ervália foi ocupado no final do século XVII, quando bandeirantes passavam por ali em busca de

- A) alimentos para eles próprios.
- B) índios para escravização.
- C) metais preciosos, como o ouro.
- D) pedras preciosas, como as esmeraldas.

### QUESTÃO 23

Considere a charge a seguir.



Disponível em: <<https://www.otempo.com.br/charges/charge-otempo-20-10-2018-1.2057048>>. Acesso em 9 nov. 2018.

A charge se refere à

- A) ampliação de acesso à informação via WhatsApp.
- B) circulação de notícias falsas através do WhatsApp.
- C) necessidade de censura ao serviço de WhatsApp.
- D) superação da imprensa tradicional pelo WhatsApp.

#### QUESTÃO 24

A economia de Ervália é fortemente marcada pela agricultura. Entre os produtos de origem agrícola, conforme dados do IBGE de 2016, o mais importante para a cidade é

- A) o abacate.
- B) a banana.
- C) o café.
- D) o maracujá.

#### QUESTÃO 25

Um dos aspectos que tem chamado atenção das autoridades sanitárias é o avanço da febre amarela em áreas urbanas, já que essa é uma doença eminentemente silvestre. Nas áreas urbanas, a doença é transmitida principalmente através

- A) da manutenção de animais silvestres em cativeiro.
- B) da picada do mosquito *Aedes aegypti*.
- C) do contato com pessoa contaminada.
- D) do contato com animais silvestres, sobretudo macacos.



# FOLHA DE RESPOSTAS (VERSÃO DO CANDIDATO)

1	A	B	C	D	14	A	B	C	D
	<input type="checkbox"/>	<input type="checkbox"/>	<input type="checkbox"/>	<input type="checkbox"/>		<input type="checkbox"/>	<input type="checkbox"/>	<input type="checkbox"/>	<input type="checkbox"/>
2	A	B	C	D	15	A	B	C	D
	<input type="checkbox"/>	<input type="checkbox"/>	<input type="checkbox"/>	<input type="checkbox"/>		<input type="checkbox"/>	<input type="checkbox"/>	<input type="checkbox"/>	<input type="checkbox"/>
3	A	B	C	D	16	A	B	C	D
	<input type="checkbox"/>	<input type="checkbox"/>	<input type="checkbox"/>	<input type="checkbox"/>		<input type="checkbox"/>	<input type="checkbox"/>	<input type="checkbox"/>	<input type="checkbox"/>
4	A	B	C	D	17	A	B	C	D
	<input type="checkbox"/>	<input type="checkbox"/>	<input type="checkbox"/>	<input type="checkbox"/>		<input type="checkbox"/>	<input type="checkbox"/>	<input type="checkbox"/>	<input type="checkbox"/>
5	A	B	C	D	18	A	B	C	D
	<input type="checkbox"/>	<input type="checkbox"/>	<input type="checkbox"/>	<input type="checkbox"/>		<input type="checkbox"/>	<input type="checkbox"/>	<input type="checkbox"/>	<input type="checkbox"/>
6	A	B	C	D	19	A	B	C	D
	<input type="checkbox"/>	<input type="checkbox"/>	<input type="checkbox"/>	<input type="checkbox"/>		<input type="checkbox"/>	<input type="checkbox"/>	<input type="checkbox"/>	<input type="checkbox"/>
7	A	B	C	D	20	A	B	C	D
	<input type="checkbox"/>	<input type="checkbox"/>	<input type="checkbox"/>	<input type="checkbox"/>		<input type="checkbox"/>	<input type="checkbox"/>	<input type="checkbox"/>	<input type="checkbox"/>
8	A	B	C	D	21	A	B	C	D
	<input type="checkbox"/>	<input type="checkbox"/>	<input type="checkbox"/>	<input type="checkbox"/>		<input type="checkbox"/>	<input type="checkbox"/>	<input type="checkbox"/>	<input type="checkbox"/>
9	A	B	C	D	22	A	B	C	D
	<input type="checkbox"/>	<input type="checkbox"/>	<input type="checkbox"/>	<input type="checkbox"/>		<input type="checkbox"/>	<input type="checkbox"/>	<input type="checkbox"/>	<input type="checkbox"/>
10	A	B	C	D	23	A	B	C	D
	<input type="checkbox"/>	<input type="checkbox"/>	<input type="checkbox"/>	<input type="checkbox"/>		<input type="checkbox"/>	<input type="checkbox"/>	<input type="checkbox"/>	<input type="checkbox"/>
11	A	B	C	D	24	A	B	C	D
	<input type="checkbox"/>	<input type="checkbox"/>	<input type="checkbox"/>	<input type="checkbox"/>		<input type="checkbox"/>	<input type="checkbox"/>	<input type="checkbox"/>	<input type="checkbox"/>
12	A	B	C	D	25	A	B	C	D
	<input type="checkbox"/>	<input type="checkbox"/>	<input type="checkbox"/>	<input type="checkbox"/>		<input type="checkbox"/>	<input type="checkbox"/>	<input type="checkbox"/>	<input type="checkbox"/>
13	A	B	C	D					
	<input type="checkbox"/>	<input type="checkbox"/>	<input type="checkbox"/>	<input type="checkbox"/>					

AO TRANSFERIR ESSAS MARCAÇÕES PARA A FOLHA DE RESPOSTAS,  
OBSERVE AS INSTRUÇÕES ESPECÍFICAS DADAS NA CAPA DA PROVA.

**USE CANETA ESFEROGRÁFICA AZUL OU PRETA.**

**ATENÇÃO:  
AGUARDE AUTORIZAÇÃO  
PARA VIRAR O CADERNO DE PROVA.**