

**CONCURSO PARA PROVIMENTO DE VAGAS DO QUADRO
PERMANENTE DE PESSOAL DO DEPARTAMENTO MUNICIPAL
ÁGUA E ESGOTO DO MUNICÍPIO DE UBERLÂNDIA**

Edital Nº 01 / 2019

ENGENHEIRO AGRÔNOMO

Código: 404

LEIA COM ATENÇÃO AS SEGUINTE INSTRUÇÕES

1. Este caderno contém as questões da **Prova Objetiva** e a **Proposta de Redação**.
2. Use a Folha de Respostas (Versão do Candidato) reproduzida ao final deste caderno apenas para marcar o Gabarito.
3. Ao receber a **Folha de Respostas da Prova Objetiva**:
 - Confira seu nome, número de inscrição e cargo.
 - Assine, **A TINTA**, no espaço próprio indicado.

4. **ATENÇÃO**: transcreva no espaço apropriado da sua **FOLHA DE RESPOSTAS**, com sua caligrafia usual, mantendo as letras maiúsculas e minúsculas, desconsiderando aspas e autoria, a seguinte frase:

“A alegria de fazer o bem é a única felicidade verdadeira.” Leon Tolstói

ATENÇÃO:

FOLHA DE RESPOSTAS SEM ASSINATURA NÃO TEM VALIDADE.

5. Ao transferir as respostas para a **Folha de Respostas**:

01 • use apenas caneta esferográfica azul ou preta.

02 • preencha, sem forçar o papel, toda a área reservada à letra correspondente à resposta solicitada em cada questão.

03 • assinale somente **uma** alternativa em cada questão.

04 Sua resposta **NÃO** será computada se houver marcação de mais de uma alternativa, questões não assinaladas ou rasuras.

NÃO DEIXE NENHUMA QUESTÃO SEM RESPOSTA.

A **Folha de Respostas** não deve ser dobrada, amassada ou rasurada.

ATENÇÃO: Período de Sigilo – Não será permitido ao candidato se ausentar em definitivo da sala de provas antes de decorridas 2(duas) horas do início das provas. O candidato não poderá fazer anotação de questões ou informações relativas às suas respostas no Comprovante Definitivo de Inscrição (CDI) ou em quaisquer outros meios, que não os permitidos no Edital e especificados na capa da prova. Os candidatos não poderão utilizar-se, em hipótese alguma, de lapiseira, corretivos ou lápis-borracha ou outro material distinto do constante no Edital. Será proibido, durante a realização das provas, fazer uso ou portar, mesmo que desligados, telefone celular, relógios, *paggers*, *beep*, agenda eletrônica, lápis, borracha, corretivo, calculadora, *walkman*, *notebook*, *palmtop*, gravador, transmissor / receptor de mensagens de qualquer tipo ou qualquer outro equipamento eletrônico, podendo a organização deste Concurso Público vetar o ingresso do candidato com outros aparelhos além dos anteriormente citados. Durante o período de realização das provas, não será permitida qualquer espécie de consulta ou comunicação entre os candidatos ou entre estes e pessoas estranhas, oralmente ou por escrito, assim como não será permitido o uso de livros, códigos, manuais, impressos, anotações ou quaisquer outros meios. Durante o período de realização das provas, não será permitido o uso de óculos escuros, boné, chapéu, gorro, lenço ou similares. O candidato não poderá levar o caderno de questões da Prova Objetiva. Será permitido levar somente o rascunho da Folha de respostas da prova objetiva. Não haverá substituição da Folha de Respostas da Prova Objetiva por erro do candidato. Ao término do prazo estabelecido para a prova, os três últimos candidatos deverão permanecer na sala até que o último candidato termine sua prova, devendo todos assinar a Ata de Sala, atestando a idoneidade da fiscalização das provas, retirando-se da sala de prova de uma só vez. As instruções contantes no Caderno de Questões e na Folha de Respostas da Prova Objetiva, bem como as orientações e instruções expedidas pela FUNDEP durante a realização da prova, complementam o Edital e deverão ser rigorosamente observadas e seguidas pelo candidato.

O Caderno de Questões e o Gabarito da Prova Objetiva serão divulgados no endereço eletrônico
<www.gestaodeconcursos.com.br> no dia 11 de fevereiro de 2020.

DURAÇÃO MÁXIMA DA PROVA: 4 (QUATRO) HORAS

ATENÇÃO

Sr.(a) Candidato(a),

Antes de começar a fazer a prova, confira se este caderno contém, ao todo, **45 (quarenta e cinco)** questões de múltipla escolha, cada uma constituída de 4 (quatro) alternativas de respostas, assim distribuídas: 10 (dez) questões de **Português**, 10 (dez) questões de **Raciocínio Lógico**, 5 (cinco) questões de **Atualidades**, 5 (cinco) questões de **Legislação**, 15 (quinze) questões de **Conhecimentos Específicos e Proposta de Redação**, todas perfeitamente legíveis.

Havendo algum problema, informe **imediatamente** ao aplicador de provas para que ele tome as providências necessárias.

Caso não observe essa recomendação, não lhe caberá qualquer reclamação ou recursos posteriores.

PORTUGUÊS

INSTRUÇÃO: Leia o texto I a seguir para responder às questões de 1 a 3.

TEXTO I

“Só Gabriela parecia não sentir a caminhada, seus pés como que deslizando pela picada muitas vezes aberta na hora a golpes de facão, na mata virgem. Como se não existissem as pedras, os tocos, os cipós emaranhados. A poeira dos caminhos da caatinga a cobrira tão por completo que era impossível distinguir seus traços. Nos cabelos já não penetrava o pedaço de pente, tanto pó se acumulara. Parecia uma demente perdida nos caminhos. Mas Clemente sabia como ela era deveras e o sabia em cada partícula de seu ser, na ponta dos dedos e na pele do peito. Quando os dois grupos se encontraram, no começo da viagem, a cor do rosto de Gabriela e de suas pernas era ainda visível e os cabelos rolavam sobre o cangote, espalhando perfume. Ainda agora, através da sujeira a envolvê-la, ele a enxergava como a vira no primeiro dia, encostada numa árvore, o corpo esguio, o rosto sorridente, mordendo uma goiaba.”

AMADO, Jorge. *Gabriela, cravo e canela*. 1958.

QUESTÃO 1

Releia este trecho.

“Ainda agora, através da sujeira a envolvê-la, ele a enxergava como a vira no primeiro dia, encostada numa árvore, o corpo esguio, o rosto sorridente, mordendo uma goiaba”.

Nesse excerto, pode-se identificar a seguinte característica da personagem na obra de Jorge Amado:

- A) A pobreza de Gabriela, que reside em sua condição de sertaneja.
- B) A serenidade de Gabriela, que reside em seu conformismo.
- C) A sujeira de Gabriela, que reside em sua falta de condição financeira.
- D) A sensualidade de Gabriela, que reside em sua simplicidade.

QUESTÃO 2

Releia o trecho a seguir.

“A poeira dos caminhos da caatinga a cobrira tão por completo que era impossível distinguir seus traços.”

O pronome ‘seus’ refere-se aos ‘traços’

- A) da caatinga.
- B) de Gabriela.
- C) da mata virgem.
- D) dos caminhos.

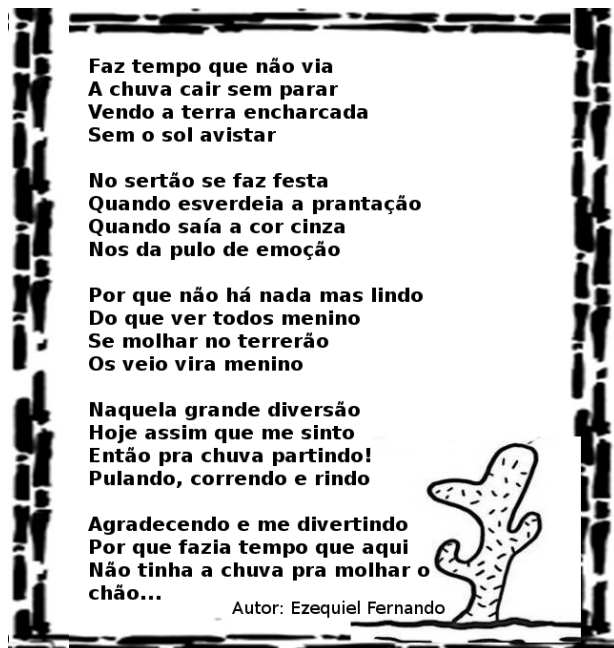
QUESTÃO 3

Todos os excertos a seguir, retirados de distintas obras literárias brasileiras, coincidem em contexto situacional com esse trecho da obra *Gabriela, cravo e canela*, exceto:

- A) “A viagem parecia-lhe sem jeito, nem acreditava nela. Preparara-a lentamente, adiara-a, tornara a prepará-la, e só se resolvera a partir quando estava definitivamente perdido. Podia continuar a viver num cemitério? Nada o prendia àquela terra dura, acharia um lugar menos seco para enterrar-se.” (RAMOS, Graciliano. *Vidas secas*.)
- B) “Pela beira da estrada, viam-se apenas peças esparsas de equipamentos, mochilas e espingardas, cinturões e sabres, jogados a esmo por ali afora, como coisas imprestáveis. Inteiramente só, sem uma única ordenança, o coronel Tamarindo lançou-se desesperadamente, o cavalo a galope, pela estrada-vanguarda. E a artilharia ficou afinal inteiramente em abandono, antes de chegar ao Angico. Os jagunços lançaram-se sobre ela. Era o desfecho. O capitão Salomão tinha apenas em torno meia dúzia de combatentes leais. (CUNHA. Euclides da. *Os sertões*.)
- C) “Uma ressurreição do cemitério antigo – esqueletos radioativos, com o aspecto terroso e o fedor das covas podres [...] Os fantasmas estropiados como que iam dançando, de tão trôpegos e trêmulos, num passo arrastado de quem leva as pernas em vez de ser levado por elas [...] Andavam devagar, olhando para trás, como quem quer voltar. Não tinham pressa em chegar, porque não sabiam aonde iam. Expulsos do seu paraíso por espadas de fogo, iam, ao acaso, em descaminhos, no arrastão dos maus fardos [...] Não tinham sexo, nem idade, nem condição nenhuma. Eram os retirantes. Nada mais”. (ALMEIDA, José Américo de. *A bagaceira*.)
- D) “O pequeno ia no meio da carga, amarrado por um pano aos cabeçotes da cangalha [...] De vez em quando, levantava a mãozinha aos olhos, e fazia rah! Rah! ah! Ah! Numa enrouquecida tentativa de choro [...] Cordulina chegava-se a burra para o consolar, ajeitava-lhe o chapéu de pano na cabeça [...] Chico bento fechava a marcha, com o cacete ao ombro, do qual prendia uma trouxa [...] Na primeira noite, arrancharam-se numa tapera que apareceu junto da estrada, como um pouso que uma alma caridosa houvesse armado ali para os retirantes”. (QUEIROZ, Rachel de. *O quinze*.)

INSTRUÇÃO: Leia o texto II a seguir, “Chuva no sertão”, de Ezequiel Fernando, para responder às questões de 4 a 6.

TEXTO II



Disponível em: <encurtador.com.br/ivxIW>.
Acesso em: 25 out. 2019.

QUESTÃO 4

Sobre a literatura de cordel, assinale a alternativa incorreta.

- A) Trata-se de um gênero textual tipicamente popular, difundido principalmente no Norte e Nordeste do país.
- B) Por ser um gênero literário informal, a literatura de cordel não apresenta métrica e rima.
- C) A presença da oralidade e de elementos regionais é marcante nas obras desse gênero textual.
- D) A linguagem coloquial é amplamente utilizada pelos autores desse gênero textual.

QUESTÃO 5

Releia o trecho a seguir.

“Por que não há nada mas lindo
Do que ver todos menino
Se molhar no terrerão
Os veio vira menino”

As alterações efetuadas adequaram as estrofes à norma-padrão, exceto em:

- A) Porque não há nada mais lindo.
- B) Do que ver todos meninos.
- C) Se molhar no terreirão.
- D) Os velhos viram meninos.

QUESTÃO 6

Releia o trecho a seguir.

“Por que não há nada mas lindo
Do que ver todos menino
Se molhar no terrerão
Os veio vira menino”

Nesse excerto há algumas palavras que, de acordo com a norma-padrão, estão grafadas equivocadamente. No entanto, em duas delas essa variação ortográfica muda sua classe gramatical.

As palavras em que isso ocorre são:

- A) Mas e veio.
- B) Vira e mas.
- C) Terrerão e menino.
- D) Vira e veio.

INSTRUÇÃO: Leia o texto III a seguir, retirado da obra *Gabriela, cravo e canela* para responder às questões de 7 a 10.

TEXTO III

— Bié...
— Seu Nacib...
— Por que “seu” Nacib? Sou seu marido, não seu patrão...

Ela sorriu, arrancou os sapatos, começou a arrumar, os pés descalços. Ele tomou-lhe da mão, repreendeu:

- Não pode mais não, Bié...
- O que?
- Andar sem sapatos. Agora você é uma senhora. Assustou-se:
— Posso não? Andar descalça, de pé no chão?
- Pode não.
- E por que?
- Você é uma senhora, de posses, de representação.
- Sou não, seu Nacib. Sou só Gabriela...
- Vou te educar – tomou-a nos braços, levou-a pra cama.
- Moço bonito...

AMADO, Jorge. *Gabriela, cravo e canela*. 1958.

QUESTÃO 7

As reticências presentes no excerto foram usadas para

- A) identificar citações de terceiros.
- B) indicar continuação de um fato, da fala ou pensamento.
- C) indicar dúvida no que foi ou que ainda será dito.
- D) interromper uma fala ou pensamento.

QUESTÃO 8

Releia o trecho a seguir.

“— **Posso não?** Andar descalça, de pé no chão?”

A seguinte figura de linguagem pode ser percebida na expressão em destaque:

- A) Hipérbole.
- B) Hipérbato.
- C) Eufemismo.
- D) Anáfora.

QUESTÃO 9

Nesse texto, é possível identificar:

- A) A obediência da protagonista quando recebe orientações do marido sobre as regras que a permitirão ser considerada uma “senhora da sociedade”. Entre elas, a submissão ao chefe da família, por tratá-lo como “Seu” Nacib.
- B) A infantilidade e o comodismo da protagonista ao não argumentar a favor de sua liberdade e a suscetibilidade do marido que desconsidera o traço fundamental da liberdade de Gabriela a fim de ajustar-se à sociedade.
- C) Um cenário ambivalente em que se ressalta a importância de um *status* social alcançado por meio do cumprimento de regras e a simplicidade da protagonista, que preza por sua liberdade em detrimento de ser considerada “senhora de representação”.
- D) A mudança na essência de Gabriela, que opta por agir conforme as imposições da sociedade sem questionamentos, como no caso da obediência inquestionável às ordens do marido.

QUESTÃO 10

Releia este trecho.

“Ela sorriu, arrancou os sapatos, começou a arrumar, os pés descalços. Ele tomou-lhe da mão, repreendeu.”

Os verbos utilizados no trecho estão no

- A) pretérito perfeito do indicativo.
- B) pretérito perfeito do subjuntivo.
- C) pretérito imperfeito do indicativo.
- D) pretérito imperfeito do subjuntivo.

RACIOCÍNIO LÓGICO

QUESTÃO 11

Júlio e César participam de uma equipe de treinamento e preparo físico individualizado. Ambos correm e pedalam com regularidade fixa de dias. Júlio corre 3 dias e pedala 1, seguido sempre dos 3 dias que corre, enquanto César corre 7 dias e pedala 3, também seguido dos 7 dias em que corre.

Em um período de 6 meses, em quantos dias Júlio e César estarão pedalando juntos?

- A) 12.
- B) 14.
- C) 18.
- D) 20.

QUESTÃO 12

Em um ferro-velho, há somente carros pretos e brancos. 90% dos carros são pretos e 10% são brancos. Após uma triagem e conferência de todas as peças dos carros, o dono do ferro velho concluiu que alguns carros pretos seriam totalmente destruídos como sucata, no entanto, dos brancos, nenhum viraria sucata. Após alguns carros pretos virarem sucata, dos carros que sobraram no ferro velho, 75% eram pretos.

Qual o percentual aproximado, dos carros pretos que foram destruídos e viraram sucata?

- A) 30%.
- B) 60%.
- C) 67%.
- D) 75%.

QUESTÃO 13

Renato fez um empréstimo emergencial de R\$ 800,00 direto de seu aplicativo do banco. Nessa modalidade de empréstimo, o banco cobra juro a uma taxa mensal de 5% ao mês. Transcorridos exatos dois meses após fazer o empréstimo, ele pagou R\$ 500,00 de sua dívida. Um mês após esse pagamento, Renato pagou todo o restante que faltava.

O valor do último pagamento feito por Renato foi igual a

- A) R\$ 401,10.
- B) R\$ 382,00.
- C) R\$ 442,21.
- D) R\$ 426,10.

QUESTÃO 14

O preço cobrado pelos aplicativos de motorista particular depende de três variáveis: distância percorrida, tempo de viagem e demanda de viagens no horário solicitado pelo usuário. Há também um valor fixo de R\$ 3,00 por viagem solicitada, pago por todos os usuários, independentemente das demais variáveis.

Os valores cobrados são os seguintes:

- R\$ 0,80 por quilômetro rodado;
- R\$ 0,30 por minuto de viagem;
- 6% sobre o valor final da viagem caso a solicitação de motorista ocorra em um horário de grande demanda.

Fábio solicitou um motorista pelo aplicativo de seu celular às 18h, horário de grande demanda, e gastou 25 minutos para fazer o trajeto de sua casa à sua faculdade.

Se ele pagou o valor de R\$ 23,85 ao final da corrida, qual a distância, em quilômetros, de sua casa à faculdade?

- A) 12.
- B) 13.
- C) 14.
- D) 15.

QUESTÃO 15

Um professor de matemática aplicou aos seus alunos uma prova com 30 questões de múltipla escolha, cuja pontuação foi distribuída da seguinte maneira:

- as questões de 1 a 10 tinham valor de 3 pontos;
- as questões de 11 a 20 tinham valor de 4 pontos;
- as questões de 21 a 30 tinham valor de 5 pontos;
- cada questão errada pelo aluno, acarretava uma perda de pontos correspondente a 25% do valor da questão.

A fim de que nenhum aluno tivesse pontuação negativa nessa prova, o professor verificou que a nota final de cada um deles deveria ser somada uma quantidade de pontos, no mínimo, igual a

- A) 3.
- B) 5.
- C) 15.
- D) 30.

QUESTÃO 16

Rui percorreu, correndo, os primeiros quilômetros de uma prova de rua a uma velocidade constante de 12 km/h. Em seguida, sem que ele parasse, percorreu caminhando os quilômetros finais da prova com uma velocidade, também constante, igual a 8 km/h.

Se ele gastou um tempo de 30 minutos para completar toda extensão da prova, então a diferença entre o tempo que ele gastou caminhando e o tempo que ele gastou correndo, nessa ordem, em minutos, é igual a

- A) 2.
- B) 5.
- C) 3.
- D) 6.

QUESTÃO 17

Quatro pilotos, André, Bernardo, Carlos e Danilo, participaram de uma corrida de *kart*. Ao final da corrida, três deles deram entrevistas para um repórter de uma rádio local e disseram o seguinte:

André falou: Carlos ganhou a corrida e Bernardo terminou em 2º lugar.

Bernardo falou: Carlos terminou em 2º lugar e Danilo terminou em 3º.

Carlos falou: Danilo chegou em último lugar e André terminou em 2º.

Se cada um dos pilotos falou uma verdade e uma mentira, não necessariamente nessa ordem, então, supondo que somente os quatro pilotos participaram da corrida, a classificação deles do primeiro ao último colocado, nessa ordem, foi:

- A) André, Bernardo, Carlos e Danilo.
- B) Carlos, André, Danilo e Bernardo.
- C) André, Bernardo, Danilo e Carlos.
- D) Carlos, André, Bernardo e Danilo.

QUESTÃO 18

Todos os domingos, em uma rádio, a programação musical é feita de forma automática por um programa de computador. São tocadas sempre 30 músicas distintas, sendo 10 de *heavy metal*, 10 de *pop rock* internacional e 10 de *rock* nacional. As 30 músicas são escolhidas e tocadas de maneira aleatória pelo programa de computador.

Em um domingo qualquer, a probabilidade de que a primeira e a última música da programação automática sejam de *heavy metal* é igual a

- A) $3/58$.
- B) $3/29$.
- C) $1/435$.
- D) $1/15$.

QUESTÃO 19

Em um clube recreativo de uma cidade, 80 frequentadores assíduos fundaram um grupo com nome de "Quarentões".

No Quarentões, algumas pessoas praticam pelo menos uma das modalidades de esportes oferecidas pelo clube: natação, tênis ou peteca.

Sobre os Quarentões, sabe-se o seguinte:

- 40 pessoas praticam peteca;
- 30 pessoas praticam tênis;
- 40 pessoas praticam natação;
- 18 pessoas praticam natação e peteca;
- 16 pessoas praticam natação e tênis;
- 15 pessoas praticam peteca e tênis;
- 10 pessoas praticam as três modalidades: peteca, tênis e natação.

Entre todas as pessoas que fazem parte do grupo Quarentões, o percentual daquelas que praticam exatamente duas das três modalidades é igual a

- A) 23,75%.
- B) 61,25%.
- C) 87,5%.
- D) 52,5%.

QUESTÃO 20

Entre 2013 e 2015, ocorreram surtos decorrentes de pacientes vindos de outros países, sendo registrados neste período 1 310 casos da doença. O maior número de casos foi registrado nos estados de Pernambuco e Ceará.

Disponível em: <<http://saude.gov.br/saude-de-a-z/sarampo-situacao-epidemiologica>>. Acesso em: 19 out. 2019.

O trecho da reportagem diz respeito aos casos de sarampo registrados no Brasil, no período que vai do ano de 2013 ao ano de 2015.

Nesse período, considerando o número de casos registrados da doença, a média de casos registrados anualmente foi de, aproximadamente,

- A) 262.
- B) 328.
- C) 437.
- D) 655.

ATUALIDADES

QUESTÃO 21

O papa Francisco, ao se reunir com bispos do mundo inteiro para discutir o combate à pedofilia, afirmou que esse “fenômeno escandaloso” compromete a “autoridade moral e a credibilidade ética” da Igreja. Segundo o pontífice, a ‘desumanidade desse fenômeno em nível mundial se torna ainda mais grave e escandalosa na Igreja, porque está em contraste com sua autoridade moral e sua credibilidade ética’. De acordo com o papa, a Igreja seguirá oito diretrizes: tutela das crianças; “seriedade impecável”, com a garantia de que a Santa Sé não poupará esforços para entregar criminosos à Justiça; uma “verdadeira purificação”, sem cair na “armadilha de acusar os outros”; melhorar a formação para o sacerdócio; reforçar as linhas-guia das conferências episcopais; acompanhar as pessoas abusadas; se empenhar no mundo digital; e enfrentar o turismo sexual.

Disponível em: <<https://istoe.com.br/e-hora-de-erradicar-pedofilia-diz-papa-ao-fim-de-cupula/>>. Acesso em: 14 out. 2019 (Adaptação).

Ao afirmar que a pedofilia “compromete a ‘autoridade moral e a credibilidade ética’ da Igreja”, o pontífice reconhece que

- A) os acusados de pedofilia são hereges e, por isso, devem ser presos e excomungados.
- B) os membros da igreja são os únicos capazes de combater a pedofilia em nível mundial.
- C) a má formação para o sacerdócio é a principal responsável pela existência da pedofilia.
- D) a pedofilia é cometida também por membros da igreja, apesar de ser vista como pecado.

QUESTÃO 22

O presidente do Comitê Olímpico Internacional Thomas Bach deu poucas esperanças a quem reivindica um espaço para os eSports nas Olimpíadas: “Não podemos ter no programa olímpico um jogo que promova violência”, disse ele. “Eles, do nosso ponto de vista, são contraditórios aos valores olímpicos e, portanto, não podem ser aceitos”.

Disponível em: <<https://esportes.r7.com/e-sports/outer-space/presidente-do-coi-descarta-esports-nas-olimpiadas-por-conta-de-jogos-violentos-10052019>>. Acesso em: 20 out. 2019 (Adaptação).

Considerando esse contexto, analise as seguintes afirmativas e a relação proposta entre elas.

- I. Ao contrário do que aconteceu nas Olimpíadas do Rio de Janeiro, em 2016, os chamados eSports não serão aceitos nas Olimpíadas de 2020 em Tóquio,

PORQUE

- II. há uma barreira crucial que está impedindo as competições de videogames de ganharem espaço nas Olimpíadas: a violência.

A respeito dessas afirmativas e da relação proposta entre elas, assinale a alternativa correta.

- A) As afirmativas I e II são verdadeiras, e a II é uma justificativa da I.
- B) As afirmativas I e II são verdadeiras, e a II não é uma justificativa da I.
- C) A afirmativa I é verdadeira, e a II é falsa.
- D) A afirmativas I é falsa, e a II é verdadeira.

QUESTÃO 23

Conforme a Pesquisa da Demanda Turística Internacional no Brasil, divulgada pelo Ministério do Turismo, Uberlândia concentrou em 2018 6,2% de todas as viagens de negócios, eventos e convenções realizadas por estrangeiros em Minas Gerais no ano passado. O desempenho se manteve o mesmo de 2017 e foi maior que o registrado em 2016, quando a procura representou 5,7% dos destinos mineiros apurados. Na categoria “Outros motivos”, que desconsidera os turismos de negócios e lazer, o município também figura na segunda posição estadual.

Disponível em: <<https://www.uberlandia.mg.gov.br/2019/09/17/uberlandia-e-destaque-em-mg-na-recepcao-de-turistas-estrangeiros/>>. Acesso em: 11 nov. 2019 (Adaptação).

Considerando esse contexto, avalie as seguintes afirmativas e a relação proposta entre elas.

- I. De acordo com a Pesquisa da Demanda Turística Internacional no Brasil, divulgada pelo Ministério do Turismo, Uberlândia ocupa a 2ª posição como destino de negócios, eventos e convenções em Minas Gerais,

PORQUE

- II. a cidade conta com o maior e mais moderno aeroporto do estado de Minas Gerais e com estradas inteiramente pavimentadas e bem sinalizadas, que garantem a circulação de pessoas e mercadorias de maneira rápida e segura.

A respeito dessas afirmativas, assinale a alternativa correta.

- A) As afirmativas I e II são verdadeiras, e a II é uma justificativa da I.
- B) As afirmativas I e II são verdadeiras, e a II não é uma justificativa da I.
- C) A afirmativa I é verdadeira, e a II é falsa.
- D) A afirmativa I é falsa, e a II é verdadeira.

QUESTÃO 24

A condenação de líderes separatistas da Catalunha nesta segunda-feira gerou uma série de protestos na comunidade autônoma, com o epicentro em Barcelona, onde os atos bloqueiam o El Prat, o principal aeroporto da cidade. Os Mossos (polícia catalã) atacaram uma parte dos manifestantes, que tentaram ultrapassar uma barreira policial. A ação foi convocada pela plataforma Tsunami Democrático, que distribuiu no aeroporto cartões de embarque falsos e convocou a população a ir até o local.

Disponível em: <https://brasil.elpais.com/brasil/2019/10/14/internacional/1571042788_418131.html>. Acesso em: 21 out. 2019 (Adaptação).

A origem do conflito de que trata o texto está no

- A) desejo de emancipação existente em uma região do território espanhol.
- B) comportamento violento da polícia catalã contra os manifestantes franceses.
- C) autoritarismo dos Mossos em relação à condenação de separatistas argelinos.
- D) combate à distribuição de cartões de embarque falsos pelo aplicativo do governo.

QUESTÃO 25

Nem todas as consequências estão claras, já que esta é a primeira vez que alguém abandona o bloco econômico desde sua criação, em 1993. Mas já há previsões do impacto na economia, na política e na sociedade, tanto do Reino Unido quanto da Europa. A polêmica começou em junho de 2016, quando os britânicos votaram por romper com a UE, o chamado 'Brexit' (fusão das palavras 'saída' e 'britânica' em inglês). O resultado expôs uma rixa entre diferentes segmentos da população e causou a queda do primeiro-ministro David Cameron, substituído por Theresa May.

Disponível em: <<https://super.abril.com.br/mundo-estranho/quais-as-consequencias-da-saida-do-reino-unido-da-uniao-europeia/>>. Acessado em: 31 de outubro de 2019 (Adaptação).

Embora as consequências da saída do reino Unidos não estejam claras, a conclusão desse processo implicaria uma série de possíveis desdobramentos no Reino Unido, entre os quais está o(a)

- A) fim da circulação da libra esterlina no território do Reino Unido.
- B) renegociação de tarifas comerciais com os demais países do bloco.
- C) proibição da circulação de britânicos em países da União Europeia.
- D) diminuição da autonomia britânica para firmar acordos comerciais.

LEGISLAÇÃO

QUESTÃO 26

De acordo com o Art. 61 da Lei Orgânica do Município de Uberlândia, ficam assegurados, aos servidores públicos municipais, os seguintes direitos, exceto:

- A) Irredutibilidade do salário, salvo o disposto em convenção ou acordo coletivo.
- B) Décimo terceiro salário, com base na remuneração integral ou no valor da aposentadoria.
- C) Repouso semanal remunerado, preferencialmente aos domingos.
- D) Gozo de férias anuais remuneradas com, pelo menos, dois terços a mais do que o salário normal.

QUESTÃO 27

A função administrativa não é realizada somente de forma centralizada pela Administração Direta. As entidades políticas podem criar entes descentralizados, com personalidade jurídica própria e que formam a Administração Indireta.

Segundo a Lei Orgânica do Município de Uberlândia, a Administração Pública municipal não será indireta quando realizada por

- A) autarquia.
- B) sociedade anônima.
- C) sociedade de economia mista.
- D) empresa pública.

QUESTÃO 28

Segundo o Art. 12 da Lei Complementar municipal nº 40/1992, que dispõe sobre o estatuto dos servidores públicos do município de Uberlândia, suas autarquias, fundações públicas e câmara municipal, são formas de provimento em cargo público, exceto:

- A) Nomeação.
- B) Transposição.
- C) Readaptação.
- D) Redesignação.

QUESTÃO 29

São condutas proibidas ao servidor previstas no Estatuto dos Servidores do município de Uberlândia, exceto:

- A) Exercer quaisquer atividades, inclusive conversas e leituras, que sejam incompatíveis com o exercício do cargo ou função e com o horário de trabalho.
- B) Ausentar-se do serviço durante o expediente, sem prévia autorização do chefe imediato.
- C) Promover manifestação de apreço ou despreço fora do recinto da repartição pública.
- D) Aliciar outro servidor no sentido de filiação a associação profissional, sindical ou partido político.

QUESTÃO 30

O processo disciplinar é o instrumento destinado a apurar a responsabilidade do servidor por infração praticada no exercício de suas atribuições ou que tenha relação com as atribuições do cargo em que se encontre investido.

Sobre as regras previstas no Estatuto dos Servidores do município de Uberlândia acerca do processo disciplinar, assinale com V as afirmativas verdadeiras e com F as falsas.

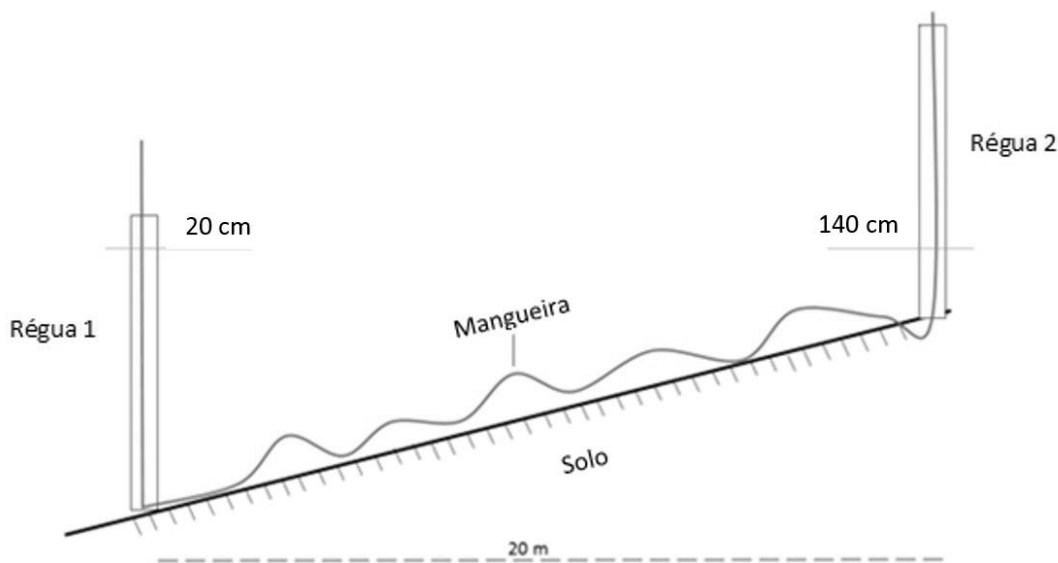
- () O processo disciplinar será conduzido por comissão processante, permanente ou especial, composta de cinco servidores, entre os quais dois advogados, designados pela autoridade competente que indicará, entre eles, o seu presidente.
- () A comissão processante exercerá suas atividades com independência e imparcialidade, assegurado o sigilo necessário à elucidação do fato ou exigido pelo interesse da Administração, assim como, ampla garantia no exercício de suas atribuições.
- () O processo disciplinar será iniciado no prazo de dez dias, contados do recebimento dos autos pela comissão, e concluído no prazo de noventa dias, contados do seu início, admitida a sua prorrogação por igual prazo.
- () No processo disciplinar, a comissão promoverá a tomada de depoimento, acareações, investigações e diligências cabíveis, objetivando a coleta de prova, recorrendo, quando necessário, a técnicos e peritos, de modo a permitir a completa elucidação dos fatos.

Assinale a sequência correta.

- A) F F V V
- B) F V F V
- C) V F F F
- D) V V V F

ENGENHEIRO AGRÔNOMO**QUESTÃO 31**

Considere que um profissional foi contratado para fazer o manejo das sub-bacias hidrográficas do rio Uberabinha e, para isso, decidiu adotar em uma área a técnica dos cordões de vegetação em contorno. Para saber a distância entre cada cordão de vegetação, deve-se calcular a declividade do terreno. Com o auxílio de um ajudante, ele foi a campo utilizando um nível de mangueira e obteve as informações apresentadas na imagem a seguir: leitura do nível da bolha em 20 cm na régua 1 e de 140 cm na régua 2, e distância horizontal entre a régua 1 e a régua 2 de 20 m.



Nesse contexto, qual a declividade do terreno em porcentagem?

- A) 1,2%.
- B) 6%.
- C) 8%.
- D) 12%.

QUESTÃO 32

Segundo a Lei nº 9.605, de 12 de fevereiro de 1998, que dispõe sobre as sanções penais e administrativas derivadas de condutas e atividades lesivas ao meio ambiente e outras providências, há a possibilidade de crimes ambientais contra a flora e fauna serem punidos com pena de reclusão ou retenção.

De acordo com essa Lei, assinale a alternativa na qual o crime ambiental descrito é passível de condenação no regime de reclusão.

- A) Pescar mediante a utilização de explosivos ou substâncias que, em contato com a água, produzam efeito semelhante.
- B) Pescar em período no qual a pesca seja proibida ou em lugares interditados por órgão competente.
- C) Praticar ato de abuso, maus-tratos, ferir ou mutilar animais silvestres, domésticos ou domesticados, nativos ou exóticos.
- D) Extrair de florestas de domínio público ou consideradas de preservação permanente, sem prévia autorização, pedra, areia, cal ou qualquer espécie de minerais.

QUESTÃO 33

Considere que o senhor João possui uma fazenda de 15 hectares (< 1 módulo fiscal) no município de Uberlândia – MG. Toda a área da fazenda possui o uso consolidado com agricultura e pastagens há mais de 20 anos. Dentro da fazenda, há uma nascente que dá origem a um córrego que atravessa a propriedade, e há também uma vereda.

De acordo com o novo Código Florestal (Lei nº 12.651, de 25 de maio de 2012), analise as afirmativas a seguir.

- I. Para se regularizar, o senhor João terá que recompor a área de preservação permanente (APP) das respectivas faixas marginais do córrego em pelo menos 15 metros, contados a partir da borda da calha do leito regular.
- II. A recomposição de matas ciliares não variará de acordo com a largura do rio, mas de acordo com o tamanho da propriedade. Como a propriedade é menor que um módulo fiscal, com relação ao córrego, basta o senhor João recuperar cinco metros de ambas as margens do córrego.
- III. No caso da vereda, o senhor João será obrigado a recompor as faixas marginais, em projeção horizontal, delimitadas a partir do espaço brejoso e encharcado, com largura mínima de 30 metros.
- IV. Devido à grande importância das veredas para a dessedentação dos animais, ficou estabelecido que as áreas de veredas consolidadas até 22 de julho de 2008 não necessitarão de recomposição da APP.
- V. Independentemente do tamanho da propriedade e da situação topográfica, a área de preservação permanente ao redor da nascente deverá ter um raio mínimo de 50 metros. Desta forma, o senhor João deverá recuperar a APP ao redor da sua nascente em pelo menos 50 metros.

De acordo com a situação descrita e com o Novo Código Florestal, estão corretas as afirmativas

- A) I, III e V, apenas.
- B) II e III, apenas.
- C) II e V, apenas.
- D) I, III e IV, apenas

QUESTÃO 34

Analise a afirmativa a seguir.

Em relação à tecnologia de aplicação de produtos fitossanitários, a _____ consiste em ajustar os componentes da máquina às características da cultura e dos produtos a serem utilizados.

Assinale a alternativa que preenche corretamente a lacuna anterior.

- A) calibração
- B) regulagem
- C) pulverização
- D) aplicação

QUESTÃO 35

A interpretação de mapas pedológicos e do sistema de classificação de solos é de fundamental importância para a tomada de decisões sobre usos agrícolas e não-agrícolas dos solos. Em se tratando de usos não-agrícolas, os mapas de solos são documentos importantes no planejamento de cidades, ou em planos diretores, indicando locais para o estabelecimento de espaços para instalação de aterros sanitários, cemitérios, áreas para recreação, áreas para construção de lagoas de decantação, traçado de dutos, cabos e outras estruturas de aço, planejamento inicial de obras como alocação de estradas, entre outros.

Sobre a interpretação pedológica para fins de uso não agrícolas dos solos, assinale com V as afirmativas verdadeiras e com F as falsas.

- () Lagoas de decantação são tanques rasos construídos para armazenar esgoto enquanto se processa a decomposição aeróbica do líquido e dos sólidos. É recomendando que o fundo da lagoa de decantação e os diques sejam bastante permeáveis, desta forma, solos muito arenosos, como os Neossolos Quartarênicos e os Neossolos Regolíticos são considerados ideais para este uso.
- () Solos de textura argilosa, com argila de atividade alta, são, em geral, muito plásticos e pegajosos quando molhados, dificultando a caminhada, além de apresentarem limitações com relação à permeabilidade. Desta forma, não é recomendado o uso desses solos para locais de recreação como acampamentos, piquenique, parquinho de diversões, etc.
- () A corrosão de dutos, cabos e outras estruturas de aço não revestidos nos solos é baseada em alguns fatores como resistividade, acidez total, drenagem interna e textura do solo. Baseado nisso, pode-se afirmar que solos onde os teores de sais são elevados e a drenagem reduzida como nos Planossolos Nátricos os riscos de corrosividade dessas estruturas são elevados.
- () Para a construção de aterros sanitários, deve-se evitar solos rasos que dificultam a escavação como os Neossolos Litólicos e solos que sofrem influência do lençol freático para evitar contaminações como alguns Plintossolos Háplicos.
- () Os Gleissolos, de maneira geral, pela presença do lençol freático próximo ou muito próximo à superfície do terreno e pela situação em planícies aluviais sujeitas a inundações, não são adequados para o estabelecimento de cemitérios, aterros sanitários, lagoas de decantação, áreas para acampamento e recreação.

Assinale a sequência correta.

- A) F F V F V
- B) F V V V V
- C) V V F V F
- D) V F V F F

QUESTÃO 36

No âmbito do Estado de Minas Gerais, as ações administrativas para promover o licenciamento, fiscalização e controle ambientais já há algum tempo são delegadas aos municípios que possuem gestão ambiental mediante convênio, conforme Decreto nº 46.937, de 21 de janeiro de 2016. É atribuição originária do município promover o licenciamento ambiental das atividades ou empreendimentos que causem ou possam causar impacto ambiental de âmbito local listados na DN 213/17 e cumpridos os requisitos desta norma, bem como inseridas no SIMMA. Para os municípios que desejarem assumir o licenciamento, deverá ser respeitada uma série de critérios, dentre eles, que o impacto gerado se restrinja apenas ao seu território. Além disso, é necessário que estes possuam órgão ambiental capacitado e conselho municipal de meio ambiente.

Disponível em: <meioambiente.mg.gov.br/noticias/13-informativo/3053-regularizacao-ambiental-municipal>.
Acesso em: 14 jan. 2020.

De acordo com a DN Copam 213/2017, assinale a alternativa na qual o empreendimento ou atividade não é passível de licenciamento pelo órgão ambiental municipal ficando ainda essa tipologia sob a responsabilidade do órgão ambiental estadual responsável.

- A) Destilação de frações da produção de cachaça (cabeça e cauda) para produção de álcool combustível.
- B) Estação de tratamento de água para abastecimento.
- C) Outorga para a captação de água através de poços tubulares.
- D) Central de recebimento, armazenamento, triagem e / ou transbordo de embalagens plásticas usadas de óleos lubrificantes.

QUESTÃO 37

Considere que um profissional foi acionado para instruir um pequeno agricultor no município de Uberlândia a fazer a calibração do pulverizador costal para aplicação de inseticida em uma lavoura de milho. A bula do inseticida recomenda a aplicação de 50 mL de produto para cada 100 L de água. Para determinar o volume de aplicação, seguiram-se os seguintes procedimentos:

Demarcou-se uma área de 10 m x 10 m (100 m²) na cultura. O pulverizador, com capacidade de 20 L, foi abastecido somente com água e o nível foi marcado no tanque. O pulverizador foi colocado nas costas e a área marcada foi pulverizada. Após a aplicação, o pulverizador foi retirado das costas e mediu-se a quantidade de água necessária para reabastecer o tanque do pulverizador até a marca feita anteriormente, com recipiente graduado. Repetiu-se essa operação por mais duas vezes e calculou-se a média do gasto de água. A média de volume de calda gasto para fazer essa aplicação de calibração foi de 2 L para os 100 m².

Qual será o volume do produto inseticida gasto para pulverizar um talhão de 10 hectares?

- A) 1 L de produto/talhão.
- B) 2 L de produto/talhão
- C) 5 L de produto/talhão.
- D) 10 L de produto/talhão.

QUESTÃO 38

A irrigação é um processo fundamental para o desenvolvimento e produtividade da agricultura, pois seu manejo adequado permite melhorar significativamente os resultados da produção. O sucesso de uma plantação está relacionado a um eficiente projeto de irrigação, que priorize a sustentabilidade por meio do não desperdício de água, e de uma tecnologia que atinja os resultados desejados com bom custo-benefício. Na escolha do método de irrigação a ser usado, devem-se considerar alguns pontos como a uniformidade da superfície do solo, tipo de solo, quantidade e qualidade da água, clima, cultura a ser irrigada e o manejo da irrigação.

Com relação a essa afirmativa e aos métodos de irrigação disponíveis, assinale a alternativa incorreta.

- A) Solos com baixa capacidade de retenção de água exigem irrigações leves e frequentes, pelo qual é considerado de difícil manejo pelo método de irrigação por superfície e de fácil manejo pela irrigação por aspersão e por gotejamento.
- B) No dimensionamento do sistema de irrigação por aspersão, é de fundamental importância conhecer previamente a velocidade de infiltração da água no solo (VIB) com o objetivo de se evitar a aplicação de lâminas de irrigação de intensidade maiores que a capacidade de infiltração do solo, o que poderá levar a formação de enxurrada causando erosão do solo e aumento nos custos de irrigação devido ao desperdício de água e energia elétrica.
- C) Em regiões em que o vento atinge altas velocidades, não deve ser recomendada a irrigação por aspersão, pois haverá muita perda de água por arrastamento pelo vento e alteração do perfil de distribuição dos aspersores, causando baixa uniformidade de distribuição.
- D) A qualidade da água é fator importante na escolha do método de irrigação. Águas com concentrações mais elevadas de cloreto de sódio, quando usadas na irrigação, devem ser utilizadas pelo método de aspersão, ou, em alguns casos, por gotejamento, mas nunca pelo método de superfície, para evitar que haja a salinização do solo e consequente toxidez nas plantas.

QUESTÃO 39

Segundo Gallo *et. al* (2002), o bicho-minheiro (*Leucoptera coffeella*) pode reduzir significativamente a produtividade do cafeeiro. Esse prejuízo resulta da redução da capacidade fotossintética pela destruição e, principalmente, pela queda das folhas. A tomada de decisão quanto ao controle químico deve se basear no nível de controle conforme preconiza o Manejo Integrado de Pragas (MIP).

Com base nesse contexto, assinale a alternativa correta.

- A) O nível de controle, no período seco do ano (julho e agosto), será feito quando forem encontradas 20 folhas com lagartas vivas em um total de 100 folhas amostradas. No período chuvoso, inicia-se o controle quando o nível atingir 40%.
- B) O controle deverá iniciar quando, em um total de 100 folhas amostradas, forem encontradas 25 folhas na metade superior do dossel da planta com a presença de lagartas vivas.
- C) O nível de controle é feito quando, em um total de 100 folhas amostradas, forem encontradas 40 folhas com a presença de lagartas vivas no período seco do ano (julho e agosto), ou 20 folhas com a presença de lagartas vivas no período chuvoso do ano (dezembro, janeiro e fevereiro).
- D) O controle deverá iniciar quando em 10% das folhas forem encontradas a presença de lagartas vivas.

QUESTÃO 40

Sendo o ambiente um bem público, sua manutenção, além da diminuição da poluição, é do interesse de todos. Os impactos dos poluentes oriundos das atividades industriais têm gerado mudanças no meio ambiente e causado desastres climáticos e ecológicos. A gestão ambiental surgiu para tratar da atuação das atividades industriais, visando estabelecer mecanismos de prevenção e controle que possam conter os efeitos causados durante o ciclo de vida econômico do produto.

Sobre a gestão ambiental empresarial, assinale a alternativa correta.

- A) A gestão ambiental empresarial avalia a eficiência do uso dos materiais e a mensuração dos impactos ambientais a fim de obter informações para operacionalização dos 3 Rs: reutilização, redução e reciclagem.
- B) O desenvolvimento sustentável das Nações Unidas indica que a gestão ambiental empresarial é uma combinação entre a contabilidade financeira e a contabilidade de lucros.
- C) A gestão ambiental empresarial foca nos custos externos e repassa os custos internos à sociedade, já que a população é quem utiliza os produtos.
- D) A gestão ambiental empresarial busca o entendimento do equilíbrio entre as complexas relações econômicas e ambientais e não consideram as questões sociais, pois estas não comprometem o desenvolvimento futuro da empresa.

QUESTÃO 41

São vários os fatores que causam a degradação do solo, sendo que alguns deles causam degradação direta e outros contribuem para que esta ocorra. A erosão, por exemplo, tem como causa direta a ação da água e / ou do vento. Essa ação é possível devido às ações antrópicas (desmatamento, corte de encosta etc) e / ou naturais (declividade, textura do solo, etc). O projeto GLASOD (*Global Assessment of Human-induced Soil Degradation*) quantificou o impacto das atividades humanas prejudiciais ao solo e classificou-as em cinco grandes categorias.

Nesse contexto, assinale a alternativa que apresenta o(s) impacto(s) descrito(s) na primeira categoria definida pelo projeto GLASOD.

- A) Desmatamento para a agricultura ou pastagens.
- B) Superexploração da vegetação para uso doméstico.
- C) Atividades (bio)industriais que causam poluição.
- D) Superpastoreio que destrói a camada do solo, causa compactação e acelera a invasão de espécies arbustivas indesejáveis.

QUESTÃO 42

O Brasil se destaca na produção de grãos de milho. Todavia, para se ter boa produtividade, é necessário amplo conhecimento sobre a cultura.

Em relação às doenças que acometem a cultura do milho, assinale a alternativa incorreta.

- A) A ferrugem comum, causada pelo fungo *Puccinia sorghi*, manifesta seus sintomas somente na face adaxial das folhas e caracteriza-se pela presença de pústulas arredondadas ou ovais, com produção de uredósporos de coloração amarelada a castanha.
- B) Para o controle do carvão comum (*Ustilago maydis*), recomenda-se o uso de cultivares resistentes e com bom empalhamento de espiga. Recomenda-se também evitar doses excessivas de nitrogênio, evitar injúria por tratamentos culturais, controlar lagartas que afetam as espigas e fazer rotação de culturas em áreas com alta incidência da doença.
- C) O sintoma da mancha foliar de *Phaeosphaeria* (*Phaeosphaeria maydis*) caracteriza-se, inicialmente, por lesões pequenas e cloróticas. Posteriormente, as lesões tornam-se maiores, com até 2 cm, de formato arredondado a oblongo, com coloração esbranquiçada com bordos escuros.
- D) A ocorrência da podridão do colmo, causada por *Diplodia maydis*, é mais frequente em cultivares suscetíveis plantados sob condições de deficiência hídrica antes da polinização, seguida de período chuvoso. Solos com deficiência de potássio proporcionam aumento da incidência e da severidade da doença.

QUESTÃO 43

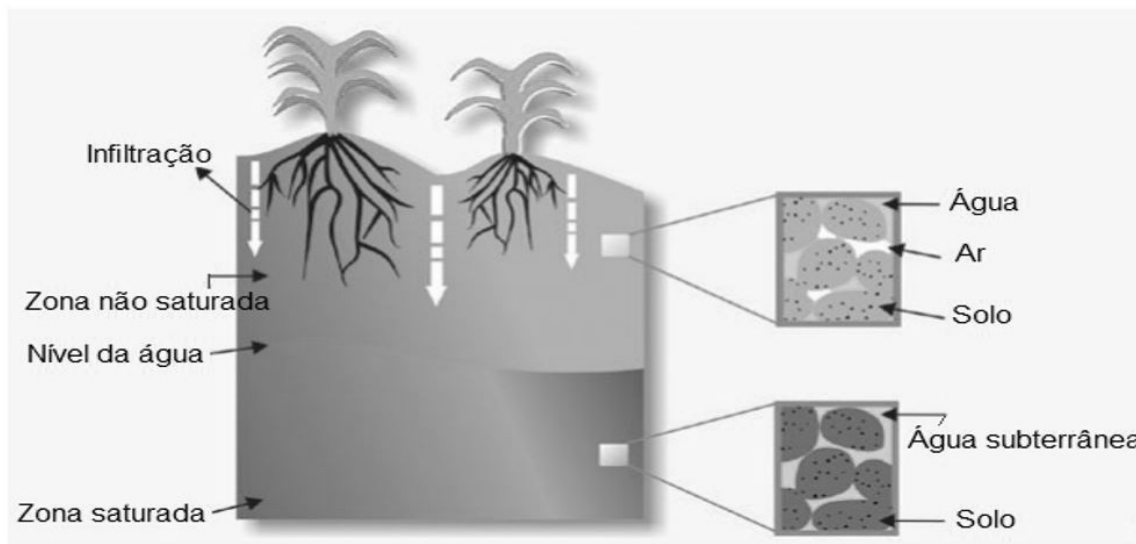
O modelo de desenvolvimento adotado desde a Revolução Industrial trouxe impactos significativos na qualidade de vida dos seres humanos. Desde então, o crescimento econômico tem ocorrido de forma desordenada, sem planejamento e à custa de níveis crescentes de poluição e degradação ambiental. A consciência crítica sobre o modo de vida e a interferência no meio ambiente devem ser repensados por meio da reflexão sobre as ações do homem.

Considerando o tema educação ambiental, sociedade e ambiente, uma forma de desenvolver o pensamento crítico em relação ao meio ambiente é

- A) se comprometendo com a educação ambiental, a fim de fortalecer os conceitos de cidadania sem comprometer o modo de vida daqueles que buscam o mundo capitalista.
- B) impondo a consciência crítica sobre o papel do homem na natureza.
- C) analisando criticamente os direitos e deveres de cada cidadão, mobilizando a participação social e a representatividade do coletivo na busca da melhor qualidade de vida.
- D) definindo ações em busca da sustentabilidade ambiental, que afeta negativamente o crescimento econômico da sociedade atual que tem suas bases em um sistema capitalista.

QUESTÃO 44

Diante da grande expansão das áreas irrigadas no Brasil, torna-se primordial o uso de técnicas que possibilitam o adequado manejo da água no sistema solo-planta-atmosfera. A capacidade de infiltração do solo limita a quantidade de água aplicada em projetos de irrigação, uma vez que a velocidade de infiltração varia de um valor máximo, quando o solo está seco, a um valor mínimo, depois de saturado.



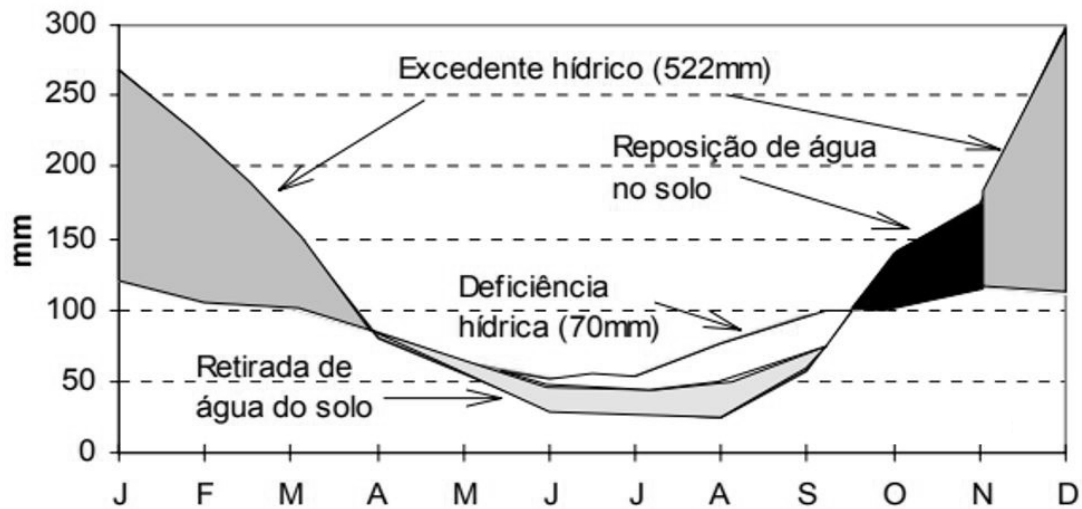
Disponível em: <<http://Ineg.pt/download/3056/fig3.jpg>>. Acesso em: 14 jan. 2020.

Considerando a movimentação de água no perfil do solo, conforme a imagem, assinale a alternativa correta.

- A) A evapotranspiração ocorre no topo da zona saturada, ou seja, na zona onde os espaços entre as partículas de solo contêm tanto ar como água.
- B) A recarga dos aquíferos ocorre quando a infiltração atinge a zona insaturada e passa a contribuir para o aumento da água armazenada.
- C) Na zona saturada, os poros ou fraturas das formações rochosas estão parcialmente preenchidos por água.
- D) A evaporação direta e a evapotranspiração são mecanismos de devolução de água infiltrada no solo para a atmosfera.

QUESTÃO 45

O balanço hídrico refere-se à contabilização da água no solo, e sua representação gráfica tem como objetivo a determinação dos períodos com excedentes ou deficiências deste recurso visando auxiliar as necessidades agrícolas, além da compreensão do ciclo hidrológico local. Na imagem a seguir, é apresentado o balanço hídrico climatológico normal anual da cidade de Ribeirão Preto – SP.



Disponível em: <http://www.leb.esalq.usp.br/aulas/lce306/MeteorAgricola_Apostila2007.pdf>. Acesso em: 14 jan. 2020 (Adaptação).

Com base nas informações apresentadas, assinale a alternativa correta.

- A) A representação do balanço hídrico climatológico normal anual da cidade de Ribeirão Preto – SP é simplificada, pois apresenta em linhas distintas os dados de precipitação, evapotranspiração potencial e evapotranspiração real.
- B) No começo do período seco, o solo tem água suficiente para atender à demanda atmosférica, porém, no final de maio, a precipitação é menor que a evapotranspiração potencial, o que resulta em restrição hídrica.
- C) O período com excedente hídrico indica que as chuvas foram maiores que a evapotranspiração potencial, e esta última é menor que a evapotranspiração real, pois não houve restrição de água no solo.
- D) No começo do período chuvoso, as primeiras precipitações são utilizadas para compor o excedente hídrico e não há reposição de água no solo, pois houve perda da capacidade de campo.

INSTRUÇÕES GERAIS

1. A Redação deverá ser elaborada com, no mínimo, 15 e, no máximo, 30 linhas.
2. O que for escrito além do espaço destinado ao candidato não será considerado, sendo o candidato penalizado pelos problemas de compreensão de sua resposta (PO, M, SV, CC e CP).
3. A redação deverá evidenciar o domínio da linguagem, o aprofundamento do pensamento e a capacidade de argumentação do candidato:

CRITÉRIOS DE AVALIAÇÃO DA PROVA DE REDAÇÃO		
ASPECTOS AVALIADOS	TOTAL DE PONTOS	PONTOS DESCONTADOS POR ERRO
Pontuação, ortografia e apresentação (legibilidade, respeito às margens e indicação de parágrafos) – (PO)	4,0 pontos	0,25
Morfossintaxe (morfologia e sintaxe) – (M)	4,0 pontos	0,25
Seleção vocabular (adequação vocabular e adequação à situação linguística e ausência de marca da oralidade) – (SV)	2,0 pontos	0,50
Coesão e coerência (conexão e relação lógica entre as ideias, assim como sua distribuição entre as partes do texto) – (CC)	5,0 pontos	1,0
Compreensão e conhecimento do conteúdo proposto (relevância e propriedade de resposta à temática e ao tipo de gênero textual solicitado) – (CP)	5,0 pontos	1,0
TOTAL	20 pontos	

4. Na Prova Redação, o candidato somente poderá registrar seu nome, número de inscrição ou assinatura em lugar / campo especificamente indicado, sob pena de anulação da sua prova e consequente eliminação.
5. A Redação receberá nota 0 (zero) se apresentar uma das características a seguir:
 - a) cujo conteúdo versar sobre tema diverso do estabelecido;
 - b) considerada ilegível ou desenvolvida em forma de desenhos, números, versos, com espaçamento excessivo entre letras, palavras e parágrafos, bem como em códigos alheios à norma-padrão da Língua Portuguesa ou em idioma diverso;
 - c) cujo texto apresente qualquer tipo de identificação do candidato;
 - d) que não atingir o número mínimo de 15 linhas estabelecido;
 - e) que for redigida fora do espaço definido;
 - f) que não for escrita com caneta esferográfica de tinta azul ou preta;
 - g) que tiver uso de corretivos;
 - h) que não assinar ou preencher corretamente os dados pessoais do caderno definitivo da prova Redação.

PROPOSTA DE REDAÇÃO

INSTRUÇÃO: Leia os textos I e II a seguir, retirados do site da Prefeitura Municipal de Uberlândia.

TEXTO I

CRESAN aprova novo Plano Municipal de Saneamento Básico

Após realização de consulta no portal da Prefeitura e audiência pública, integrantes do Comitê Técnico ratificaram o documento nessa quinta-feira (24/10)

O Comitê Técnico de Regulação dos Serviços Municipais de Saneamento Básico (Cresan) e a Comissão Executiva aprovaram nesta quinta-feira (24) o novo Plano Municipal de Saneamento Básico (PMSB). Enquanto a Cresan ficou responsável pela coordenação, a Comissão Executiva cuidou da elaboração do documento, feito em cumprimento à Lei Federal 11.445/07.

No mês passado, a versão consolidada do PMSB foi colocada em consulta por 18 dias e, na sequência, foi realizada uma audiência pública. Com a versão aprovada, o plano segue para homologação por decreto.

O Plano Municipal de Saneamento Básico foi instituído pela Lei nº 11.291/2012, [...] e traça as diretrizes do saneamento para os próximos anos. Uberlândia foi a primeira de Minas Gerais a implantar o plano. Na época, o documento não se restringiu às áreas de abastecimento de água e esgoto sanitário, mas também foram inclusos limpeza urbana e manejo de resíduos sólidos, além de drenagem e manejo de águas pluviais urbanas.

Disponível em: <encurtador.com.br/gIU35>. Acesso em: 28 out. 2019 [Fragmento adaptado].

TEXTO II

Plano Municipal de Saneamento Básico

APRESENTAÇÃO

O Comitê Técnico de Regulação dos Serviços Municipais de Saneamento Básico – CRESAN e a Comissão Executiva, responsáveis, respectivamente, pela coordenação e pela elaboração da Revisão do Plano Municipal de Saneamento Básico (PMSB) de Uberlândia, apresentam neste documento o diagnóstico situacional consolidado da gestão dos serviços, abordando os aspectos jurídico-institucionais, administrativos, econômicos, sociais, estruturais, operacionais e de planejamento, contemplando as sugestões e propostas recebidas na consulta pública realizada em dezembro de 2018, o qual constitui a base para a definição das diretrizes, objetivos e metas para a gestão destes serviços e dos programas, projetos e ações que deverão ser implementadas no período de 2019 a 2039.

[...]

Disponível em: <encurtador.com.br/uHMV9>. Acesso em: 28 out. 2019 [Fragmento adaptado].

Tendo como base as informações dos textos motivadores e seus conhecimentos sobre o assunto, **REDIJA UM TEXTO DISSERTATIVO-ARGUMENTATIVO** em norma-padrão da língua portuguesa **salientando a importância da participação popular no PMSB.**

Selecione, organize e relacione, de forma coerente e coesa, argumentos e fatos para a defesa de seu ponto de vista, **tendo em vista, também, as possíveis dificuldades encontradas pelo município de Uberlândia na implantação do Plano Municipal de Saneamento Básico.**

RASCUNHO DA REDAÇÃO

1	
2	
3	
4	
5	
6	
7	
8	
9	
10	
11	
12	
13	
14	
15	
16	
17	
18	
19	
20	
21	
22	
23	
24	
25	
26	
27	
28	
29	
30	

GABARITO

(VERSÃO DO CANDIDATO)

1	A	B	C	D	24	A	B	C	D
	<input type="checkbox"/>	<input type="checkbox"/>	<input type="checkbox"/>	<input type="checkbox"/>		<input type="checkbox"/>	<input type="checkbox"/>	<input type="checkbox"/>	<input type="checkbox"/>
2	A	B	C	D	25	A	B	C	D
	<input type="checkbox"/>	<input type="checkbox"/>	<input type="checkbox"/>	<input type="checkbox"/>		<input type="checkbox"/>	<input type="checkbox"/>	<input type="checkbox"/>	<input type="checkbox"/>
3	A	B	C	D	26	A	B	C	D
	<input type="checkbox"/>	<input type="checkbox"/>	<input type="checkbox"/>	<input type="checkbox"/>		<input type="checkbox"/>	<input type="checkbox"/>	<input type="checkbox"/>	<input type="checkbox"/>
4	A	B	C	D	27	A	B	C	D
	<input type="checkbox"/>	<input type="checkbox"/>	<input type="checkbox"/>	<input type="checkbox"/>		<input type="checkbox"/>	<input type="checkbox"/>	<input type="checkbox"/>	<input type="checkbox"/>
5	A	B	C	D	28	A	B	C	D
	<input type="checkbox"/>	<input type="checkbox"/>	<input type="checkbox"/>	<input type="checkbox"/>		<input type="checkbox"/>	<input type="checkbox"/>	<input type="checkbox"/>	<input type="checkbox"/>
6	A	B	C	D	29	A	B	C	D
	<input type="checkbox"/>	<input type="checkbox"/>	<input type="checkbox"/>	<input type="checkbox"/>		<input type="checkbox"/>	<input type="checkbox"/>	<input type="checkbox"/>	<input type="checkbox"/>
7	A	B	C	D	30	A	B	C	D
	<input type="checkbox"/>	<input type="checkbox"/>	<input type="checkbox"/>	<input type="checkbox"/>		<input type="checkbox"/>	<input type="checkbox"/>	<input type="checkbox"/>	<input type="checkbox"/>
8	A	B	C	D	31	A	B	C	D
	<input type="checkbox"/>	<input type="checkbox"/>	<input type="checkbox"/>	<input type="checkbox"/>		<input type="checkbox"/>	<input type="checkbox"/>	<input type="checkbox"/>	<input type="checkbox"/>
9	A	B	C	D	32	A	B	C	D
	<input type="checkbox"/>	<input type="checkbox"/>	<input type="checkbox"/>	<input type="checkbox"/>		<input type="checkbox"/>	<input type="checkbox"/>	<input type="checkbox"/>	<input type="checkbox"/>
10	A	B	C	D	33	A	B	C	D
	<input type="checkbox"/>	<input type="checkbox"/>	<input type="checkbox"/>	<input type="checkbox"/>		<input type="checkbox"/>	<input type="checkbox"/>	<input type="checkbox"/>	<input type="checkbox"/>
11	A	B	C	D	34	A	B	C	D
	<input type="checkbox"/>	<input type="checkbox"/>	<input type="checkbox"/>	<input type="checkbox"/>		<input type="checkbox"/>	<input type="checkbox"/>	<input type="checkbox"/>	<input type="checkbox"/>
12	A	B	C	D	35	A	B	C	D
	<input type="checkbox"/>	<input type="checkbox"/>	<input type="checkbox"/>	<input type="checkbox"/>		<input type="checkbox"/>	<input type="checkbox"/>	<input type="checkbox"/>	<input type="checkbox"/>
13	A	B	C	D	36	A	B	C	D
	<input type="checkbox"/>	<input type="checkbox"/>	<input type="checkbox"/>	<input type="checkbox"/>		<input type="checkbox"/>	<input type="checkbox"/>	<input type="checkbox"/>	<input type="checkbox"/>
14	A	B	C	D	37	A	B	C	D
	<input type="checkbox"/>	<input type="checkbox"/>	<input type="checkbox"/>	<input type="checkbox"/>		<input type="checkbox"/>	<input type="checkbox"/>	<input type="checkbox"/>	<input type="checkbox"/>
15	A	B	C	D	38	A	B	C	D
	<input type="checkbox"/>	<input type="checkbox"/>	<input type="checkbox"/>	<input type="checkbox"/>		<input type="checkbox"/>	<input type="checkbox"/>	<input type="checkbox"/>	<input type="checkbox"/>
16	A	B	C	D	39	A	B	C	D
	<input type="checkbox"/>	<input type="checkbox"/>	<input type="checkbox"/>	<input type="checkbox"/>		<input type="checkbox"/>	<input type="checkbox"/>	<input type="checkbox"/>	<input type="checkbox"/>
17	A	B	C	D	40	A	B	C	D
	<input type="checkbox"/>	<input type="checkbox"/>	<input type="checkbox"/>	<input type="checkbox"/>		<input type="checkbox"/>	<input type="checkbox"/>	<input type="checkbox"/>	<input type="checkbox"/>
18	A	B	C	D	41	A	B	C	D
	<input type="checkbox"/>	<input type="checkbox"/>	<input type="checkbox"/>	<input type="checkbox"/>		<input type="checkbox"/>	<input type="checkbox"/>	<input type="checkbox"/>	<input type="checkbox"/>
19	A	B	C	D	42	A	B	C	D
	<input type="checkbox"/>	<input type="checkbox"/>	<input type="checkbox"/>	<input type="checkbox"/>		<input type="checkbox"/>	<input type="checkbox"/>	<input type="checkbox"/>	<input type="checkbox"/>
20	A	B	C	D	43	A	B	C	D
	<input type="checkbox"/>	<input type="checkbox"/>	<input type="checkbox"/>	<input type="checkbox"/>		<input type="checkbox"/>	<input type="checkbox"/>	<input type="checkbox"/>	<input type="checkbox"/>
21	A	B	C	D	44	A	B	C	D
	<input type="checkbox"/>	<input type="checkbox"/>	<input type="checkbox"/>	<input type="checkbox"/>		<input type="checkbox"/>	<input type="checkbox"/>	<input type="checkbox"/>	<input type="checkbox"/>
22	A	B	C	D	45	A	B	C	D
	<input type="checkbox"/>	<input type="checkbox"/>	<input type="checkbox"/>	<input type="checkbox"/>		<input type="checkbox"/>	<input type="checkbox"/>	<input type="checkbox"/>	<input type="checkbox"/>
23	A	B	C	D					
	<input type="checkbox"/>	<input type="checkbox"/>	<input type="checkbox"/>	<input type="checkbox"/>					

AO TRANSFERIR ESSAS MARCAÇÕES PARA A FOLHA DE RESPOSTAS,
OBSERVE AS INSTRUÇÕES ESPECÍFICAS DADAS NA CAPA DA PROVA.

USE CANETA ESFEROGRÁFICA AZUL OU PRETA.

**ATENÇÃO:
AGUARDE AUTORIZAÇÃO
PARA VIRAR O CADERNO DE PROVA.**