

**CONCURSO PARA PROVIMENTO DE VAGAS DO QUADRO
PERMANENTE DE PESSOAL DO DEPARTAMENTO MUNICIPAL
ÁGUA E ESGOTO DO MUNICÍPIO DE UBERLÂNDIA**

Edital Nº 01 / 2019

TÉCNICO EM SEGURANÇA DO TRABALHO

Código: 308

LEIA COM ATENÇÃO AS SEGUINTE INSTRUÇÕES

1. Este caderno contém as questões da **Prova Objetiva**.
2. Use a Folha de Respostas (Versão do Candidato) reproduzida ao final deste caderno apenas para marcar o Gabarito.
3. Ao receber a **Folha de Respostas da Prova Objetiva**:
 - Confira seu nome, número de inscrição e cargo.
 - Assine, **A TINTA**, no espaço próprio indicado.

4. **ATENÇÃO**: transcreva no espaço apropriado da sua **FOLHA DE RESPOSTAS**, com sua caligrafia usual, mantendo as letras maiúsculas e minúsculas, desconsiderando aspas e autoria, a seguinte frase:

“A arte é um dos meios que une os homens.” Leon Tolstói

ATENÇÃO:

FOLHA DE RESPOSTAS SEM ASSINATURA NÃO TEM VALIDADE.

5. Ao transferir as respostas para a **Folha de Respostas**:

01 • use apenas caneta esferográfica azul ou preta.

02 • preencha, sem forçar o papel, toda a área reservada à letra correspondente à resposta solicitada em cada questão.

03 • assinale somente **uma** alternativa em cada questão.

04 Sua resposta **NÃO** será computada se houver marcação de mais de uma alternativa, questões não assinaladas ou rasuras.

NÃO DEIXE NENHUMA QUESTÃO SEM RESPOSTA.

A **Folha de Respostas** não deve ser dobrada, amassada ou rasurada.

ATENÇÃO: Período de Sigilo – Não será permitido ao candidato se ausentar em definitivo da sala de provas antes de decorridas 2(duas) horas do início das provas. O candidato não poderá fazer anotação de questões ou informações relativas às suas respostas no Comprovante Definitivo de Inscrição (CDI) ou em quaisquer outros meios, que não os permitidos no Edital e especificados na capa da prova. Os candidatos não poderão utilizar-se, em hipótese alguma, de lapiseira, corretivos ou lápis-borracha ou outro material distinto do constante no Edital. Será proibido, durante a realização das provas, fazer uso ou portar, mesmo que desligados, telefone celular, relógios, *paggers*, *beep*, agenda eletrônica, lápis, borracha, corretivo, calculadora, *walkman*, *notebook*, *palmtop*, gravador, transmissor / receptor de mensagens de qualquer tipo ou qualquer outro equipamento eletrônico, podendo a organização deste Concurso Público vetar o ingresso do candidato com outros aparelhos além dos anteriormente citados. Durante o período de realização das provas, não será permitida qualquer espécie de consulta ou comunicação entre os candidatos ou entre estes e pessoas estranhas, oralmente ou por escrito, assim como não será permitido o uso de livros, códigos, manuais, impressos, anotações ou quaisquer outros meios. Durante o período de realização das provas, não será permitido o uso de óculos escuros, boné, chapéu, gorro, lenço ou similares. O candidato não poderá levar o caderno de questões da Prova Objetiva. Será permitido levar somente o rascunho da Folha de respostas da prova objetiva. Não haverá substituição da Folha de Respostas da Prova Objetiva por erro do candidato. Ao término do prazo estabelecido para a prova, os três últimos candidatos deverão permanecer na sala até que o último candidato termine sua prova, devendo todos assinar a Ata de Sala, atestando a idoneidade da fiscalização das provas, retirando-se da sala de prova de uma só vez. As instruções contantes no Caderno de Questões e na Folha de Respostas da Prova Objetiva, bem como as orientações e instruções expedidas pela FUNDEP durante a realização da prova, complementam o Edital e deverão ser rigorosamente observadas e seguidas pelo candidato.

O Caderno de Questões e o Gabarito da Prova Objetiva serão divulgados no endereço eletrônico
<www.gestaodeconcursos.com.br> no dia 11 de fevereiro de 2020.

DURAÇÃO MÁXIMA DA PROVA: 4 (QUATRO) HORAS

ATENÇÃO

Sr.(a) Candidato(a),

Antes de começar a fazer a prova, confira se este caderno contém, ao todo, **40 (quarenta)** questões de múltipla escolha, cada uma constituída de 4 (quatro) alternativas de respostas, assim distribuídas: 10 (dez) questões de **Língua Portuguesa**, 10 (dez) questões de **Raciocínio Lógico**, 5 (cinco) questões de **Atualidades**, 5 (cinco) questões de **Legislação** e 10 (dez) questões de **Conhecimentos Específicos**, todas perfeitamente legíveis.

Havendo algum problema, informe **imediatamente** ao aplicador de provas para que ele tome as providências necessárias.

Caso não observe essa recomendação, não lhe caberá qualquer reclamação ou recursos posteriores.

INSTRUÇÃO: Leia o texto a seguir, para responder às questões de 1 a 6.

A onça doente

Monteiro Lobato

A onça caiu da árvore e por muitos dias esteve de cama seriamente enferma. E como não pudesse caçar, padecia fome das negras.

Em tais apuros imaginou um plano.

— Comadre irara – disse ela – corra o mundo e diga à bicharia que estou à morte e exijo que venham visitar-me.

A irara partiu, deu o recado e os animais, um a um, principiaram a visitar a onça.

Vem o veado, vem a capivara, vem a cutia, vem o porco do mato.

Veio também o jabuti.

Mas o finório jabuti, antes de penetrar na toca, teve a lembrança de olhar o chão. Viu na poeira só rastros entrantes, não viu nenhum rastro sainte. E desconfiou:

— Hum!... Parece que nesta casa quem entra não sai. O melhor, em vez de visitar a nossa querida onça doente, é ir rezar por ela...

E foi o único que se salvou.

Disponível em: <encurtador.com.br/hALX1>.
Acesso em: 25 out. 2019.

QUESTÃO 1

Esse texto é

- A) uma crônica.
- B) uma lenda.
- C) um conto.
- D) uma fábula.

QUESTÃO 2

De acordo com o texto, assinale a alternativa incorreta.

- A) Caso a onça não estivesse enferma, não precisaria articular o plano de chamar os bichos para visitá-la.
- B) Os animais obedeciam às demandas da onça.
- C) O jabuti salvou-se por si mesmo.
- D) O plano da onça não foi bem-sucedido, já que ela não conseguiu cumprir seu objetivo quando o jabuti se mostrou mais esperto.

QUESTÃO 3

Considere as afirmativas a seguir.

- I. A onça caiu da árvore em consequência de ter ficado seriamente enferma.
- II. A onça não podia caçar, todavia, padecia de fome.
- III. O jabuti não viu rastro sainte, portanto desconfiou.

Está(ão) correta(s) a(s) afirmativa(s)

- A) I e II, apenas.
- B) II, apenas.
- C) I e III, apenas.
- D) III, apenas.

QUESTÃO 4

Releia o trecho a seguir.

“Viu na poeira só rastros entrantes, não viu nenhum rastro sainte.”

As palavras *entrante* e *sainte* são formadas a partir do processo de

- A) aglutinação.
- B) derivação prefixal.
- C) derivação sufixal.
- D) derivação parassintética.

QUESTÃO 5

Todas as palavras ou locuções destacadas a seguir se referem a adjetivos, exceto:

- A) “A onça caiu da árvore e por muitos dias esteve de cama seriamente **enferma**.”
- B) “Em tais **apuros**, imaginou um plano.”
- C) “Mas o **finório** jabuti, antes de penetrar na toca, teve a lembrança de olhar o chão.”
- D) “Viu na poeira só rastros **entrantes**, não viu nenhum rastro sainte.”

QUESTÃO 6


Releia a sentença.

“Mas o finório jabuti, antes de penetrar na toca, teve a lembrança de olhar o chão.”

A oração pode ser reescrita da seguinte maneira, sem alteração de seu significado:

- A) Mas o néscio jabuti, antes de penetrar na toca, teve a lembrança de olhar o chão.
- B) Mas o ladino jabuti, antes de penetrar na toca, teve a lembrança de olhar o chão.
- C) Mas o insigne jabuti, antes de penetrar na toca, teve a lembrança de olhar o chão.
- D) Mas o ilustre jabuti, antes de penetrar na toca, teve a lembrança de olhar o chão.

INSTRUÇÃO: Analise o texto a seguir para responder às questões de 7 a 9.



Disponível em: <encurtador.com.br/mrwB8>.
Acesso em: 25 out. 2019.

QUESTÃO 7

O texto se trata de um(a)

- A) publicidade.
- B) charge.
- C) cartum.
- D) logotipo.

QUESTÃO 8

A expressão “amigo da onça”, utilizada no texto, significa

- A) pessoa ladra, gatuno.
- B) amigo muito querido, grande amigo.
- C) aquele que é ébrio, bebedor.
- D) falso amigo, amigo-urso.

QUESTÃO 9

Releia este trecho.

“Aprecie com moderação”

O único verbo encontrado no texto está no modo

- A) indicativo.
- B) imperativo.
- C) subjuntivo.
- D) infinitivo.

QUESTÃO 10

Está correto o uso de crase na seguinte alternativa:

- A) A nova receita da cervejaria BR BREW foi produzida para celebrar à chegada do verão.
- B) Com um visual rosa de médio à intenso, a nova bebida reproduz as cores das frutas inseridas na receita.
- C) Aderir à essa nova receita no portfólio aumenta a abrangência da empresa.
- D) As seguintes características referem-se à nova cerveja: uma refrescante *Catharina Sour* com adição de goiaba, cereja e hibisco.

RACIOCÍNIO LÓGICO

QUESTÃO 11

No ano de 1985, o pai de Vítor disse a ele o seguinte: “Se neste ano meu pai estivesse vivo, a idade dele seria a soma da sua idade com o dobro da minha, ou seja, 79 anos”.

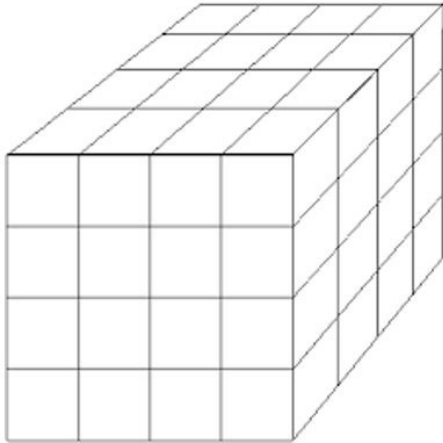
Anos se passaram até que Vítor resolveu calcular qual era a idade de seu pai quando, em 1985, ele havia lhe dito isso.

Foi então que Vítor, no ano de 2019, já com 41 anos completos descobriu, corretamente, que a idade de seu pai no ano de 1985 era

- A) 29 anos.
- B) 34 anos.
- C) 36 anos.
- D) 41 anos.

QUESTÃO 12

Na figura a seguir, o cubo maior é constituído por 64 cubinhos idênticos.



O cubo maior terá todas as suas faces totalmente pintadas com tinta de mesma cor. Após as faces do cubo serem pintadas, a razão entre o número de cubinhos que não terão nenhuma das suas faces pintadas e o número dos que terão pelo menos uma de suas faces pintadas é igual a

- A) $\frac{1}{7}$.
- B) $\frac{1}{8}$.
- C) $\frac{1}{16}$.
- D) $\frac{1}{14}$.

QUESTÃO 13

Após assaltarem um posto de gasolina, os ladrões saíram em um carro com velocidade constante igual a 100 km/h. Após exatos 30 minutos que os ladrões saíram em fuga, a polícia começou a perseguição a eles em uma viatura com velocidade constante de 120 km/h.

Se o carro dos ladrões e a viatura policial mantiveram suas velocidades constantes, quanto tempo após começarem a perseguição, a viatura policial alcançará o carro dos ladrões?

- A) 2 horas e 20 minutos.
- B) 2 horas e 30 minutos.
- C) 2 horas e 40 minutos.
- D) 2 horas e 50 minutos.

QUESTÃO 14

A primeira fase, correspondente à prova escrita de um concurso para provimento de cargo público, será realizada em um sábado. Já a segunda fase desse concurso ocorrerá 57 dias após a primeira.

Logo, o dia da semana em que ocorrerá a segunda fase desse concurso é um(a)

- A) sábado.
- B) domingo.
- C) segunda-feira.
- D) terça-feira.

QUESTÃO 15

O diretor do museu do futebol de uma capital brasileira resolveu organizar o número de visitantes que passavam por lá em cada um dos cinco dias de visitaç o da semana. Todos os resultados obtidos foram contabilizados em uma tabela. As quatro entradas di rias s o dispostas da esquerda para a direita nas colunas, enquanto os cinco dias da semana em que acontecem as visitas foram colocados de cima para baixo nas linhas.

20	25	15	22
24	22	19	26
12	30	33	28
18	32	25	25
26	28	12	18

O elemento da quarta linha e terceira coluna, 25, corresponde ao n mero de pessoas que visitaram o museu no 4  dia da semana e no 3  hor rio de visitaç o do dia.

O n mero total de visitaç es ao museu que aconteceram ao longo dos cinco dias da semana, no segundo hor rio de visitaç o   igual a

- A) 84.
- B) 91.
- C) 119.
- D) 137.

QUESTÃO 16

M rio gasta, exatamente, 20% do seu s lario mensal com o aluguel de sua casa.

Se, em um determinado m s, o s lario de M rio tiver um reajuste (aumento) correspondente a 50% e, nesse mesmo m s, o valor do aluguel de sua casa tiver um aumento de 20%, o percentual de seu s lario que ele gastar  com o aluguel ser  igual a

- A) 15%.
- B) 16%.
- C) 22%.
- D) 24%.

QUESTÃO 17

Cada 20 gotas de um medicamento correspondem ao equivalente de 1 mL. No rótulo desse medicamento, há a indicação de que o princípio ativo tem uma concentração de 2,5 mg/mL, ou seja, cada 1 mL do medicamento contém 2,5 mg de princípio ativo. Um médico prescreveu a seu paciente a ingestão de, exatamente, 6,0 mg do princípio ativo desse remédio todos os dias pela manhã.

Para que esse paciente siga, rigorosamente, a prescrição do médico, ele deve ingerir pela manhã uma quantidade, em gotas, do medicamento igual a

- A) 40.
- B) 44.
- C) 48.
- D) 52.

QUESTÃO 18

Uma empresa decidiu criar um sistema de pontuação que era proporcional à produtividade de seus funcionários. Ou seja, se um funcionário, de acordo com os parâmetros da empresa, de um mês para outro dobrasse sua produção, dentro das mesmas condições de trabalho, a sua pontuação também seria dobrada.

Maria e Rute são duas funcionárias dessa empresa. Elas trabalham na mesma função, cumprindo a mesma jornada de trabalho, no entanto, a pontuação de Rute, em todos os meses, é 25% maior que a pontuação de Maria.

Mantendo cada uma a mesma produtividade, se em um dia de trabalho, Maria executa um serviço em 12 horas, Rute cumpre esse mesmo serviço num tempo igual a

- A) 9 horas e 25 minutos.
- B) 9 horas e 36 minutos.
- C) 10 horas.
- D) 10 horas e 24 minutos.

QUESTÃO 19

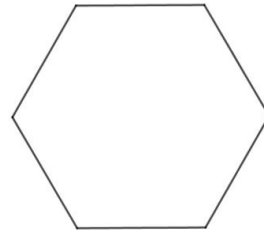
Em um lava-jato, Romário lava dez carros no tempo de 4 horas. Já Bebeto, menos experiente que Romário, lava os mesmos dez carros nas mesmas condições, em um tempo de 6 horas.

Se Romário e Bebeto trabalharem juntos, eles lavarão esses dez carros em um tempo igual a

- A) 2 horas e 40 minutos.
- B) 2 horas e 24 minutos.
- C) 5 horas.
- D) 5 horas e 30 minutos.

QUESTÃO 20

Em uma escola de educação infantil, no espaço destinado para jogos e brincadeiras, foi desenhado no chão a forma geométrica de um hexágono regular como o da figura a seguir.



O desenho do hexágono é fixo no chão, no entanto, seus lados são cobertos por peças coloridas, cada lado uma peça, de tal forma que as cores dos lados podem variar de acordo com a disposição das peças.

Se existem sete peças de cores distintas para serem colocadas sobre cada lado do hexágono, qual o número total de formas diferentes que se pode colocar essas peças sobre esses lados?

- A) 120.
- B) 720.
- C) 2520.
- D) 5040.

ATUALIDADES

QUESTÃO 21

Os especialistas explicam que a expansão das principais facções criminosas do país, o Primeiro Comando da Capital (PCC) e o Comando Vermelho (CV), rumo ao Norte e Nordeste, resultou em uma guerra entre elas dentro dos presídios. “O ano de 2017 começou com matanças nos presídios no Amazonas, Rio Grande do Norte e Roraima. O sistema ficou muito conflagrado, porque se imaginava depois dessas três ondas um efeito dominó”, explica Paes Manso, coautor do livro *A guerra: a ascensão do PCC e o mundo do crime no Brasil*. A guerra nos presídios teve reflexos nas ruas, acirrando os conflitos e elevando os índices de criminalidade daquele ano. Mas, com o tempo, a tensão entre os grupos rivais começou a diminuir a partir de armistícios e pactos de não agressão.

Disponível em: <https://brasil.elpais.com/brasil/2019/07/20/politica/1563625750_156154.html>. Acesso em: 26 out. 2019.

De acordo com o texto, a tendência de queda da violência no Brasil, que começou no início de 2018, pode ser explicada

- A) pela própria dinâmica do mercado do crime.
- B) pelas ações oficiais tomadas pelo Governo Federal.
- C) pela extinção das principais facções criminosas do país.
- D) pelo aumento da tensão entre os grupos criminosos rivais.

QUESTÃO 22

Analise a afirmativa a seguir.

“Para você ter queimada natural, você precisa da existência de raios.”

Disponível em: <<https://g1.globo.com/natureza/noticia/2019/08/19/queimadas-aumentam-82percent-em-relacao-ao-mesmo-periodo-de-2018.ghtml>>. Acesso em: 26 out. 2019.

A declaração do pesquisador do Programa Queimadas do Inpe, Alberto Setzer, corrobora com a tese de que parte das queimadas que atingiram o Brasil em meados de 2019

- A) tiveram início na fronteira do estado do Amazonas com a Venezuela, resultado das ações criminosas de pessoas ligadas ao presidente Nicolás Maduro.
- B) são fenômenos naturais que acontecem especialmente na região Norte do Brasil, que anualmente apresenta os menores índices pluviométricos do país.
- C) foram provocadas por ações humanas, já que, nesse período, as regiões mais afetadas por essas queimadas encontravam-se em um prolongado período de seca.
- D) ocorreram devido à cultura dos povos indígenas da Amazônia de queimar áreas para “limpar” o terreno para o cultivo, prática que se configura criminosa, segundo a lei de Crimes Ambientais.

QUESTÃO 23

O MPF (Ministério Público Federal) entrou com uma ação contra a União por omissão no desastre das manchas de óleo no Nordeste. A Procuradoria pede que, em 24 horas, seja colocado em ação o Plano Nacional de Contingência para Incidentes de Poluição por Óleo em Água. Segundo o MPF, trata-se do maior desastre ambiental da história no litoral brasileiro em termos de extensão. Para a Procuradoria, a União está sendo omissa por protelar medidas protetivas e não atuar de forma articulada na região atingida pelos vazamentos.

Disponível em: <<https://www1.folha.uol.com.br/ambiente/2019/10/procuradoria-entra-com-acao-para-que-governo-acione-plano-de-incidentes-com-oleo.shtml>>. Acesso em: 21 de out. 2019 (Adaptação).

A situação descrita na notícia tem provocado muito debate acerca das responsabilidades no processo de preservação ambiental.

Nesse contexto, são ações que, obrigatórias ou não, colaboram com a proteção dos ecossistemas, exceto:

- A) Corte de investimentos públicos em iniciativas comprometidas com a conscientização ambiental.
- B) Limpeza manual das praias, efetuada por turistas, habitantes e trabalhadores das áreas afetadas.
- C) Fortalecimento da legislação ambiental, visando à responsabilização efetiva de agentes degradantes.
- D) Aumento da fiscalização dos órgãos responsáveis, a fim de apurar falhas administrativas.

QUESTÃO 24

O Papa Francisco fez, na manhã do dia 13 de outubro de 2019, a canonização de Irmã Dulce, a Santa Dulce dos Pobres. 50 mil pessoas acompanharam a cerimônia na Praça São Pedro, no Vaticano. A presença de brasileiros foi bastante visível, com bandeiras do país e pessoas com roupas das cores verde e amarela.

Disponível em: <<https://www.gazetadopovo.com.br/republica/irma-dulce-santa-dulce-dos-pobres-papa/>>. Acesso em: 14 out. 2019 (Adaptação).

A canonização de Irmã Dulce foi vista pelos membros da igreja católica do Brasil como um marco na história do cristianismo no país, uma vez que

- A) garante a candidatura de um brasileiro nas próximas eleições papais.
- B) assegura um prêmio em dinheiro aos cofres da igreja católica no Brasil.
- C) faz da religiosa baiana a primeira mulher nascida no Brasil a se tornar santa.
- D) eleva o Brasil à categoria de membro permanente na cúpula da igreja em Roma.

QUESTÃO 25

“O Ministério Público Federal (MPF) e a mineradora Vale fecharam um Termo de Ajuste Preliminar Extrajudicial (TAP-E) que assegura direitos a indígenas atingidos na tragédia de Brumadinho (MG). O TAP-E Pataxó, como foi apelidado o acordo, estabelece que os indígenas das etnias Pataxó e Pataxó Hã Hã deverão receber um pagamento mensal emergencial em moldes similares ao compromisso assumido pela Vale com moradores de Córrego do Feijão e do Parque da Cachoeira, comunidades que foram afetadas pelo rompimento da barragem da Mina Feijão, em Brumadinho.”

Disponível em: <<https://www.hojeemdia.com.br/horizontes/%C3%ADndios-atingidos-em-brumadinho-fecham-acordo-com-a-vale-1.705715>>. Acesso em: 2 nov. 2019.

O TAP-E Pataxó reconhece os indígenas das etnias Pataxó e Pataxó Hã Hã Hã como vítimas indiretas do rompimento da barragem I da Mina Feijão, em Brumadinho, uma vez que eles

- A) tiveram suas aldeias e roças destruídas pela lama, que também intoxicou dezenas de animais e crianças.
- B) dependiam do Rio Paraopeba, que foi atingido pelos rejeitos oriundos do rompimento da barragem da Vale.
- C) trabalhavam com mineração de ouro nas terras onde se localizava a barragem I da Mina Feijão, em Brumadinho.
- D) viviam na periferia de Brumadinho, cidade que foi devastada pela onda de rejeitos causada pelo rompimento.

LEGISLAÇÃO

QUESTÃO 26

Sobre os objetivos prioritários do município de Uberlândia previstos na Lei Orgânica, assinale com V as afirmativas verdadeiras e com F as falsas.

- () É objetivo prioritário do município promover adequado ordenamento territorial, de modo a assegurar a qualidade de vida de sua população, incentivando-se o êxodo rural e a integração urbana.
- () É objetivo prioritário do município promover planos, programas e projetos de interesse dos segmentos mais carentes da sociedade, realizando a desapropriação de área rural para fins de reforma agrária.
- () É objetivo prioritário do município promover o desenvolvimento econômico com justa distribuição de renda entre todos os segmentos da população.
- () É objetivo prioritário do município garantir a participação popular nas ações de governo.

Assinale a sequência correta.

- A) F F V V
- B) F V F V
- C) V F F F
- D) V V V F

QUESTÃO 27

Analise a afirmativa a seguir.

Segundo o Art. 76 da Lei Orgânica do Município de Uberlândia, os Poderes Legislativo e Executivo são obrigados a fornecer, a qualquer interessado, no prazo máximo de _____, certidões de atos, contratos e decisões, sob pena de responsabilidade da autoridade ou servidor público municipal que negar ou retardar sua expedição, assim como atender às requisições judiciais em igual prazo, se outro não for fixado pelo requisitante.

Assinale a alternativa que completa corretamente a lacuna anterior.

- A) dez dias.
- B) 15 dias.
- C) 30 dias.
- D) 90 dias.

QUESTÃO 28

Considere que uma pessoa tomou posse como servidor público do município de Uberlândia.

Nos termos do Art. 61 da Lei Orgânica do Município de Uberlândia, são direitos assegurados a essa pessoa, exceto:

- A) Décimo-terceiro salário, com base na remuneração integral ou no valor da aposentadoria.
- B) Proibição de diferença de salários, de exercício de função e de critério de admissão, salvo se por motivo de sexo, idade, cor ou estado civil.
- C) Remuneração do trabalho noturno superior ao do diurno.
- D) Salário-família para os seus dependentes.

QUESTÃO 29

De acordo com o Art. 26 da Lei Complementar municipal nº 40/1992, que dispõe sobre o estatuto dos servidores públicos do município de Uberlândia, suas autarquias, fundações públicas e câmara municipal, o servidor habilitado em concurso público e empossado em cargo de provimento efetivo adquirirá estabilidade no serviço público ao completar quantos anos de efetivo exercício?

- A) Dois.
- B) Três.
- C) Quatro.
- D) Cinco.

QUESTÃO 30

São tipos de penalidades disciplinares previstas no Estatuto dos Servidores do município de Uberlândia, exceto:

- A) Advertência.
- B) Suspensão.
- C) Admoestação.
- D) Cassação de aposentadoria.

CONHECIMENTOS ESPECÍFICOS

TÉCNICO EM SEGURANÇA DO TRABALHO

QUESTÃO 31

Analise, a seguir, as normas de segurança do trabalho em atividades de transporte de sacas.

- I. Denomina-se, para fins de aplicação dessa regulamentação, "Transporte manual de sacos" toda atividade realizada de maneira contínua ou descontínua, essencial ao transporte manual de sacos, na qual o peso da carga é suportado, integralmente, por um só trabalhador, compreendendo também o levantamento e sua deposição.
- II. Fica estabelecida a distância máxima de 60 m para o transporte manual de um saco.
- III. O transporte de descarga deverá ser realizado mediante impulsão de vagonetes, carros, carretas, carros de mão apropriados ou qualquer tipo de tração mecanizada.
- IV. O transporte manual de sacos, por meio de pranchas, sobre vãos superiores a 1 m ou mais de extensão é permitido.

Estão corretas as afirmativas

- A) I, II e III, apenas.
- B) II, III e IV, apenas.
- C) I, II e IV, apenas.
- D) I, III e IV, apenas

QUESTÃO 32

A ergonomia se apoia em diversas áreas do conhecimento humano.

O caráter aplicado da ergonomia se configura na adaptação do

- A) trabalhador e das ferramentas às características e necessidades do ambiente.
- B) ambiente e dos trabalhadores às necessidades do processo produtivo.
- C) posto de trabalho e do ambiente às características e necessidades do trabalhador.
- D) processo e das técnicas às condições do ambiente laboral.

QUESTÃO 33

Na Norma Regulamentadora 15, a eliminação ou neutralização da insalubridade deverá ocorrer com a adoção de medidas de ordem geral que conservem o ambiente de trabalho dentro dos limites de tolerância e com a adoção de

- A) equipamento de proteção individual.
- B) equipamento de proteção coletivo.
- C) dispositivos e máquinas.
- D) proteção contra ruídos e vibrações.

QUESTÃO 34

Com relação à NR 33, que trata de ambientes de espaços confinados, cabe ao trabalhador

- A) acompanhar a implementação das medidas de segurança e saúde dos trabalhadores das empresas contratadas provendo os meios e condições para que eles possam atuar em conformidade com esta NR.
- B) identificar os espaços confinados existentes no estabelecimento.
- C) garantir informações atualizadas sobre os riscos e medidas de controle antes de cada acesso aos espaços confinados.
- D) comunicar ao vigia e ao supervisor de entrada as situações de risco para sua segurança e saúde ou de terceiros que sejam do seu conhecimento.

QUESTÃO 35

Analise os itens a seguir relativos às normas legais e administrativas em vigor e que envolvem a utilização dos EPIs.

- I. Seleção do EPI adequado tecnicamente ao risco a que o trabalhador está exposto e à atividade exercida, considerando-se a eficiência necessária para o controle da exposição ao risco e o conforto oferecido, segundo avaliação do técnico de segurança.
- II. Programa de treinamento dos trabalhadores quanto à sua correta utilização e orientação sobre as limitações de proteção que o EPI oferece.
- III. Estabelecimento de normas ou procedimentos para promover o fornecimento, o uso, a guarda, a higienização, a conservação, a manutenção e a reposição do EPI, visando garantir os custos.
- IV. Caracterização das funções ou atividades dos trabalhadores, com a respectiva identificação dos EPIs utilizados para os riscos ambientais.

Estão corretas os itens

- A) I e IV, apenas.
- B) II e III, apenas.
- C) II e IV, apenas.
- D) I, II, III e IV.

QUESTÃO 36

O ambiente com ruído ultrapassando a média de 80 dB(A) em oito horas de exposição pode provocar no trabalhador

- A) irritação.
- B) surdez.
- C) cansaço.
- D) estresse.

QUESTÃO 37

O exame médico periódico deve ser repetido de acordo com os intervalos mínimos de tempo em cada situação.

A esse respeito, relacione a COLUNA II com a COLUNA I, associando a modalidade a seu respectivo tempo, conforme descrito na NR 7.

COLUNA I

1. Trabalhadores expostos a riscos ou a situações de trabalho que impliquem o desencadeamento ou agravamento de doença ocupacional ou, ainda, para aqueles que sejam portadores de doenças crônicas.
2. Demais trabalhadores.

COLUNA II

- () A cada ano ou a intervalos menores a critério do médico encarregado ou se notificado pelo médico agente da inspeção do trabalho ou, ainda, como resultado de negociação coletiva de trabalho.
- () Anual, quando os trabalhadores são menores de 18 anos e maiores de 45 anos de idade.
- () De acordo com a periodicidade especificada no Anexo nº 6 da NR 15, para os trabalhadores expostos a condições hiperbáricas.
- () A cada dois anos, para os trabalhadores entre 18 anos e 45 anos de idade.

Assinale a sequência correta.

- A) 1 1 2 2
- B) 2 1 2 1
- C) 1 2 1 2
- D) 2 2 1 1

QUESTÃO 38

Nos locais de manuseio de explosivos, as matérias-primas que ofereçam risco de explosão devem permanecer nas quantidades mínimas possíveis, admitindo-se que o máximo de tempo de permanência desse material nesses locais é de

- A) duas horas.
- B) quatro horas.
- C) seis horas.
- D) oito horas.

QUESTÃO 39

Quando a altura da superfície de trabalho não for ajustável, é melhor dimensioná-las de acordo com a altura do usuário. A altura da superfície de trabalho deverá ser, em relação à altura do usuário,

- A) mais baixa.
- B) média.
- C) mais alta.
- D) qualquer altura.

QUESTÃO 40

O perfil profissiográfico previdenciário (PPP) deverá ser emitido em papel e fornecido ao empregado contra recibo, para os efeitos previstos na Instrução Normativa 84.

Esse documento deverá ser emitido em

- A) duas vias.
- B) três vias.
- C) quatro vias.
- D) cinco vias.

GABARITO

(VERSÃO DO CANDIDATO)

1	A	B	C	D	21	A	B	C	D
	<input type="checkbox"/>	<input type="checkbox"/>	<input type="checkbox"/>	<input type="checkbox"/>		<input type="checkbox"/>	<input type="checkbox"/>	<input type="checkbox"/>	<input type="checkbox"/>
2	A	B	C	D	22	A	B	C	D
	<input type="checkbox"/>	<input type="checkbox"/>	<input type="checkbox"/>	<input type="checkbox"/>		<input type="checkbox"/>	<input type="checkbox"/>	<input type="checkbox"/>	<input type="checkbox"/>
3	A	B	C	D	23	A	B	C	D
	<input type="checkbox"/>	<input type="checkbox"/>	<input type="checkbox"/>	<input type="checkbox"/>		<input type="checkbox"/>	<input type="checkbox"/>	<input type="checkbox"/>	<input type="checkbox"/>
4	A	B	C	D	24	A	B	C	D
	<input type="checkbox"/>	<input type="checkbox"/>	<input type="checkbox"/>	<input type="checkbox"/>		<input type="checkbox"/>	<input type="checkbox"/>	<input type="checkbox"/>	<input type="checkbox"/>
5	A	B	C	D	25	A	B	C	D
	<input type="checkbox"/>	<input type="checkbox"/>	<input type="checkbox"/>	<input type="checkbox"/>		<input type="checkbox"/>	<input type="checkbox"/>	<input type="checkbox"/>	<input type="checkbox"/>
6	A	B	C	D	26	A	B	C	D
	<input type="checkbox"/>	<input type="checkbox"/>	<input type="checkbox"/>	<input type="checkbox"/>		<input type="checkbox"/>	<input type="checkbox"/>	<input type="checkbox"/>	<input type="checkbox"/>
7	A	B	C	D	27	A	B	C	D
	<input type="checkbox"/>	<input type="checkbox"/>	<input type="checkbox"/>	<input type="checkbox"/>		<input type="checkbox"/>	<input type="checkbox"/>	<input type="checkbox"/>	<input type="checkbox"/>
8	A	B	C	D	28	A	B	C	D
	<input type="checkbox"/>	<input type="checkbox"/>	<input type="checkbox"/>	<input type="checkbox"/>		<input type="checkbox"/>	<input type="checkbox"/>	<input type="checkbox"/>	<input type="checkbox"/>
9	A	B	C	D	29	A	B	C	D
	<input type="checkbox"/>	<input type="checkbox"/>	<input type="checkbox"/>	<input type="checkbox"/>		<input type="checkbox"/>	<input type="checkbox"/>	<input type="checkbox"/>	<input type="checkbox"/>
10	A	B	C	D	30	A	B	C	D
	<input type="checkbox"/>	<input type="checkbox"/>	<input type="checkbox"/>	<input type="checkbox"/>		<input type="checkbox"/>	<input type="checkbox"/>	<input type="checkbox"/>	<input type="checkbox"/>
11	A	B	C	D	31	A	B	C	D
	<input type="checkbox"/>	<input type="checkbox"/>	<input type="checkbox"/>	<input type="checkbox"/>		<input type="checkbox"/>	<input type="checkbox"/>	<input type="checkbox"/>	<input type="checkbox"/>
12	A	B	C	D	32	A	B	C	D
	<input type="checkbox"/>	<input type="checkbox"/>	<input type="checkbox"/>	<input type="checkbox"/>		<input type="checkbox"/>	<input type="checkbox"/>	<input type="checkbox"/>	<input type="checkbox"/>
13	A	B	C	D	33	A	B	C	D
	<input type="checkbox"/>	<input type="checkbox"/>	<input type="checkbox"/>	<input type="checkbox"/>		<input type="checkbox"/>	<input type="checkbox"/>	<input type="checkbox"/>	<input type="checkbox"/>
14	A	B	C	D	34	A	B	C	D
	<input type="checkbox"/>	<input type="checkbox"/>	<input type="checkbox"/>	<input type="checkbox"/>		<input type="checkbox"/>	<input type="checkbox"/>	<input type="checkbox"/>	<input type="checkbox"/>
15	A	B	C	D	35	A	B	C	D
	<input type="checkbox"/>	<input type="checkbox"/>	<input type="checkbox"/>	<input type="checkbox"/>		<input type="checkbox"/>	<input type="checkbox"/>	<input type="checkbox"/>	<input type="checkbox"/>
16	A	B	C	D	36	A	B	C	D
	<input type="checkbox"/>	<input type="checkbox"/>	<input type="checkbox"/>	<input type="checkbox"/>		<input type="checkbox"/>	<input type="checkbox"/>	<input type="checkbox"/>	<input type="checkbox"/>
17	A	B	C	D	37	A	B	C	D
	<input type="checkbox"/>	<input type="checkbox"/>	<input type="checkbox"/>	<input type="checkbox"/>		<input type="checkbox"/>	<input type="checkbox"/>	<input type="checkbox"/>	<input type="checkbox"/>
18	A	B	C	D	38	A	B	C	D
	<input type="checkbox"/>	<input type="checkbox"/>	<input type="checkbox"/>	<input type="checkbox"/>		<input type="checkbox"/>	<input type="checkbox"/>	<input type="checkbox"/>	<input type="checkbox"/>
19	A	B	C	D	39	A	B	C	D
	<input type="checkbox"/>	<input type="checkbox"/>	<input type="checkbox"/>	<input type="checkbox"/>		<input type="checkbox"/>	<input type="checkbox"/>	<input type="checkbox"/>	<input type="checkbox"/>
20	A	B	C	D	40	A	B	C	D
	<input type="checkbox"/>	<input type="checkbox"/>	<input type="checkbox"/>	<input type="checkbox"/>		<input type="checkbox"/>	<input type="checkbox"/>	<input type="checkbox"/>	<input type="checkbox"/>

AO TRANSFERIR ESSAS MARCAÇÕES PARA A FOLHA DE RESPOSTAS,
OBSERVE AS INSTRUÇÕES ESPECÍFICAS DADAS NA CAPA DA PROVA.

USE CANETA ESFEROGRÁFICA AZUL OU PRETA.

**ATENÇÃO:
AGUARDE AUTORIZAÇÃO
PARA VIRAR O CADERNO DE PROVA.**