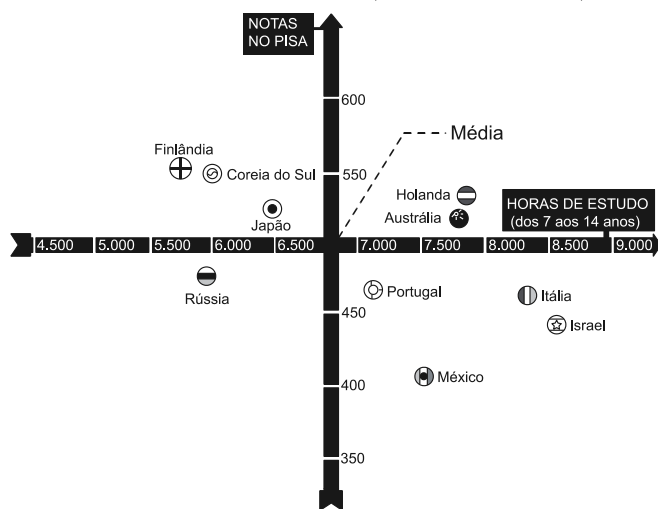


# Estatística Básica

## 1. (Enem) Uma falsa relação

O cruzamento da quantidade de horas estudadas com o desempenho no Programa Internacional de Avaliação de Estudantes (Pisa) mostra que mais tempo na escola não é garantia de nota acima da média.

NOTAS NO PISA E CARGA HORÁRIA (PAÍSES SELECIONADOS)\*



\*Considerando as médias de cada país no exame de matemática.

Nova Escola, São Paulo, dez. 2010 (adaptado).

Dos países com notas abaixo da média nesse exame, aquele que apresenta maior quantidade de horas de estudo é:

- a) Finlândia.
- b) Holanda.
- c) Israel.
- d) México.
- e) Rússia.

2. (Enem) Cinco empresas de gêneros alimentícios encontram-se à venda. Um empresário, almejando ampliar os seus investimentos, deseja comprar uma dessas empresas. Para escolher qual delas irá comprar, analisa o lucro (em milhões de reais) de cada uma delas, em função de seus tempos (em anos) de existência, decidindo comprar a empresa que apresente o maior lucro médio anual.

O quadro apresenta o lucro (em milhões de reais) acumulado ao longo do tempo (em anos) de existência de cada empresa.

Empresa	Lucro (em milhões de reais)	Tempo (em anos)
F	24	3,0
G	24	2,0
H	25	2,5
M	15	1,5
P	9	1,5

O empresário decidiu comprar a empresa:

- a) F.
- b) G.
- c) H.
- d) M.
- e) P.

3. (Enem) O índice de eficiência utilizado por um produtor de leite para qualificar suas vacas é dado pelo produto do tempo de lactação (em dias) pela produção média diária de leite (em kg), dividido pelo intervalo entre partos (em meses). Para esse produtor, a vaca é qualificada como eficiente quando esse índice é, no mínimo, 281 quilogramas por mês, mantendo sempre as mesmas condições de manejo (alimentação, vacinação e outros). Na comparação de duas ou mais vacas, a mais eficiente é a que tem maior índice.

A tabela apresenta os dados coletados de cinco vacas:

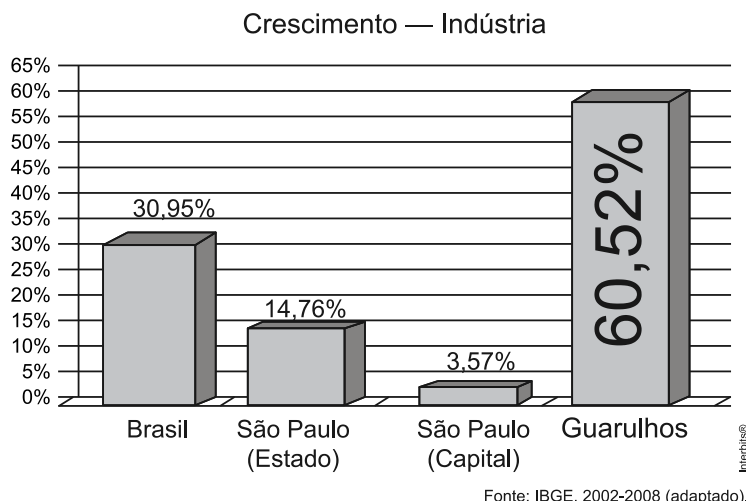
**Dados relativos à produção de vacas**

Vaca	Tempo de lactação (em dias)	Produção média diária de leite (em kg)	Intervalo entre partos (em meses)
Malhada	360	12,0	15
Mamona	310	11,0	12
Maravilha	260	14,0	12
Mateira	310	13,0	13
Mimosa	270	12,0	11

Após a análise dos dados, o produtor avaliou que a vaca mais eficiente é a:

- a) Malhada.
- b) Mamona.
- c) Maravilha.
- d) Mateira.
- e) Mimosa.

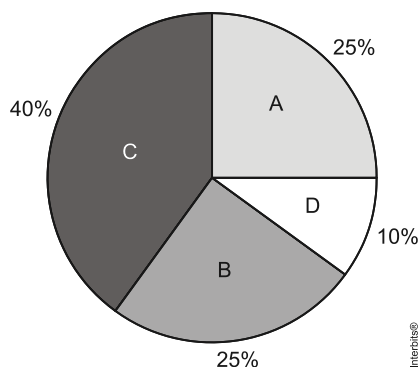
4. (Enem) A cidade de Guarulhos (SP) tem o 8º PIB municipal do Brasil, além do maior aeroporto da América do Sul. Em proporção, possui a economia que mais cresce em indústrias, conforme mostra o gráfico.



Analisando os dados percentuais do gráfico, qual a diferença entre o maior e o menor centro em crescimento no polo das indústrias?

- a) 75,28
- b) 64,09
- c) 56,95
- d) 45,76
- e) 30,07

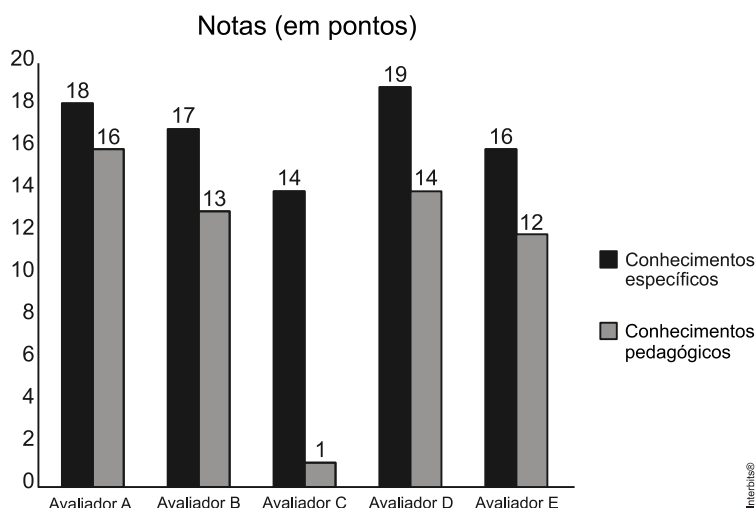
5. (Enem) Foi realizado um levantamento nos 200 hotéis de uma cidade, no qual foram anotados os valores, em reais, das diárias para um quarto padrão de casal e a quantidade de hotéis para cada valor da diária. Os valores das diárias foram: A = R\$200,00; B = R\$300,00; C = R\$400,00 e D = R\$600,00. No gráfico, as áreas representam as quantidades de hotéis pesquisados, em porcentagem, para cada valor da diária.



O valor mediano da diária, em reais, para o quarto padrão de casal nessa cidade, é

- a) 300,00.
- b) 345,00.
- c) 350,00.
- d) 375,00.
- e) 400,00.

6. (Enem) As notas de um professor que participou de um processo seletivo, em que a banca avaliadora era composta por cinco membros, são apresentadas no gráfico. Sabe-se que cada membro da banca atribuiu duas notas ao professor, uma relativa aos conhecimentos específicos da área de atuação e outra, aos conhecimentos pedagógicos, e que a média final do professor foi dada pela média aritmética de todas as notas atribuídas pela banca avaliadora.



Utilizando um novo critério, essa banca avaliadora resolveu descartar a maior e a menor notas atribuídas ao professor.

A nova média, em relação à média anterior, é:

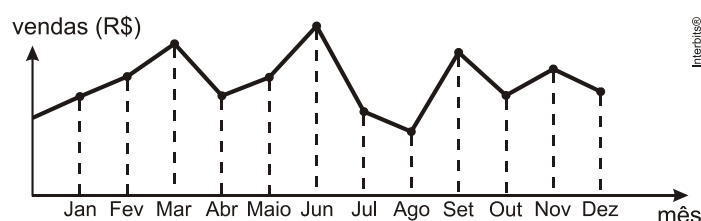
- a) 0,25 ponto maior.
- b) 1,00 ponto maior.
- c) 1,00 ponto menor.
- d) 1,25 ponto maior.
- e) 2,00 pontos menor.

7. (Enem) Um produtor de café irrigado em Minas Gerais recebeu um relatório de consultoria estatística, constando, entre outras informações, o desvio padrão das produções de uma safra dos talhões de suas propriedades. Os talhões têm a mesma área de 30 000 m<sup>2</sup> e o valor obtido para o desvio padrão foi de 90 kg/talhão. O produtor deve apresentar as informações sobre a produção e a variância dessas produções em sacas de 60 kg por hectare (10 000 m<sup>2</sup>).

A variância das produções dos talhões expressa em (sacas/hectare)<sup>2</sup> é:

- a) 20,25.
- b) 4,50.
- c) 0,71.
- d) 0,50.
- e) 0,25.

8. (Enem) O dono de uma farmácia resolveu colocar à vista do público o gráfico mostrado a seguir, que apresenta a evolução do total de vendas (em Reais) de certo medicamento ao longo do ano de 2011.



De acordo com o gráfico, os meses em que ocorreram, respectivamente, a maior e a menor venda absolutas em 2011 foram:

- a) Março e abril.
- b) Março e agosto.
- c) Agosto e setembro.
- d) Junho e setembro.
- e) Junho e agosto.

9. (Enem) Uma pesquisa realizada por estudantes da Faculdade de Estatística mostra, em horas por dia, como os jovens entre 12 e 18 anos gastam seu tempo, tanto durante a semana (de segunda-feira a sexta-feira), como no fim de semana (sábado e domingo). A seguinte tabela ilustra os resultados da pesquisa.

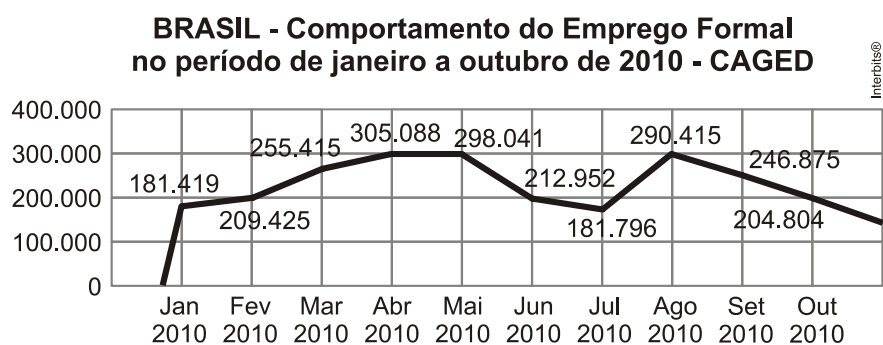
Rotina Juvenil	Durante a semana	No fim de semana
Assistir à televisão	3	3
Atividades domésticas	1	1
Atividades escolares	5	1
Atividades de lazer	2	4
Descanso, higiene e alimentação	10	12
Outras atividades	3	3

De acordo com esta pesquisa, quantas horas de seu tempo gasta um jovem entre 12 e 18 anos, na semana inteira (de segunda-feira a domingo), nas atividades escolares?

- a) 20
- b) 21

- c) 24
- d) 25
- e) 27

10. (Enem) O gráfico apresenta o comportamento de emprego formal surgido, segundo o CAGED, no período de janeiro de 2010 a outubro de 2010.



Disponível em: [www.mte.gov.br](http://www.mte.gov.br). Acesso em: 28 fev. 2012 (adaptado)

Com base no gráfico, o valor da parte inteira da mediana dos empregos formais surgidos no período é:

- a) 212 952.
- b) 229 913.
- c) 240 621.
- d) 255 496.
- e) 298 041.

---

## Gabarito

1. C
2. B
3. D
4. C
5. C
6. B
7. E
8. E
9. E
10. B

## Gabarito

1. E
2. D
3. C
4. A
5. D