

ENEM 2012

1. (ENEM 2012) Para diminuir o acúmulo de lixo e o desperdício de materiais de valor econômico e, assim, reduzir a exploração de recursos naturais, adotou-se, em escala internacional, a política dos três erres: Redução, Reutilização e Reciclagem. Um exemplo de reciclagem é a utilização de:

- a) garrafas de vidro retornáveis para cerveja ou refrigerante.
- b) latas de alumínio como material para fabricação de lingotes.
- c) sacos plásticos de supermercado como acondicionantes de lixo caseiro.
- d) embalagens plásticas vazias e limpas para acondicionar outros alimentos.
- e) garrafas PET recortadas em tiras para fabricação de cerdas de vassouras.

2. (ENEM 2012) O milho transgênico é produzido a partir da manipulação do milho original, com a transferência, para este, de um gene de interesse retirado de outro organismo de espécie diferente.

A característica de interesse será manifestada em decorrência:

- a) do incremento do DNA a partir da duplicação do gene transferido.
- b) da transcrição do RNA transportador a partir do gene transferido.
- c) da expressão de proteínas sintetizadas a partir do DNA não hibridizado.
- d) da síntese de carboidratos a partir da ativação do DNA do milho original.
- e) da tradução do RNA mensageiro sintetizado a partir do DNA recombinante.

3. (ENEM 2012) Pesticidas são contaminantes ambientais altamente tóxicos aos seres vivos e, geralmente, com grande persistência ambiental. A busca por novas formas de eliminação dos pesticidas tem aumentado nos últimos anos, uma vez que as técnicas atuais são economicamente dispendiosas e paliativas. A biorremediação de pesticidas utilizando microrganismos tem se mostrado uma técnica muito promissora para essa finalidade, por apresentar vantagens econômicas e ambientais.

Para ser utilizado nesta técnica promissora, um microrganismo deve ser capaz de:

- a) transferir o contaminante do solo para a água.
- b) absorver o contaminante sem alterá-lo quimicamente
- c) apresentar alta taxa de mutação ao longo das gerações
- d) estimular o sistema imunológico do homem contra o contaminante
- e) metabolizar o contaminante, liberando subprodutos menos tóxicos ou atóxicos.

4. (ENEM 2012) Medidas de saneamento básico são fundamentais no processo de promoção de saúde e qualidade de vida da população. Muitas vezes, a falta de saneamento está relacionada com o aparecimento de várias doenças. Nesse contexto, um paciente dá entrada em um pronto atendimento relatando que há 30 dias teve contato com águas de enchente. Ainda informa que

nesta localidade não há rede de esgoto e drenagem de águas pluviais e que a coleta de lixo é inadequada. Ele apresenta os seguintes sintomas: febre, dor de cabeça e dores musculares.

Disponível em: <http://portal.saude.gov.br>. Acesso em: 27 fev. 2012 (adaptado).

Relacionando os sintomas apresentados com as condições sanitárias da localidade, há indicações de que o paciente apresenta um caso de:

- a) Difteria.
- b) Botulismo.
- c) Tuberculose.
- d) Leptospirose.
- e) Meningite meningocócica.

5. (ENEM 2012) O rótulo de um desodorante aerossol informa ao consumidor que o produto possui em sua composição os gases isobutano, butano e propano, dentre outras substâncias. Além dessa informação, o rótulo traz, ainda, a inscrição “Não contém CFC”. As reações a seguir, que ocorrem na estratosfera, justificam a não utilização de CFC (clorofluorcarbono ou Freon) nesse desodorante:

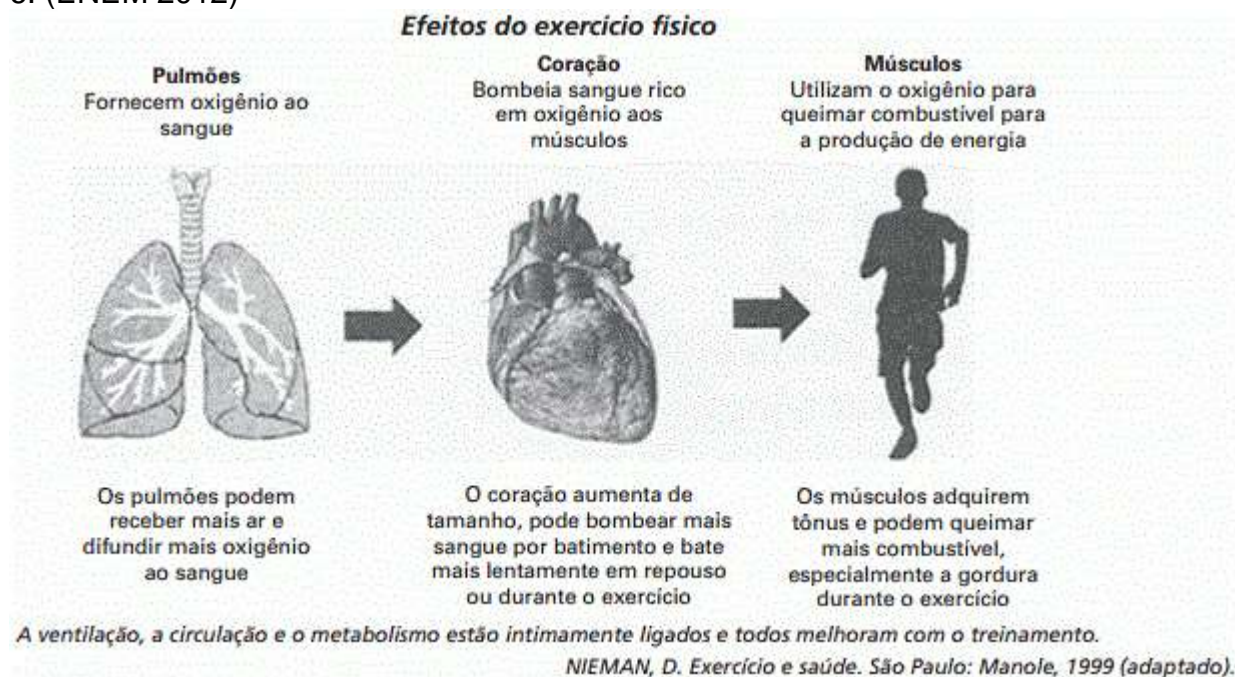


A preocupação com as possíveis ameaças à camada de ozônio (O₃) baseia-se na sua principal função: proteger a matéria viva na Terra dos efeitos prejudiciais dos raios solares ultravioleta. A absorção da radiação ultravioleta pelo ozônio estratosférico é intensa o suficiente para eliminar boa parte da fração de ultravioleta que é prejudicial à vida.

A finalidade da utilização dos gases isobutano, butano e propano neste aerossol é:

- a) substituir o CFC, pois não reagem com o ozônio, servindo como gases propelentes em aerossóis.
- b) servir como propelentes, pois, como são muito reativos, capturam o Freon existente livre na atmosfera, impedindo a destruição do ozônio.
- c) reagir com o ar, pois se decompõem espontaneamente em dióxido de carbono (CO₂) e água (H₂O), que não atacam o ozônio.
- d) impedir a destruição do ozônio pelo CFC, pois os hidrocarbonetos gasosos reagem com a radiação UV, liberando hidrogênio (H₂), que reage com o oxigênio do ar (O₂), formando água (H₂O).
- e) destruir o CFC, pois reagem com a radiação UV, liberando carbono (C), que reage com o oxigênio do ar (O₂), formando dióxido de carbono (CO₂), que é inofensivo para a camada de ozônio.

6. (ENEM 2012)



A partir dos efeitos fisiológicos do exercício físico no organismo, apresentados na figura, são adaptações benéficas à saúde de um indivíduo:

- a) diminuição da frequência cardíaca em repouso e aumento da oxigenação do sangue.
- b) diminuição da oxigenação do sangue e aumento da frequência cardíaca em repouso.
- c) diminuição da frequência cardíaca em repouso e aumento da gordura corporal.
- d) diminuição do tônus muscular e aumento do percentual de gordura corporal.
- e) diminuição da gordura corporal e aumento da frequência cardíaca em repouso.

7. (ENEM 2012) A maior parte dos veículos de transporte atualmente é movida por motores a combustão que utilizam derivados de petróleo. Por causa disso, esse setor é o maior consumidor de petróleo do mundo, com altas taxas de crescimento ao longo do tempo. Enquanto outros setores têm obtido bons resultados na redução do consumo, os transportes tendem a concentrar ainda mais o uso de derivados do óleo.

MURTA, A. *Energia: o vício da civilização*. Rio de Janeiro: Garamond, 2011 (adaptado).

Um impacto ambiental da tecnologia mais empregada pelo setor de transportes e uma medida para promover a redução do seu uso, estão indicados, respectivamente, em:

- a) aumento da poluição sonora – construção de barreiras acústicas.
- b) incidência da chuva ácida – estatização da indústria automobilística.
- c) derretimento das calotas polares – incentivo aos transportes de massa.
- d) propagação de doenças respiratórias – distribuição de medicamentos gratuitos.
- e) elevação das temperaturas médias – criminalização da emissão de gás carbônico

8. (ENEM 2012) O uso da água aumenta de acordo com as necessidades da população no mundo. Porém, diferentemente do que se possa imaginar, o aumento do consumo de água superou em duas vezes o crescimento populacional durante o século XX.

TEIXEIRA, W. et al. *Decifrando a Terra*. São Paulo: Cia. Editora Nacional, 2009.

Uma estratégia socioespacial que pode contribuir para alterar a lógica de uso da água apresentada no texto é a:

- a) ampliação de sistemas de reutilização hídrica.
- b) expansão da irrigação por aspersão das lavouras.
- c) intensificação do controle do desmatamento de florestas.
- d) adoção de técnicas tradicionais de produção.
- e) criação de incentivos fiscais para o cultivo de produtos orgânicos.

9. (ENEM 2012) Muitas espécies de plantas lenhosas são encontradas no cerrado brasileiro. Para a sobrevivência nas condições de longos períodos de seca e queimadas periódicas, próprias desse ecossistema, essas plantas desenvolveram estruturas muito peculiares.

As estruturas adaptativas mais apropriadas para a sobrevivência desse grupo de plantas nas condições ambientais do referido ecossistema são:

- a) cascas finas e sem sulcos ou fendas.
- b) caules estreitos e retilíneos.
- c) folhas estreitas e membranosas.
- d) gemas apicais com densa pilosidade.
- e) raízes superficiais, em geral, aéreas.

10. (ENEM 2012) Há milhares de anos o homem faz uso da biotecnologia para a produção de alimentos como pães, cervejas e vinhos. Na fabricação de pães, por exemplo, são usados fungos unicelulares, chamados de leveduras, que são comercializados como fermento biológico. Eles são usados para promover o crescimento da massa, deixando-a leve e macia.

O crescimento da massa do pão pelo processo citado é resultante da:

- a) liberação de gás carbônico.
- b) formação de ácido láctico.
- c) formação de água.
- d) produção de ATP.
- e) liberação de calor.

11. (ENEM 2012) Os vegetais biossintetizam determinadas substâncias (por exemplo, alcaloides e flavonoides), cuja estrutura química e concentração variam num mesmo organismo em diferentes épocas do ano e estágios de desenvolvimento. Muitas dessas substâncias são produzidas para a adaptação do organismo às variações ambientais (radiação UV,

temperatura, parasitas, herbívoros, estímulo a polinizadores etc.) ou fisiológicas (crescimento, envelhecimento etc.).

As variações qualitativa e quantitativa na produção dessas substâncias durante um ano são possíveis porque o material genético do indivíduo:

- a) sofre constantes recombinações para adaptar-se.
- b) muda ao longo do ano e em diferentes fases da vida.
- c) cria novos genes para biossíntese de substâncias específicas.
- d) altera a sequência de bases nitrogenadas para criar novas substâncias.
- e) possui genes transcritos diferentemente de acordo com cada necessidade.

12. (ENEM 2012) Suponha que você seja um consultor e foi contratado para assessorar a implantação de uma matriz energética em um pequeno país com as seguintes características: região plana, chuvosa e com ventos constantes, dispondo de poucos recursos hídricos e sem reservatórios de combustíveis fósseis.

De acordo com as características desse país, a matriz energética de menor impacto e risco ambientais é a baseada na energia:

- a) dos biocombustíveis, pois tem menor impacto ambiental e maior disponibilidade.
- b) solar, pelo seu baixo custo e pelas características do país favoráveis à sua implantação.
- c) nuclear, por ter menor risco ambiental e ser adequada a locais com menor extensão territorial.
- d) hidráulica, devido ao relevo, à extensão territorial do país e aos recursos naturais disponíveis.
- e) eólica, pelas características do país e por não gerar gases do efeito estufa nem resíduos de operação.

13. (ENEM 2012)



A condição física apresentada pelo personagem da tirinha é um fator de risco que pode desencadear doenças como:

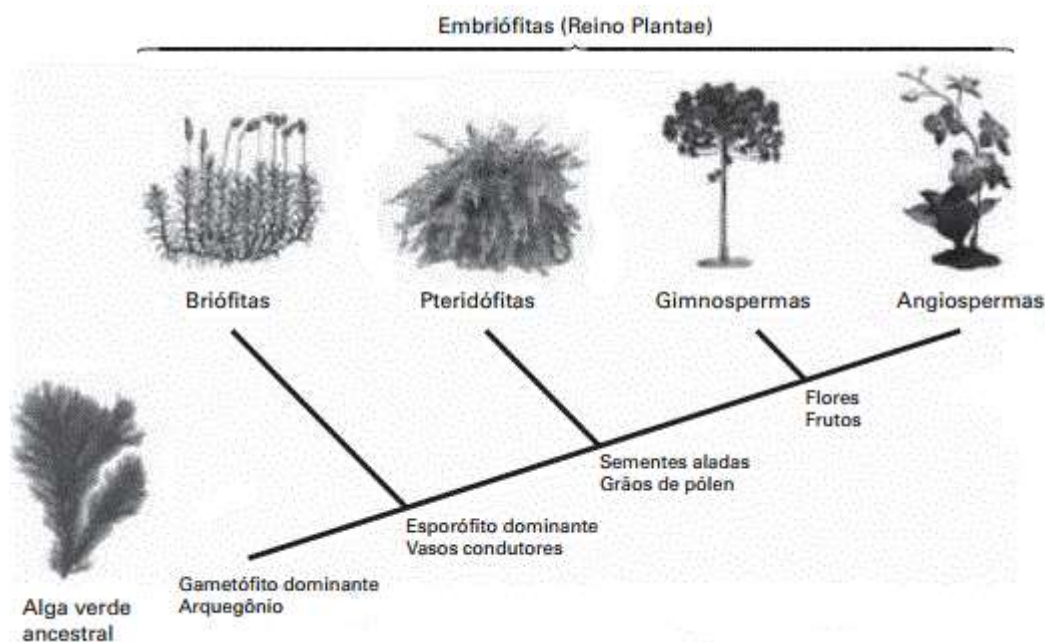
- a) Anemia.
- b) Beribéri.
- c) Diabetes.

- d) Escorbuto.
- e) Fenilcetonúria.

14. (ENEM 2012) Paleontólogos estudam fósseis e esqueletos de dinossauros para tentar explicar o desaparecimento desses animais. Esses estudos permitem afirmar que esses animais foram extintos há cerca de 65 milhões de anos. Uma teoria aceita atualmente é a de que um asteroide colidiu com a Terra, formando uma densa nuvem de poeira na atmosfera. De acordo com essa teoria, a extinção ocorreu em função de modificações no planeta que:

- a) desestabilizaram o relógio biológico dos animais, causando alterações no código genético
- b) reduziram a penetração da luz solar até a superfície da Terra, interferindo no fluxo energético das teias tróficas.
- c) causaram uma série de intoxicações nos animais, provocando a bioacumulação de partículas de poeira nos organismos.
- d) resultaram na sedimentação das partículas de poeira levantada com o impacto do meteoro, provocando o desaparecimento de rios e lagos.
- e) evitaram a precipitação de água até a superfície da Terra, causando uma grande seca que impediu a retroalimentação do ciclo hidrológico.

15. (ENEM 2012) A imagem representa o processo de evolução das plantas e algumas de suas estruturas. Para o sucesso desse processo, a partir de um ancestral simples, os diferentes grupos vegetais desenvolveram estruturas adaptativas que lhes permitiram sobreviver em diferentes ambientes.



Disponível em: <http://biopibidufsj.blogspot.com>. Acesso em: 29 fev. 2012 (adaptado).

Disponível em: <http://biopibidufsj.blogspot.com>. Acesso em: 29 fev. 2012 (adaptado).

Qual das estruturas adaptativas apresentadas contribuiu para uma maior diversidade genética?

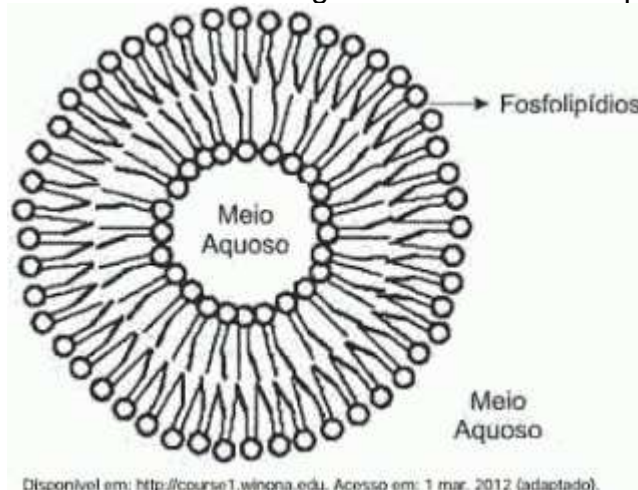
- a) as sementes aladas, que favorecem a dispersão aérea.
- b) os arquegônios, que protegem o embrião multicelular.
- c) os grãos de pólen, que garantem a polinização cruzada.
- d) os frutos, que promovem uma maior eficiência reprodutiva.
- e) os vasos condutores, que possibilitam o transporte da seiva bruta.

16. (ENEM 2012) Osmose é um processo espontâneo que ocorre em todos os organismos vivos e é essencial à manutenção da vida. Uma solução 0,15 mol/L de NaCl (cloreto de sódio) possui a mesma pressão osmótica das soluções presentes nas células humanas.

A imersão de uma célula humana em uma solução 0,20 mol/L de NaCl tem, como consequência, a:

- a) adsorção de íons Na^+ sobre a superfície da célula.
- b) difusão rápida de íons Na^+ para o interior da célula.
- c) diminuição da concentração das soluções presentes na célula.
- d) transferência de íons Na^+ da célula para a solução.
- e) transferência de moléculas de água do interior da célula para a solução.

17. (Opcional-ENEM 2012) Quando colocados em água, os fosfolípidos tendem a formar lipossomos, estruturas formadas por uma bicamada lipídica, conforme mostrado na figura. Quando rompida, essa estrutura tende a se reorganizar em um novo lipossomo.



Disponível em: <http://course1.winona.edu>. Acesso em: 1 mar. 2012 (adaptado).

Disponível em: <http://course1.winona.edu>. Acesso em: 1 mar. 2012 (adaptado).

Esse arranjo característico se deve ao fato de os fosfolípidios apresentarem uma natureza:

- a) polar, ou seja, serem inteiramente solúveis em água.
- b) apolar, ou seja, não serem solúveis em solução aquosa.
- c) anfotérica, ou seja, podem comportar-se como ácidos e bases.
- d) insaturada, ou seja, possuírem duplas ligações em sua estrutura.

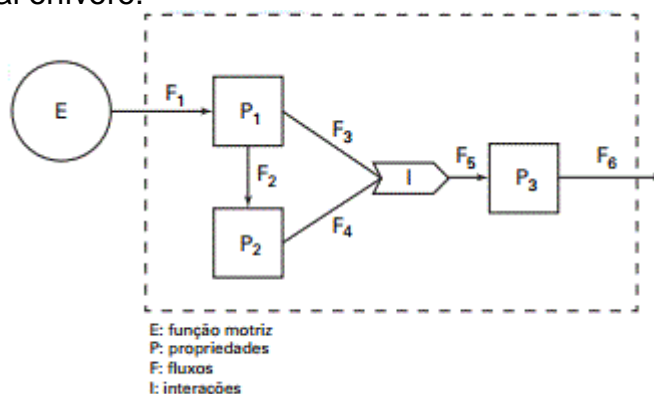
e) anfifílica, ou seja, possuírem uma parte hidrofílica e outra hidrofóbica.

18. (Opcional-ENEM 2012) A doença de Chagas afeta mais de oito milhões de brasileiros, sendo comum em áreas rurais. É uma doença causada pelo protozoário *Trypanosoma cruzi* e transmitida por insetos conhecidos como barbeiros ou chupanças.

Uma ação do homem sobre o meio ambiente que tem contribuído para o aumento dessa doença é:

- a) o consumo de carnes de animais silvestres que são hospedeiros do vetor da doença.
- b) a utilização de adubos químicos na agricultura que aceleram o ciclo reprodutivo do barbeiro.
- c) a ausência de saneamento básico que favorece a proliferação do protozoário em regiões habitadas por humanos.
- d) a poluição dos rios e lagos com pesticidas que exterminam o predador das larvas do inseto transmissor da doença.
- e) o desmatamento que provoca a migração ou o desaparecimento dos animais silvestres dos quais o barbeiro se alimenta.

19. (Opcional-ENEM 2012) A figura representa um dos modelos de um sistema de interações entre seres vivos. Ela apresenta duas propriedades, P1 e P2, que interagem em I, para afetar uma terceira propriedade, P3, quando o sistema é alimentado por uma fonte de energia, E. Essa figura pode simular um sistema de campo em que P1 representa as plantas verdes; um animal herbívoro e P3, um animal onívoro.



ODUM, E. P. *Ecologia*. Rio de Janeiro: Guanabara Koogan, 1988.

A função interativa / representa a proporção de:

- a) herbivoria entre P1 e P2.
- b) Polinização entre P1 e P2.
- c) P3 utilizada na alimentação de P1 e P2.
- d) P1 ou P2 utilizada na alimentação de P3.
- e) Energia de P1 e de P2 que saem do sistema.

20. (Opcional-ENEM 2012) O menor tamanduá do mundo é solitário e tem hábitos noturnos, passa o dia repousando, geralmente em um emaranhado de cipós, com o corpo curvado de tal maneira que forma uma bola. Quando em atividade, se locomove vagarosamente e emite som semelhante a um assobio. A cada gestação, gera um único filhote. A cria é deixada em uma árvore à noite e é amamentada pela mãe até que tenha idade para procurar alimento. As fêmeas adultas têm territórios grandes e o território de um macho inclui o de várias fêmeas, o que significa que ele tem sempre diversas pretendentes à disposição para namorar!

Ciência Hoje das Crianças, ano 19, n. 174, nov. 2006 (adaptado).

Essa descrição sobre o tamanduá diz respeito ao seu:

- a) hábitat.
- b) biótopo.
- c) nível trófico.
- d) nicho ecológico.
- e) potencial biótico

Gabarito

1. B
2. B
3. E
4. D
5. A
6. A
7. C
8. A
9. D
10. A
11. E
12. E
13. C
14. B
15. C
16. E
17. E
18. E
19. D
20. C