

## Revisão ENEM

1. (Enem PPL) Para um principiante em corrida, foi estipulado o seguinte plano de treinamento diário: correr 300 metros no primeiro dia e aumentar 200 metros por dia, a partir do segundo. Para contabilizar seu rendimento, ele utilizará um *chip*, preso ao seu tênis, para medir a distância percorrida nos treinos. Considere que esse *chip* armazene, em sua memória, no máximo 9,5 km de corrida/caminhada, devendo ser colocado no momento do início do treino e descartado após esgotar o espaço para reserva de dados.

Se esse atleta utilizar o *chip* desde o primeiro dia de treinamento, por quantos dias consecutivos esse *chip* poderá armazenar a quilometragem desse plano de treino diário?

- a) 7
- b) 8
- c) 9
- d) 12
- e) 13

2. (Enem PPL) Uma pequena fábrica vende seus bonés em pacotes com quantidades de unidades variáveis. O lucro obtido é dado pela expressão  $L(x) = -x^2 + 12x - 20$ , onde  $x$  representa a quantidade de bonés contidos no pacote. A empresa pretende fazer um único tipo de empacotamento, obtendo um lucro máximo. Para obter o lucro máximo nas vendas, os pacotes devem conter uma quantidade de bonés igual a

- a) 4
- b) 6
- c) 9
- d) 10
- e) 14

3. (Enem PPL) O proprietário de uma casa de espetáculos observou que, colocando o valor da entrada a R\$10,00, sempre contava com 1.000 pessoas a cada apresentação, faturando R\$10.000,00 com a venda dos ingressos. Entretanto, percebeu também que, a partir de R\$10,00, a cada R\$2,00 que ele aumentava no valor da entrada, recebia para os espetáculos 40 pessoas a menos.

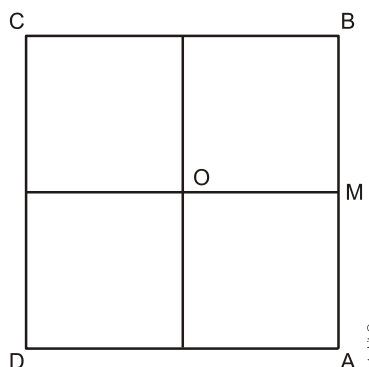
Nessas condições, considerando  $P$  o número de pessoas presentes em um determinado dia e  $F$  o faturamento com a venda dos ingressos, a expressão que relaciona o faturamento em função do número de pessoas é dada por:

- a)  $F = \frac{-P^2}{20} + 60P$
- b)  $F = \frac{P^2}{20} - 60P$
- c)  $F = -P^2 + 1200P$

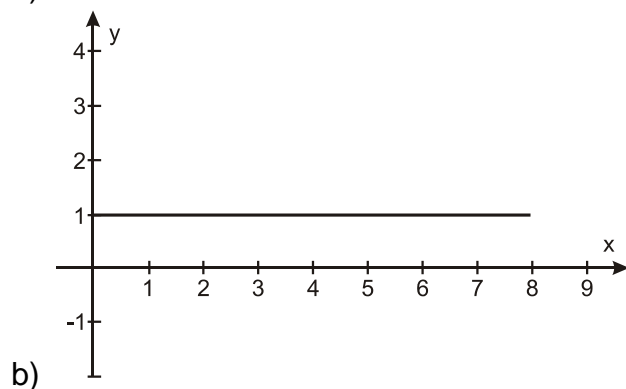
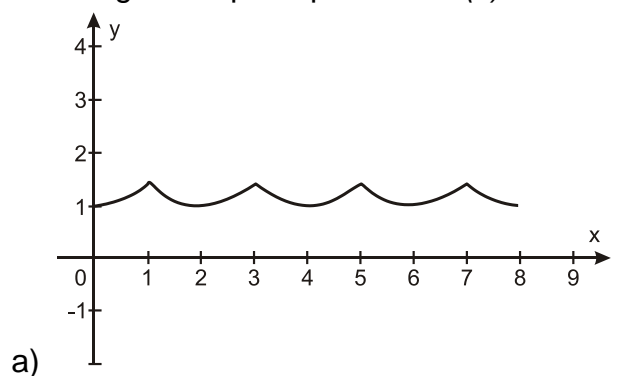
d)  $F = \frac{-P^2}{20} + 60$

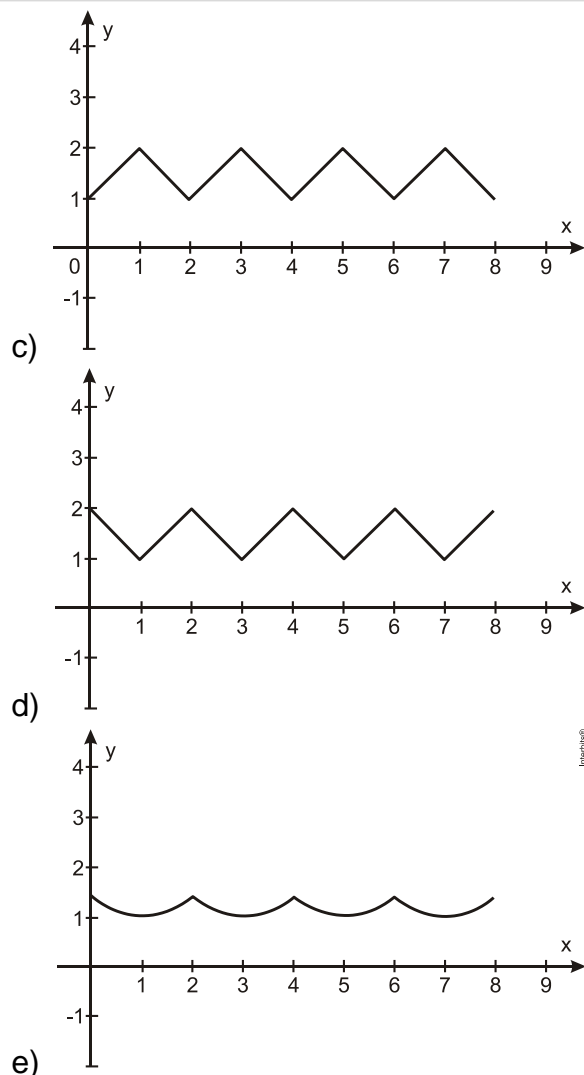
e)  $F = -P^2 - 1220P$

4. (Enem PPL) O quadrado  $ABCD$ , de centro  $O$  e lado 2 cm, corresponde à trajetória de uma partícula  $P$  que partiu de  $M$ , ponto médio de  $AB$ , seguindo pelos lados do quadrado e passando por  $B$ ,  $C$ ,  $D$ ,  $A$  até retornar ao ponto  $M$ .



Seja  $F(x)$  a função que representa a distância da partícula  $P$  ao centro  $O$  do quadrado, a cada instante de sua trajetória, sendo  $x$  (em cm) o comprimento do percurso percorrido por tal partícula. Qual o gráfico que representa  $F(x)$ ?





5. (Enem PPL) Em um experimento, uma cultura de bactérias tem sua população reduzida pela metade a cada hora, devido à ação de um agente bactericida.

Neste experimento, o número de bactérias em função do tempo pode ser modelado por uma função do tipo

- a) afim.
- b) seno.
- c) cosseno.
- d) logarítmica crescente.
- e) exponencial.

6. (Enem PPL) Certa empresa de telefonia oferece a seus clientes dois pacotes de serviço:

- Pacote laranja

Oferece 300 minutos mensais de ligação local e o usuário deve pagar R\$ 143,00 por mês. Será cobrado o valor de R\$ 0,40 por minuto que exceder o valor oferecido.

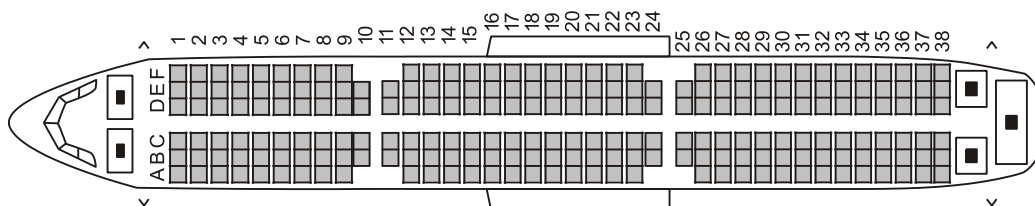
- Pacote azul

Oferece 100 minutos mensais de ligação local e o usuário deve pagar mensalmente R\$ 80,00. Será cobrado o valor de R\$ 0,90 por minuto que exceder o valor oferecido.

Para ser mais vantajoso contratar o pacote laranja, comparativamente ao pacote azul, o número mínimo de minutos de ligação que o usuário deverá fazer é

- a) 70
- b) 126
- c) 171
- d) 300
- e) 400

7. (Enem PPL) Uma empresa aérea lança uma promoção de final de semana para um voo comercial. Por esse motivo, o cliente não pode fazer reservas e as poltronas serão sorteadas aleatoriamente. A figura mostra a posição dos assentos no avião:



Avião com 38 fileiras de poltronas.

Por ter pavor de sentar entre duas pessoas, um passageiro decide que só viajará se a chance de pegar uma dessas poltronas for inferior a 30%.

Avaliando a figura, o passageiro desiste da viagem, porque a chance de ele ser sorteado com uma poltrona entre duas pessoas é mais aproximada de

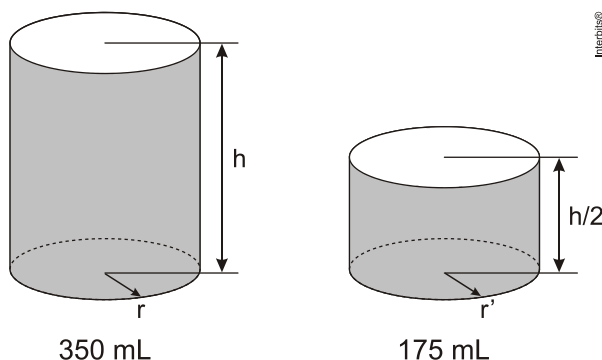
- a) 31%
- b) 33%
- c) 35%
- d) 68%
- e) 69%

8. (Enem PPL) Uma fábrica possui duas máquinas que produzem o mesmo tipo de peça. Diariamente a máquina M produz 2.000 peças e a máquina N produz 3.000 peças. Segundo o controle de qualidade da fábrica, sabe-se que 60 peças, das 2.000 produzidas pela máquina M, apresentam algum tipo de defeito, enquanto que 120 peças, das 3.000 produzidas pela máquina N, também apresentam defeitos. Um trabalhador da fábrica escolhe ao acaso uma peça, e esta é defeituosa.

Nessas condições, qual a probabilidade de que a peça defeituosa escolhida tenha sido produzida pela máquina M?

- a)  $\frac{3}{100}$
- b)  $\frac{1}{25}$
- c)  $\frac{1}{3}$
- d)  $\frac{3}{7}$
- e)  $\frac{2}{3}$

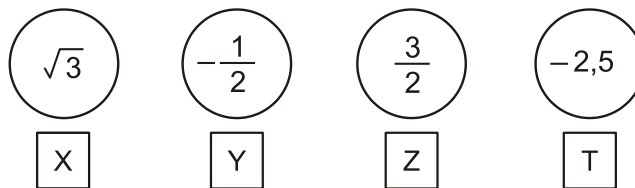
9. (Enem PPL) Um fabricante de bebidas, numa jogada de *marketing*, quer lançar no mercado novas embalagens de latas de alumínio para os seus refrigerantes. As atuais latas de 350 mL devem ser substituídas por uma nova embalagem com metade desse volume, conforme mostra a figura:



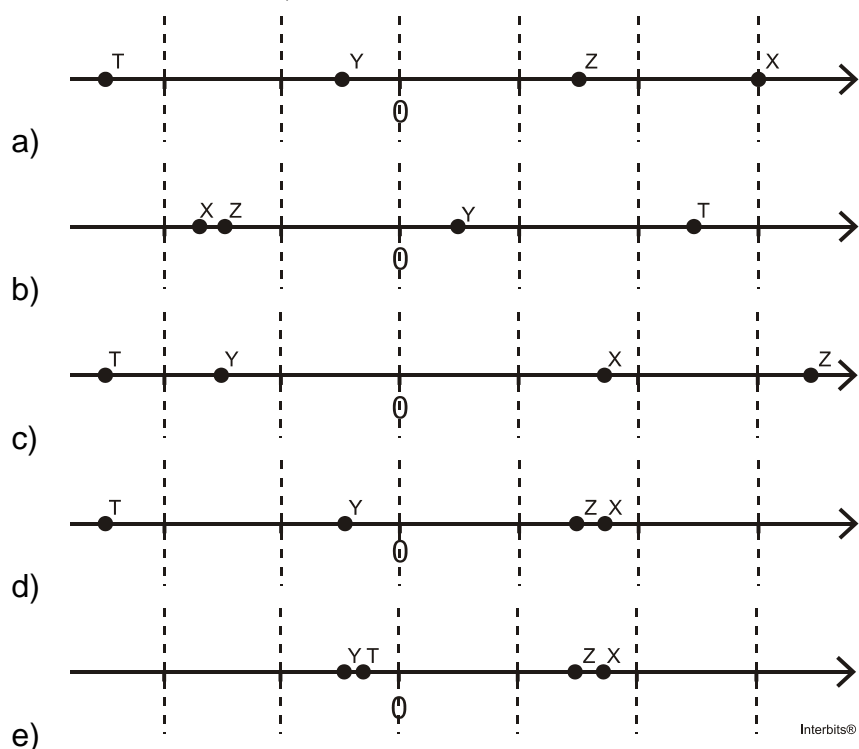
De acordo com os dados anteriores, qual a relação entre o raio  $r'$  da embalagem de 175 mL e o raio  $r$  da embalagem de 350 mL?

- a)  $r' = \sqrt{r}$
- b)  $r' = \frac{r}{2}$
- c)  $r' = r$
- d)  $r' = 2r$
- e)  $r' = \sqrt[3]{2}$

10. (Enem PPL) Em um jogo educativo, o tabuleiro é uma representação da reta numérica e o jogador deve posicionar as fichas contendo números reais corretamente no tabuleiro, cujas linhas pontilhadas equivalem a 1 (uma) unidade de medida. Cada acerto vale 10 pontos. Na sua vez de jogar, Clara recebe as seguintes fichas:



Para que Clara atinja 40 pontos nessa rodada, a figura que representa seu jogo, após a colocação das fichas no tabuleiro, é:



## Gabarito

1. B
2. B
3. A
4. A
5. E
6. C
7. A
8. C
9. C
10. D