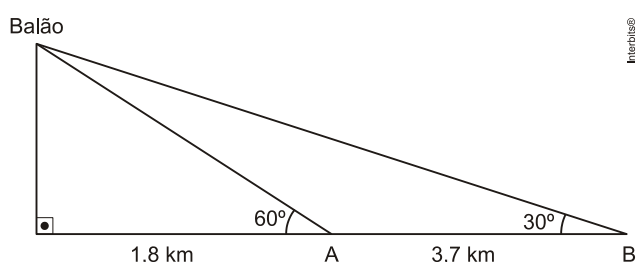


Introdução à Trigonometria

1. Um balão atmosférico, lançado em Bauru (343 quilômetros a Noroeste de São Paulo), na noite do último domingo, caiu nesta segunda-feira em Cuiabá Paulista, na região de Presidente Prudente, assustando agricultores da região. O artefato faz parte do programa Projeto Hibiscus, desenvolvido por Brasil, França, Argentina, Inglaterra e Itália, para a medição do comportamento da camada de ozônio, e sua descida se deu após o cumprimento do tempo previsto de medição.

Disponível em: <http://www.correiodobrasil.com.br>. Acesso em: 02 maio 2010.

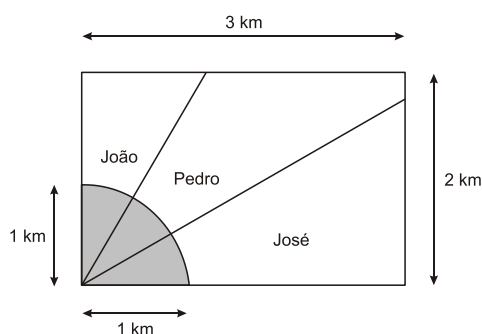


Na data do acontecido, duas pessoas avistaram o balão. Uma estava a 1,8 km da posição vertical do balão e o avistou sob um ângulo de 60° ; a outra estava a 5,5 km da posição vertical do balão, alinhada com a primeira, e no mesmo sentido, conforme se vê na figura, e o avistou sob um ângulo de 30° .

Qual a altura aproximada em que se encontrava o balão?

- a) 1,8 km
- b) 1,9 km
- c) 3,1 km
- d) 3,7 km
- e) 5,5 km

2. Ao morrer, o pai de João, Pedro e José deixou como herança um terreno retangular de 3 km x 2 km que contém uma área de extração de ouro delimitada por um quarto de círculo de raio 1 km a partir do canto inferior esquerdo da propriedade. Dado o maior valor da área de extração de ouro, os irmãos acordaram em repartir a propriedade de modo que cada um ficasse com a terça parte da área de extração, conforme mostra a figura.



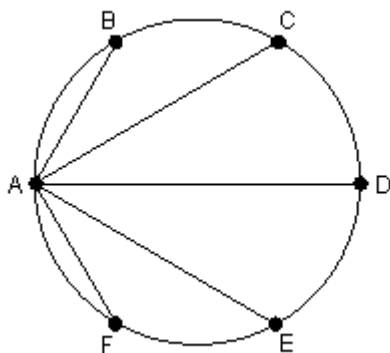
Em relação à partilha proposta, constata-se que a porcentagem da área do terreno que coube a João corresponde, aproximadamente, a

(considere $\frac{\sqrt{3}}{3} = 0,58$)

- a) 50%.
- b) 43%.
- c) 37%.
- d) 33%.
- e) 19%.

3. Um atleta faz seu treinamento de corrida em uma pista circular que tem 400 metros de diâmetro. Nessa pista, há seis cones de marcação indicados pelas letras A, B, C, D, E e F, que dividem a circunferência em seis arcos, cada um medindo 60 graus.

Observe o esquema:



O atleta partiu do ponto correspondente ao cone A em direção a cada um dos outros cones, sempre correndo em linha reta e retornando ao cone A. Assim, seu percurso correspondeu a ABACADAEAF.

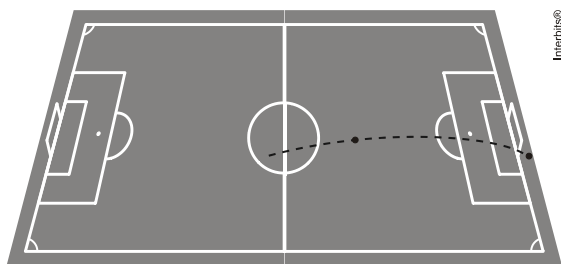
Considerando $\sqrt{3} = 1,7$, o total de metros percorridos pelo atleta nesse treino foi igual a:

- a) 1480
- b) 2960
- c) 3080
- d) 3120

4. O gol que Pelé não fez

Na copa de 1970, na partida entre Brasil e Tchecoslováquia, Pelé pega a bola um pouco antes do meio de campo, vê o goleiro tcheco adiantado, e arrisca um chute que entrou para a história do futebol brasileiro. No início do lance, a bola parte do solo com velocidade de 108 km/h (30 m/s), e três segundos depois toca novamente o solo atrás da linha de fundo, depois de descrever uma parábola no ar e passar rente à trave, para alívio do assustado goleiro.

Na figura vemos uma simulação do chute de Pelé.



(<http://omnis.if.ufrj.br/~carlos/futebol/textoCatalogoExpo.pdf>. Adaptado.)

Considerando que o vetor velocidade inicial da bola após o chute de Pelé fazia um ângulo de 30° com a horizontal ($\sin 30^\circ = 0,50$ e $\cos 30^\circ = 0,85$) e desconsiderando a resistência do ar e a rotação da bola, pode-se afirmar que a distância horizontal entre o ponto de onde a bola partiu do solo depois do chute e o ponto onde ela tocou o solo atrás da linha de fundo era, em metros, um valor mais próximo de

- a) 52,0.
- b) 64,5.
- c) 76,5.
- d) 80,4.
- e) 86,6.

Gabarito

1. C
2. E
3. B
4. C