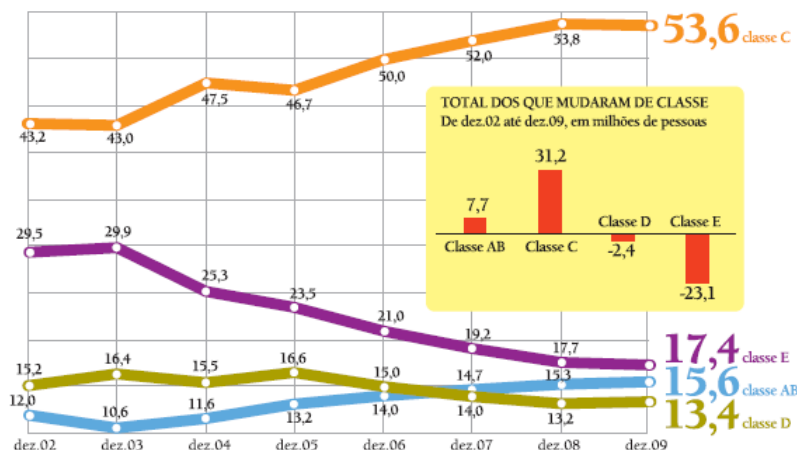


Brasil Neoliberal e a Posição no BRICS

1. No gráfico abaixo, estão representadas mudanças no perfil socioeconômico da população brasileira entre 2002 e 2009.



Adaptado de Folha de S. Paulo, 18/04/2010

Um dos principais fatores que possibilitaram as mudanças representadas no gráfico é:

- a) elevação do poder aquisitivo
- b) ampliação da expectativa de vida
- c) estabilização da oferta de emprego
- d) diminuição da taxa de analfabetismo

2.

“A abertura da economia brasileira tem levado não apenas a um aumento nas importações, como também ao incentivo de estabelecimento, em nosso país, de algumas das mais importantes transnacionais. É o caso da indústria automobilística, com a previsão de instalação, no país, de fábricas como as da BMW, Volvo e Renault (Paraná), Mercedes-Benz (Minas Gerais), Mitsubishi (Goiás) e Hyundai (Bahia)”.

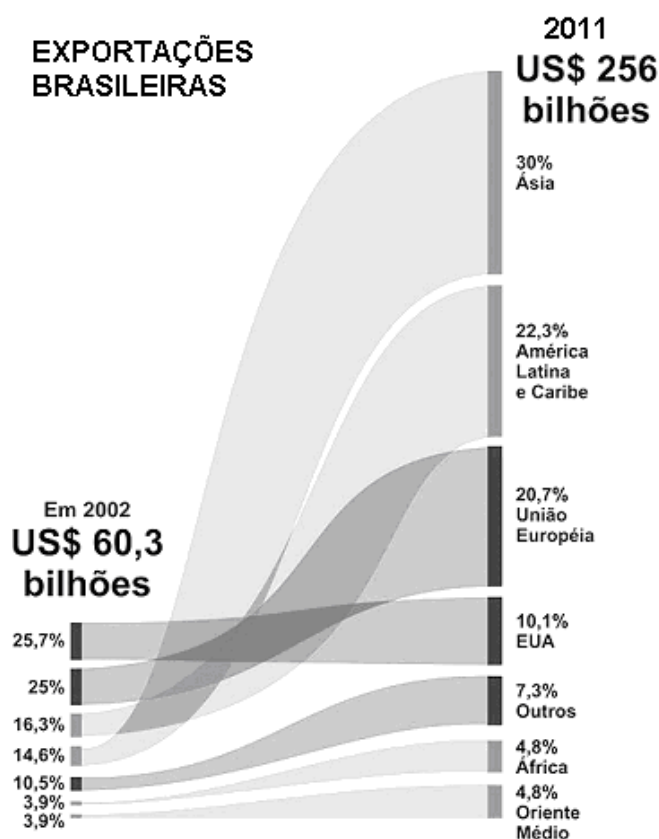
(Jornal do Brasil)

A vinda dessas empresas está relacionada com o seguinte fato:

- a) crise nos países de origem, pela expansão internacional da indústria automobilística norte-americana.
- b) manutenção do modelo de substituição de importações no Brasil, com redução da dependência internacional.
- c) esforço de inserção do Brasil na economia globalizada, com técnicas de produção semelhantes às dos países desenvolvidos.
- d) posição nova do Brasil na divisão internacional do trabalho, em função da inversão das históricas relações de dominação Norte-Sul.

3. A partir de 1989, a América Latina incorpora o neoliberalismo. Este modelo, contestado por diferentes grupos e movimentos sociais, caracterizou-se, neste continente, por
- atenuar as diferenças sociais e a dependência em relação ao capital internacional, ofertando o pleno emprego.
 - estimular o desenvolvimento do campo social e político e implementar uma sociedade mais justa e igualitária.
 - diminuir o poder da iniciativa privada transnacional, mediante a intervenção do Estado a favor da burguesia nacional.
 - ter uma base econômica formada por empresas públicas que regularam a oferta e a demanda, assim como o mercado de trabalho.
 - instaurar um conjunto de ideias políticas e econômicas capitalistas que defendeu a diminuição da intervenção do Estado na economia.

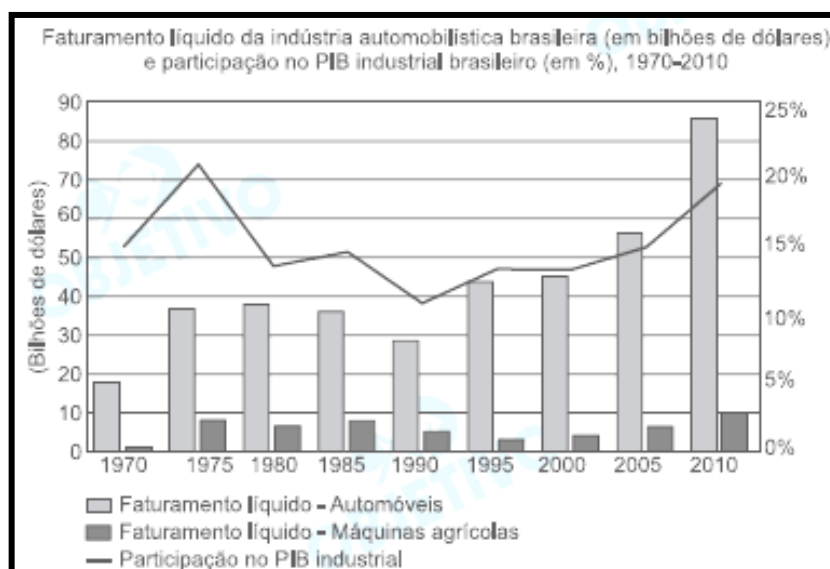
4.



Conforme o gráfico acima, assinale a alternativa correta.

- Os EUA e a Europa são os principais destinos dos produtos brasileiros, haja vista que são as áreas mais ricas do mundo.
- A relação econômica do Brasil com os países da América Latina piorou com a eleição de governos de esquerda em países importantes, como Argentina e Venezuela.
- A região do mundo que apresenta o maior crescimento econômico também foi o principal destino das exportações brasileiras.
- A relação comercial do Brasil com os países da União Europeia foi a que sofreu a maior redução percentual.

5. Analise o gráfico a seguir.



(Fonte dos dados do gráfico: ANFAVEA – Indústria Automobilística Brasileira – Anuário 2013).

Com base nos dados apresentados nesse gráfico, podemos afirmar corretamente que:

- a) houve crescimento aproximado de 30% no faturamento líquido da indústria de automóveis de 2005 a 2010, enquanto a participação no PIB industrial passou de, aproximadamente, 14% para 19% nesse mesmo período.
- b) houve queda aproximada de 5 bilhões de dólares no faturamento líquido da indústria de máquinas agrícolas de 1985 a 1995, acompanhada por uma queda constante da participação no PIB industrial nesse mesmo período.
- c) a participação no PIB industrial passou de, aproximadamente, 21 % para 11 % de 1975 a 1990, devido a queda constante no faturamento líquido da indústria de automóveis e de máquinas agrícolas nesse mesmo período.
- d) houve crescimento aproximado de 57 bilhões de dólares no faturamento líquido da indústria de automóveis de 1990 a 2010, enquanto a participação no PIB industrial passou de, aproximadamente, 11% para 19% nesse mesmo período.

Gabarito

1. A
2. C
3. E
4. C
5. D