

Análise Gráfica e interpretação de texto

1. As lentes fotocromáticas escurecem quando expostas à luz solar por causa de reações químicas reversíveis entre uma espécie incolor e outra colorida. Diversas reações podem ser utilizadas, e a escolha do melhor reagente para esse fim se baseia em três principais aspectos: (i) o quanto escurece a lente; (ii) o tempo de escurecimento quando exposta à luz solar; e (iii) o tempo de esmaecimento em ambiente sem forte luz solar. A transmitância indica a razão entre a quantidade de luz que atravessa o meio e a quantidade de luz que incide sobre ele.

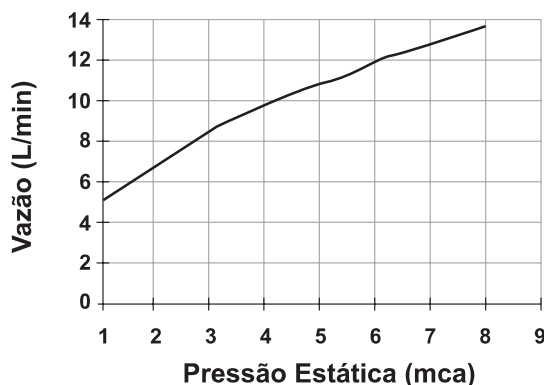
Durante um teste de controle para o desenvolvimento de novas lentes fotocromáticas, foram analisadas cinco amostras, que utilizam reagentes químicos diferentes. No quadro, são apresentados os resultados.

Amostra	Tempo de escurecimento (segundo)	Tempo de esmaecimento (segundo)	Transmitância média da lente quando exposta à luz solar (%)
1	20	50	80
2	40	30	90
3	20	30	50
4	50	50	50
5	40	20	95

Considerando os três aspectos, qual é a melhor amostra de lente fotocromática para se utilizar em óculos?

- a) 1
- b) 2
- c) 3
- d) 4
- e) 5

2. Uma pessoa, lendo o manual de uma ducha que acabou de adquirir para a sua casa, observa o gráfico, que relaciona a vazão na ducha com a pressão, medida em metros de coluna de água (mca).



Nessa casa residem quatro pessoas. Cada uma delas toma um banho por dia, com duração média de 8 minutos, permanecendo o registro aberto com vazão máxima durante esse tempo. A ducha é instalada em um ponto seis metros abaixo do nível da lâmina de água, que se mantém

constante dentro do reservatório. Ao final de 30 dias, esses banhos consumirão um volume de água, em litros, igual a

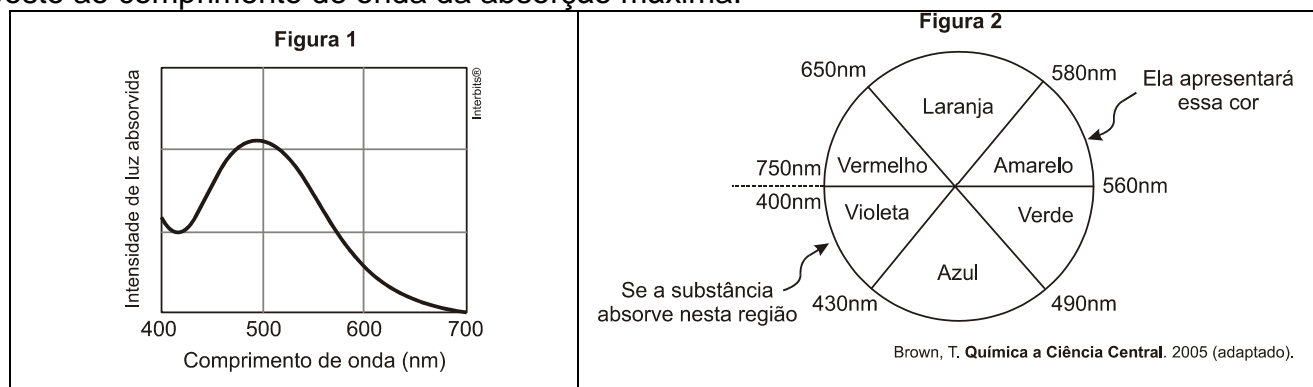
- a) 69 120.
- b) 17 280.
- c) 11 520.
- d) 8 640.
- e) 2 880.

3. É comum aos fotógrafos tirar fotos coloridas em ambientes iluminados por lâmpadas fluorescentes, que contêm uma forte composição de luz verde. A consequência desse fato na fotografia é que todos os objetos claros, principalmente os brancos, aparecerão esverdeados. Para equilibrar as cores, deve-se usar um filtro adequado para diminuir a intensidade da luz verde que chega aos sensores da câmera fotográfica. Na escolha desse filtro, utiliza-se o conhecimento da composição das cores-luz primárias: vermelho, verde e azul; e das cores-luz secundárias: amarelo = vermelho + verde, ciano = verde + azul e magenta = vermelho + azul. Disponível em: <http://nautilus.fis.uc.pt>. Acesso em 20 maio 2014 (adaptado).

Na situação descrita, qual deve ser o filtro utilizado para que a fotografia apresente as cores naturais dos objetos?

- a) Ciano.
- b) Verde.
- c) Amarelo.
- d) Magenta.
- e) Vermelho.

4. Para que uma substância seja colorida ela deve absorver luz na região do visível. Quando uma amostra absorve luz visível, a cor que percebemos é a soma das cores restantes que são refletidas ou transmitidas pelo objeto. A Figura 1 mostra o espectro de absorção para uma substância e é possível observar que há um comprimento de onda em que a intensidade de absorção é máxima. Um observador pode prever a cor dessa substância pelo uso da roda de cores (Figura 2): o comprimento de onda correspondente à cor do objeto é encontrado no lado oposto ao comprimento de onda da absorção máxima.



Qual a cor da substância que deu origem ao espectro da Figura 1?

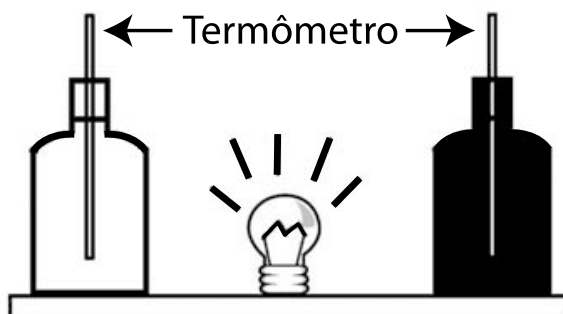
- a) Azul.

- b) Verde.
- c) Violeta.
- d) Laranja.
- e) Vermelho.

5. Alguns povos indígenas ainda preservam suas tradições realizando a pesca com lanças, demonstrando uma notável habilidade. Para fisgar um peixe em um lago com águas tranquilas o índio deve mirar abaixo da posição em que enxerga o peixe. Ele deve proceder dessa forma porque os raios de luz

- a) refletidos pelo peixe não descrevem uma trajetória retilínea no interior da água.
- b) emitidos pelos olhos do índio desviam sua trajetória quando passam do ar para a água.
- c) espalhados pelo peixe são refletidos pela superfície da água.
- d) emitidos pelos olhos do índio são espalhados pela superfície da água.
- e) refletidos pelo peixe desviam sua trajetória quando passam da água para o ar.

6. Em um experimento foram utilizadas duas garrafas PET, uma pintada de branco e a outra de preto, acopladas cada uma a um termômetro. No ponto médio da distância entre as garrafas, foi mantida acesa, durante alguns minutos, uma lâmpada incandescente. Em seguida a lâmpada foi desligada. Durante o experimento, foram monitoradas as temperaturas das garrafas: a) enquanto a lâmpada permaneceu acesa e b) após a lâmpada ser desligada e atingirem equilíbrio térmico com o ambiente.



A taxa de variação da temperatura da garrafa preta, em comparação à da branca, durante todo experimento, foi

- a) igual no aquecimento e igual no resfriamento.
- b) maior no aquecimento e igual no resfriamento.
- c) menor no aquecimento e igual no resfriamento.
- d) maior no aquecimento e menor no resfriamento.
- e) maior no aquecimento e maior no resfriamento.

7. Química Verde pode ser definida como a criação, o desenvolvimento e a aplicação de produtos e processos químicos para reduzir ou eliminar o uso e a geração de substâncias nocivas à saúde humana e ao ambiente. Sabe-se que algumas fontes energéticas desenvolvidas pelo homem exercem, ou têm potencial para exercer, em algum nível, impactos ambientais negativos.

CORRÊA, A. G.; ZUIN, V. G. (Orgs.). *Química Verde: fundamentos e aplicações*. São Carlos: EdUFSCar, 2009.

À luz da Química Verde, métodos devem ser desenvolvidos para eliminar ou reduzir a poluição do ar causada especialmente pelas

- a) hidrelétricas.
- b) termelétricas.
- c) usinas geotérmicas.
- d) fontes de energia solar.
- e) fontes de energia eólica.

8. Para realizar um experimento com uma garrafa PET cheia d'água, perfurou-se a lateral da garrafa em três posições a diferentes alturas. Com a garrafa tampada, a água não vazou por nenhum dos orifícios, e, com a garrafa destampada, observou-se o escoamento da água conforme ilustrado na figura.

Como a pressão atmosférica interfere no escoamento da água, nas situações com a garrafa tampada e destampada, respectivamente?

- a) Impede a saída de água, por ser maior que a pressão interna; não muda a velocidade de escoamento, que só depende da pressão da coluna de água.
- b) Impede a saída de água, por ser maior que a pressão interna; altera a velocidade de escoamento, que é proporcional à pressão atmosférica na altura do furo.
- c) Impede a entrada de ar, por ser menor que a pressão interna; altera a velocidade de escoamento, que é proporcional à pressão atmosférica na altura do furo.
- d) Impede a saída de água, por ser maior que a pressão interna; regula a velocidade de escoamento, que só depende da pressão atmosférica.
- e) Impede a entrada de ar, por ser menor que a pressão interna; não muda a velocidade de escoamento, que só depende da pressão da coluna de água.

9. Um dos problemas ambientais vivenciados pela agricultura hoje em dia é a compactação do solo, devida ao intenso tráfego de máquinas cada vez mais pesadas, reduzindo a produtividade das culturas.

Uma das formas de prevenir o problema de compactação do solo é substituir os pneus dos tratores por pneus mais

- a) largos, reduzindo a pressão sobre o solo.
- b) estreitos, reduzindo a pressão sobre o solo.
- c) largos, aumentando a pressão sobre o solo.
- d) estreitos, aumentando a pressão sobre o solo.
- e) altos, reduzindo a pressão sobre o solo.

10. Os carrinhos de brinquedo podem ser de vários tipos. Dentre eles, há os movidos a corda, em que uma mola em seu interior é comprimida quando a criança puxa o carrinho para trás. Ao ser solto, o carrinho entra em movimento enquanto a mola volta à sua forma inicial. O processo de conversão de energia que ocorre no carrinho descrito também é verificado em

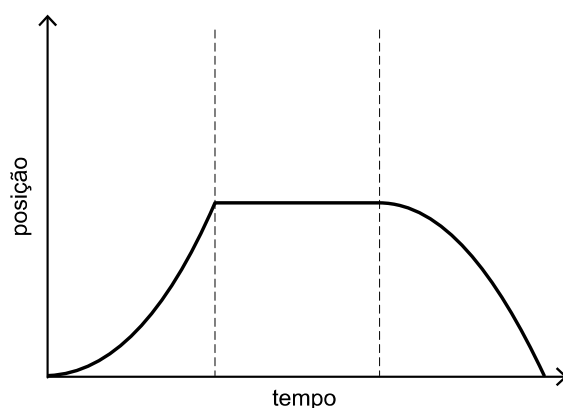
- a) um dínamo.
- b) um freio de automóvel.
- c) um motor a combustão.
- d) uma usina hidroelétrica.

e) uma atiradeira (estilingue).

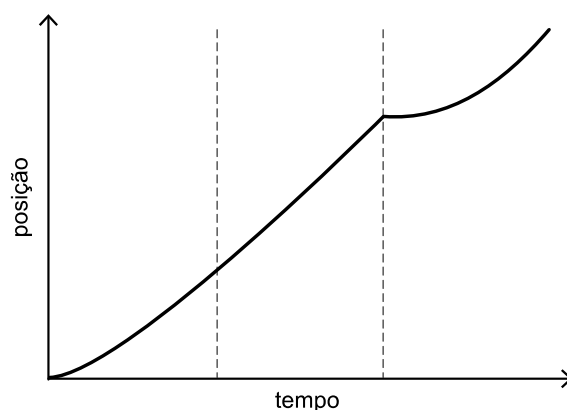
11. Para melhorar a mobilidade urbana na rede metroviária é necessário minimizar o tempo entre estações. Para isso a administração do metrô de uma grande cidade adotou o seguinte procedimento entre duas estações: a locomotiva parte do repouso com aceleração constante por um terço do tempo de percurso, mantém a velocidade constante por outro terço e reduz sua velocidade com desaceleração constante no trecho final, até parar.

Qual é o gráfico de posição (eixo vertical) em função do tempo (eixo horizontal) que representa o movimento desse trem?

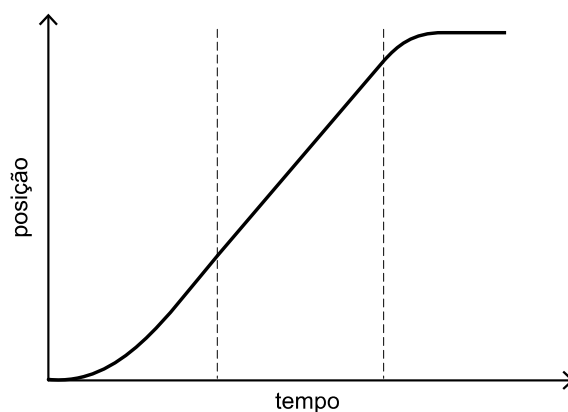
a)



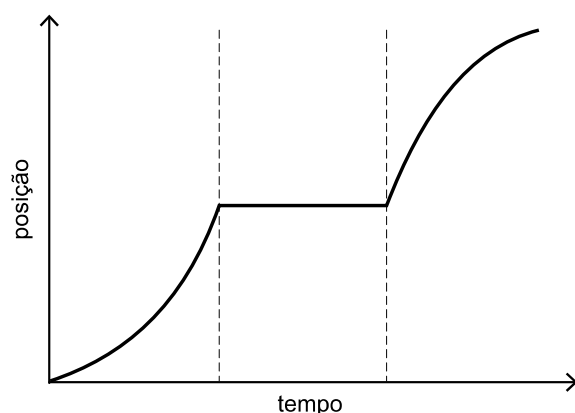
b)



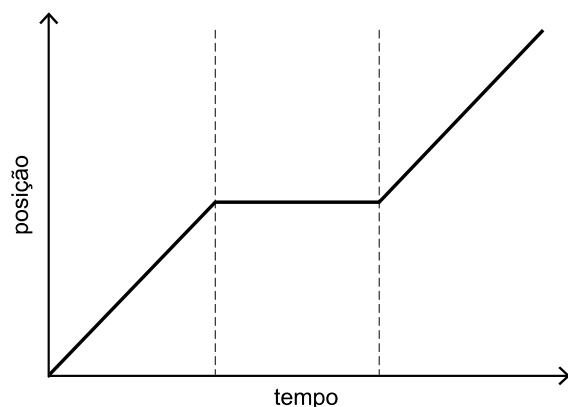
c)



d)



e)



12. A eficiência das lâmpadas pode ser comparada utilizando a razão, considerada linear, entre a quantidade de luz produzida e o consumo. A quantidade de luz é medida pelo fluxo luminoso, cuja unidade é o lúmen (lm). O consumo está relacionado à potência elétrica da lâmpada que é medida em watt (W). Por exemplo, uma lâmpada incandescente de 40W emite cerca de 600lm, enquanto uma lâmpada fluorescente de 40W emite cerca de 3000lm.

Disponível em: <http://tecnologia.terra.com.br>. Acesso em: 29 fev. 2012 (adaptado).

A eficiência de uma lâmpada incandescente de 40W é

- a) maior que a de uma lâmpada fluorescente de 8W, que produz menor quantidade de luz.
- b) maior que a de uma lâmpada fluorescente de 40W, que produz menor quantidade de luz.
- c) menor que a de uma lâmpada fluorescente de 8W, que produz a mesma quantidade de luz.
- d) menor que a de uma lâmpada fluorescente de 40W, pois consome maior quantidade de energia.
- e) igual a de uma lâmpada fluorescente de 40W, que consome a mesma quantidade de energia.

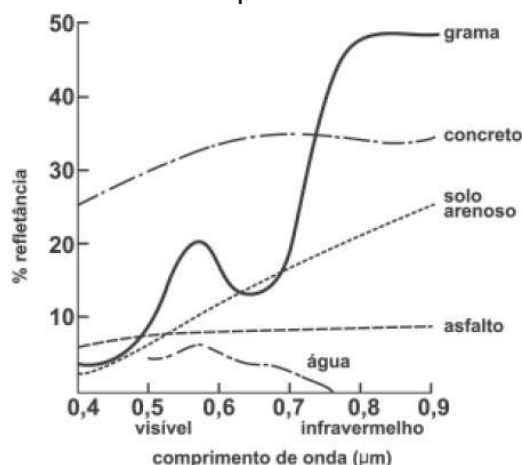
13. Nossa pele possui células que reagem à incidência de luz ultravioleta e produzem uma substância chamada melanina, responsável pela pigmentação da pele. Pensando em se bronzear, uma garota vestiu um biquíni, acendeu a luz de seu quarto e deitou-se exatamente abaixo da lâmpada incandescente. Após várias horas ela percebeu que não conseguiu resultado

algum.

O bronzeamento não ocorreu porque a luz emitida pela lâmpada incandescente é de

- a) baixa intensidade.
- b) baixa frequência.
- c) um espectro contínuo.
- d) amplitude inadequada.
- e) curto comprimento de onda.

14. O processo de interpretação de imagens capturadas por sensores instaladas a bordo de satélites que imageiam determinadas faixas ou bandas do espectro de radiação eletromagnética (REM) baseia-se na interação dessa radiação com os objetos presentes sobre a superfície terrestre. Uma das formas de avaliar essa interação é por meio da quantidade de energia refletida pelos objetos. A relação entre a refletância de um dado objeto e o comprimento de onda da REM é conhecida como curva de comportamento espectral ou assinatura espectral do objeto, como mostrado na figura, para objetos comuns na superfície terrestre.



D'ARCO, E. Radiometria e Comportamento Espectral de Alvos. INPE. Disponível em: <http://www.agro.unitau.br>. Acesso em: 3 maio 2009.

De acordo com as curvas de assinatura espectral apresentadas na figura, para que se obtenha a melhor discriminação dos alvos mostrados, convém selecionar a banda correspondente a que comprimento de onda em micrômetros (μm)?

- a) 0,4 a 0,5.
- b) 0,5 a 0,6.
- c) 0,6 a 0,7.
- d) 0,7 a 0,8.
- e) 0,8 a 0,9.

Gabarito

1. C
2. C
3. D
4. E
5. E
6. E
7. B
8. A
9. A
10. E
11. C
12. C
13. B
14. E