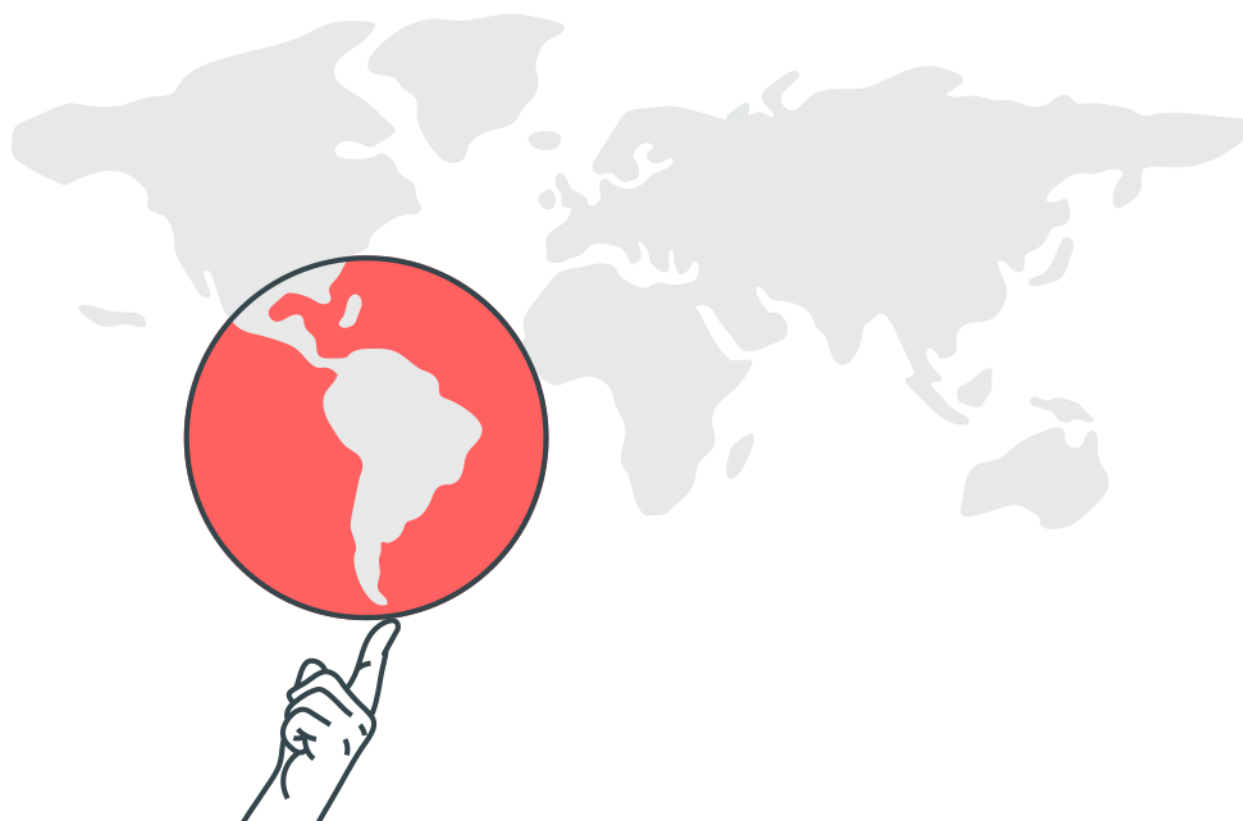


## *População brasileira e mundial*



### ***População brasileira e mundial***

1. A partir da leitura do texto a seguir, analise o crescimento significativo das migrações internacionais e os desafios para o século XXI.

Nos últimos anos, o tema das migrações e da mobilidade humana se tornou mais complexo e desafiador. Assim, olhar para o fenômeno migratório não significa tirar uma fotografia de algo que pode ser visto da mesma maneira, por qualquer pessoa. Nesse processo entram em jogo não apenas fatores racionais, mas também afetivos, emocionais, comportamentais e culturais. O relatório *Ultrapassar Barreiras: Mobilidade Humana e Desenvolvimento Humano* (ONU, 2009) estimava em 200 milhões o número de pessoas migrantes internacionais. Atualmente a estimativa já subiu para mais de 214 milhões de pessoas. Este número indica continuidade na mobilidade e, nesta perspectiva, identifica-se também novos caminhos para direções diversas. O Brasil está sendo um destes novos destinos. Nos últimos anos, a chegada de haitianos, senegaleses e ganeses é um indicativo. Migrantes legais e refugiados embarcam da mesma forma em uma travessia, em busca da garantia mínima da própria dignidade. As migrações internacionais, atualmente, mais que um fluxo natural de mobilidade humana, constituem um espelho das assimetrias das relações socioeconômicas vigentes em nível planetário. São termômetros que apontam as contradições das relações internacionais e da globalização neoliberal (...)

*<http://www.mundojovem.com.br/artigos/entendendo-a-mobilidade-humana-e-as-migracoes>. Acesso em 21/8/2014. (Texto adaptado)*

Sobre o processo das migrações internacionais no contexto atual, a que se refere o texto, é CORRETO afirmar que

- a) os refugiados são migrantes internacionais que não possuem residência fixa em outro país e não são reconhecidos como exilados.
- b) o intenso fluxo migratório internacional acentua a diversidade etnocultural dos países, o que facilita, cada vez mais, o acolhimento dos refugiados em países ricos.
- c) a necessidade de mão de obra qualificada vem atraindo para o Brasil imigrantes ocasionais, que buscam empregos, como os haitianos, os senegaleses e os ganeses.
- d) a globalização tem facilitado as migrações internacionais, tanto pelo aumento do custo dos transportes quanto pela expansão da utilização dos meios de comunicações.

2.

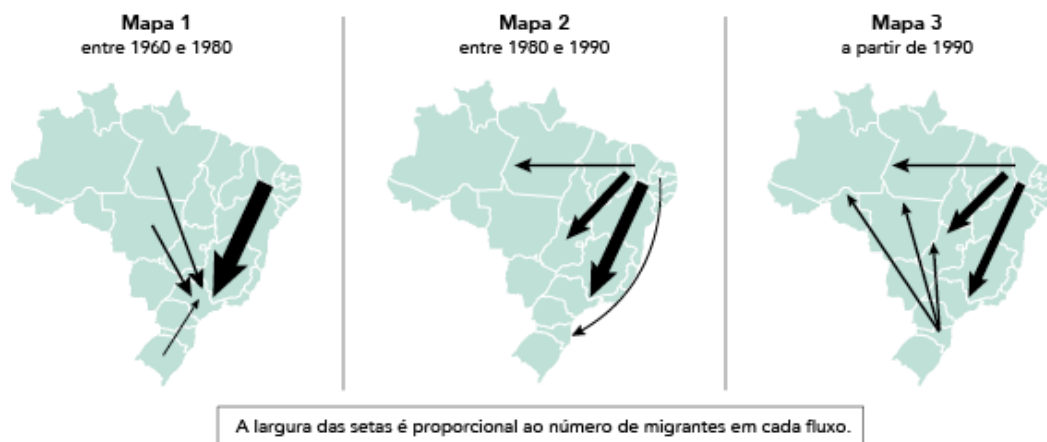
**População absoluta das regiões brasileiras em 1940 e 2010**  
(em milhões de habitantes)

Região	1940	2010
Norte	1,6	15,9
Nordeste	14,4	53,1
Sudeste	18,3	80,4
Sul	5,7	27,4
Centro-Oeste	1,1	14,1

Adaptado de ibge.gov.br.

O crescimento populacional brasileiro foi significativo a partir da segunda metade do século passado. Entretanto, a análise da tabela indica que esse avanço não foi semelhante entre as regiões do país. Nomeie as duas regiões brasileiras com maior crescimento relativo da população no período considerado. Em seguida, indique dois motivos que contribuíram para esse acentuado aumento populacional.

3.

**FLUXOS MIGRATÓRIOS BRASILEIROS MAIS IMPORTANTES  
NA SEGUNDA METADE DO SÉCULO XX E NO INÍCIO DO SÉCULO XXI**

Adaptado de sesi.webensino.com.br.

Identifique, no conjunto dos três mapas, a macrorregião do país com os maiores fluxos emigratórios e a macrorregião com os maiores fluxos imigratórios. Em seguida, indique um fator de atração e um de repulsão para o fluxo da região Sul para as regiões Norte e Centro-Oeste, observado no mapa 3.

4.

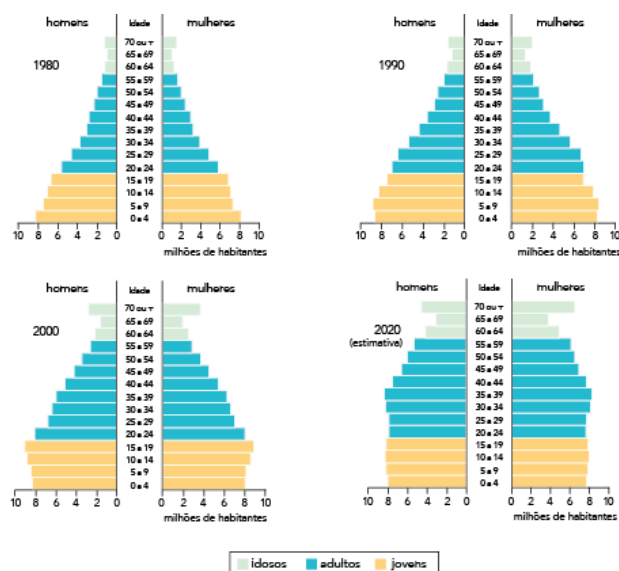
– Pense no seguinte: a população da Terra levou milhares de anos, desde a aurora da humanidade até o início do século XIX, para atingir um bilhão de pessoas. Então, de forma estarrecedora, precisou apenas de uns cem anos para duplicar e chegar a dois bilhões, na década de 1920. Depois disso, em menos de cinquenta anos, a população tornou a duplicar para quatro bilhões, na década de 1970. Como a senhora pode imaginar, muito em breve chegaremos aos oito bilhões. Pense nas implicações. (...) Espécies animais estão entrando em extinção num ritmo aceleradíssimo. A demanda por recursos naturais cada vez mais escassos é astronômica. É cada vez mais difícil encontrar água potável.

BROWN, Dan. *Inferno*. São Paulo: Arqueiro, 2013.

A fala do personagem no trecho citado ilustra o ponto de vista defendido por uma teoria demográfica.

Nomeie essa teoria e explicita o ponto de vista que ela defende. Nomeie, também, a teoria demográfica que defende o ponto de vista contrário.

5. Observe, nas pirâmides etárias abaixo, a distribuição da população por sexo e por faixas de idades, apontando transformações na estrutura populacional do Brasil.



Considerando o período de 1980 a 2020, explique a mudança principal em relação à proporção de jovens e a mudança principal em relação à proporção de idosos na população brasileira.

## Gabarito

1. A
2. Regiões: Centro-Oeste e Norte  
Dois dos motivos:
  - construção de Brasília
  - criação de projetos de exploração mineral
  - avanço da fronteira agrícola nessas regiões
  - permanência de taxas de natalidade elevadas
  - movimentos migratórios oriundos de outras regiões do país
3. De acordo com as representações nos mapas, o Nordeste é a macrorregião com os maiores fluxos emigratórios a partir da segunda metade do século XX, já que é dela que parte o maior número de setas que indicam esses deslocamentos. O Sudeste, por sua vez, registra os mais intensos fluxos imigratórios no período, já que esse é o destino da maior parte das setas nos mapas. A partir de 1990, as regiões Norte e Centro-Oeste tornaram-se polos de atração populacional em virtude da expansão das áreas de fronteira agrícola. Já a região Sul expulsou população em virtude de mudança no seu espaço agrário, tais como o elevado custo da terra, o fracionamento da propriedade rural e a dificuldade de concorrência do pequeno proprietário sulista com a grande propriedade mecanizada.
4. Várias são as teorias que tentam explicar a dinâmica de crescimento populacional, quase sempre representando uma visão ideológica desse processo. O texto apresentado expressa algumas das ideias da teoria demográfica Neomalthusiana, que encara os problemas ambientais globais como um resultado do crescimento populacional acelerado. Para essa teoria, caso não haja uma redução do crescimento populacional no planeta, os recursos naturais se esgotarão em um tempo relativamente curto. Por sua vez, a teoria demográfica Reformista (ou Marxista) defende uma posição oposta a dos neomalthusianos, ao argumentar que a exploração dos recursos naturais de forma descontrolada é um resultado do modelo capitalista, que privilegia determinados grupos em detrimento de outros, como pode ser comprovado pela flagrante diferença de consumo de produtos e de recursos entre as classes sociais em países de economia de mercado.

- 
- 5.** A principal mudança na população jovem, inferida a partir da análise e comparação das pirâmides etárias brasileiras no período considerado, é a diminuição de sua proporção no conjunto da população brasileira. Tal fato se explica pela redução das taxas de natalidade e de fecundidade no país. Em relação à população idosa, constata-se seu aumento percentual no mesmo período. Essa tendência pode ser justificada pela elevação da expectativa de vida entre os brasileiros.