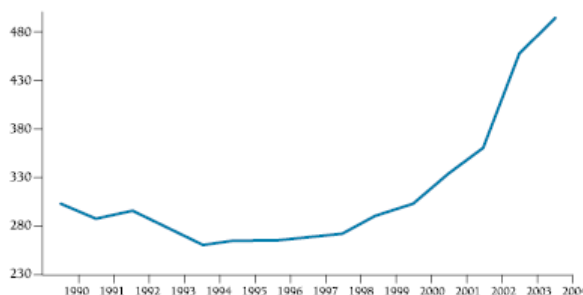


# Questões Geopolíticas Contemporâneas e A População Brasileira e Mundial

## 1. (UERJ-2011)

Gastos militares dos Estados Unidos (em bilhões de dólares)



Adaptado de <http://resistir.info>

Os dados presentes no gráfico acima podem ser interpretados considerando-se o contexto geopolítico mundial. Nesse contexto, aponte o fator que explica a variação dos gastos norte-americanos com armas durante a primeira metade da década de 1990 e identifique o principal traço da política externa desse país a partir de 2001.

## 2. (UEL-2011) O mapa ao lado representa a configuração do mundo após os anos de 1990.

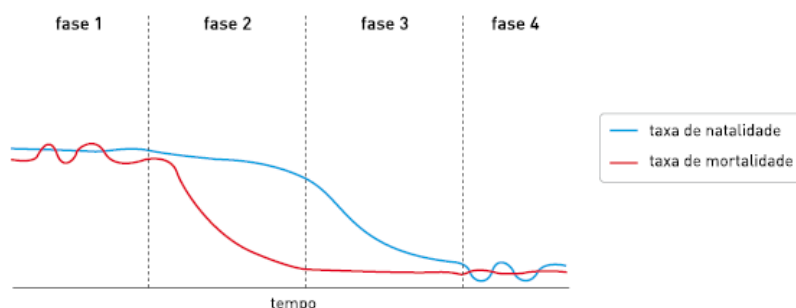


(Adaptado de: VESENTINI, J. W. *A Nova Ordem Mundial*. São Paulo: Ática, 1997. p. 52.)

Com base no mapa e nos conhecimentos sobre o tema, é correto afirmar:

- Na nova ordem geopolítica mundial, existem vários polos ou centros de poder, comandados por três grandes potências mundiais de poderio econômico, tecnológico e político-diplomático: EUA, Japão e União Europeia.
- Na nova ordem geopolítica mundial, é evidente a competição militar entre Norte/Sul e Leste/Oeste, comandados por três grandes potências mundiais (EUA, Japão e a União Europeia).

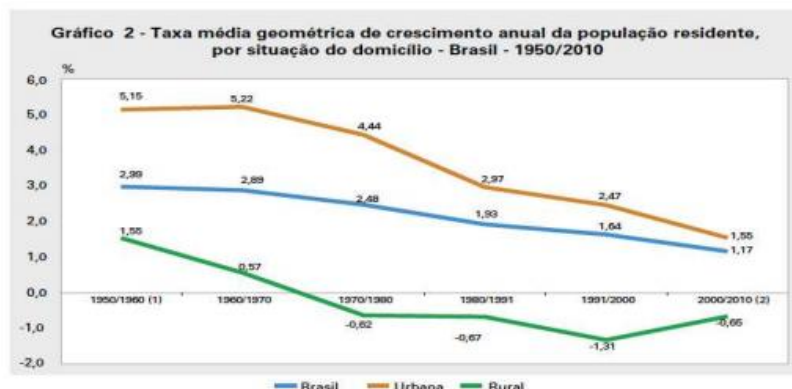
- c) A nova ordem geopolítica mundial emergiu com o fortalecimento da bipolaridade, da Guerra Fria e dos conflitos Leste/Oeste, isto é, socialismo real versus capitalismo.
- d) A nova ordem geopolítica mundial é marcada pela divisão Norte/Sul e por um centro econômico, comercial e tecnológico (EUA), ficando o Japão e a União Europeia como áreas periféricas.
- e) A nova ordem geopolítica mundial divide o mundo em Norte e Sul e é comandada pela União Europeia, que recebe apoio do Japão, dos EUA, da CEI, da China e do Oriente Médio, os quais são áreas periferizadas.
3. (UNIOESTE-2014) Desde março de 2011, estima-se que o conflito na Síria tenha causado a morte de 100 mil pessoas, segundo o Alto Comissariado das Nações Unidas para os Direitos Humanos (ACNUDH). Estima-se que 6,8 milhões de pessoas necessitem de assistência humanitária urgente. Há mais de 2 milhões de refugiados sírios nos países vizinhos e no Norte da África. Cerca de 1,2 milhão de famílias tiveram suas casas atingidas (ONU Brasil). Sobre o conflito na Síria, assinale a alternativa CORRETA.
- a) Trata-se de um conflito entre Israel e o governo de Bashar Al-Assad que disputam o controle e a influência sobre o território vizinho do Líbano.
- b) Trata-se de um conflito entre árabes e curdos. Bashar Al-Assad é um governante curdo que vem sendo pressionado a deixar o poder pela maioria árabe.
- c) Os curdos, entre os quais está Bashar Al-Assad, correspondem a 70% da população síria, portanto, garantem amplo apoio ao seu governo democrático.
- d) Os principais aliados do governo de Bashar Al-Assad são os governos dos Estados Unidos e da Rússia que juntos conseguem dar suporte ao ditador e evitar que grupos de adversários como o Hezbollah dominem o território sírio.
- e) O conflito na Síria surgiu em seguida aos movimentos da Primavera Árabe na Tunísia e no Egito. A reação violenta do governo, aos protestos populares, resultou em aumento das tensões. Os rebeldes, em sua maioria muçulmanos sunitas, sofrem forte repressão de Bashar Al-Assad que pertence à minoria alaúita.
4. (UERJ-2012) No gráfico abaixo, representa-se o processo de transição demográfica, vivenciado, de forma diferente, nos países desenvolvidos e nos subdesenvolvidos.



Adaptado de [www.prb.org](http://www.prb.org)

Identifique, a partir do gráfico, uma fase em que há reduzido índice de crescimento vegetativo e outra em que ocorre a elevação desse índice. Em seguida, apresente dois fatores que justificam, em países subdesenvolvidos, a queda da mortalidade na fase 2.

5. (FGV-SP-2013) Observe atentamente o gráfico abaixo:



IBGE: Censo Demográfico 2010

Características da população e dos domicílios. Resultados do universo. Disponível em: [http://www.ibge.gov.br/home/estatistica/populacao/censo2010/caracteristicas\\_da\\_populacao/resultados\\_do\\_universo.pdf](http://www.ibge.gov.br/home/estatistica/populacao/censo2010/caracteristicas_da_populacao/resultados_do_universo.pdf)

Com base nele e em seus conhecimentos, responda:

- Desde a década de 1970, a população rural brasileira está diminuindo em termos relativos. Procure explicar esse fenômeno.
- O ritmo de crescimento da população urbana vem diminuindo significativamente desde a década de 1960. Procure explicar esse fenômeno.
- O processo de urbanização da sociedade brasileira ainda estava em curso entre 2000 e 2010? Justifique sua resposta.

6. (UNICAMP-2010) Observe o gráfico abaixo e responda às questões:



- Indique a(s) região(ões) do globo com taxa de esperança de vida ao nascer inferior à média mundial, nos intervalos 1965-1970 e 1995-2000. Indique a região representada no gráfico com o melhor desempenho no aumento de expectativa de vida ao nascer entre os períodos 1965/1970 e 1995/2000.
- Por que, entre os períodos 1965/1970 e 1995/2000, houve aumento de esperança de vida ao nascer em todas as regiões indicadas no gráfico?

## Gabarito

1. De acordo com o gráfico, houve redução dos gastos militares norte-americanos na primeira metade da década de 1990, fato que resulta diretamente do colapso da União Soviética e do consequente fim da Guerra Fria. A partir de 2001, a significativa elevação desses gastos se explica sobretudo pela política externa estadunidense de guerra ao terror, também denominada como "Doutrina Bush", que incluiu as intervenções militares no Afeganistão e no Iraque.
2. A
3. E
4. O gráfico contém a variação das taxas de natalidade e mortalidade ao longo do tempo, possibilitando identificar as diferentes fases do processo de transição demográfica. Considerando que o crescimento vegetativo é a diferença entre as taxas de natalidade e de mortalidade, as fases 1 e 4 são aquelas em que há reduzido crescimento desse índice. Na fase 2, há elevação do crescimento vegetativo, uma vez que há aumento da distância entre as curvas referentes à natalidade e à mortalidade. No caso dos países subdesenvolvidos, fatores que explicam a queda da mortalidade nessa fase são a melhoria na alimentação, a expansão dos serviços de saúde e das redes de saneamento, a disseminação de hábitos de higiene e de remédios e vacinas, além de avanços nos diferentes campos da medicina.
5.
  - a) A diminuição da população rural, em termos relativos, deve-se a um conjunto de fatores de repulsão e de atração. Por um lado, ocorreu a mecanização do campo, na esteira da chamada "revolução verde" – fato que ocasionou a liberação de mão de obra no campo e uma acentuada concentração fundiária. Por outro lado, deve-se mencionar a aceleração da industrialização e da urbanização, que, combinadas, aumentaram a oferta de emprego nas cidades. Todos esses fatores concorreram em maior ou menor grau para o êxodo rural no período em tela.
  - b) O decréscimo no ritmo de crescimento da população urbana resulta, sobretudo, da mudança de padrões comportamentais da sociedade brasileira. Nesse processo, destacam-se a elevação do custo de vida nas cidades, que desestimula os casais a terem muitos filhos, a difusão de métodos anticonceptivos entre amplos estratos da população e a inserção mais assertiva da mulher no mercado de trabalho. Deve-se, ainda, destacar a perda de dinamismo da urbanização – uma vez que quanto mais urbanizado, proporcionalmente menor será o crescimento da taxa de urbanização de um país –, a redução do crescimento populacional urbano, com claros impactos sobre o crescimento da população urbana, e a deterioração da infraestrutura e das condições de vida nas grandes cidades.
  - c) O processo de urbanização no Brasil manteve-se em curso no último decênio, embora em ritmo mais reduzido em comparação com décadas passadas. Tal crescimento pode ser observado no gráfico, uma vez que a variação do crescimento da população urbana (1,55%) foi superior ao da população rural (-0,65%) e ao da população total (1,17%).

---

Esse fenômeno explica-se, inter alia, pelo crescimento das cidades médias em várias regiões do país, sobretudo no Centro-Oeste com as chamadas “cidades do campo” (aglomerados urbanos que surgem como retaguarda do agronegócio) e pela concentração de oportunidades de emprego e de negócios nas zonas urbanas. Ademais, note-se que as cidades são percebidas como centros de oferta de serviços nas áreas de saúde, educação, cultura e entretenimento.

6.

- a) No intervalo 1965/1970, são as regiões da África e Ásia que estão abaixo da média mundial; no intervalo 1995/2000, apenas a África encontra-se nessa situação. Entre os períodos 1965/1970 e 1995/2000, a região de melhor desempenho foi a Ásia.
- b) Em escala global, apesar de desigual, entre os períodos de 1965/1970 e 1995/2000, houve melhoria nas condições de saneamento básico, maior acesso à educação, melhoria nas condições de alimentação, maior disseminação das vacinas, maior acesso à saúde, urbanização e relativo aumento da renda.