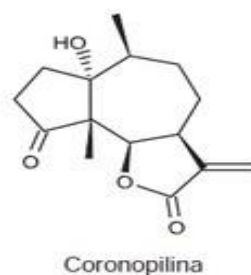
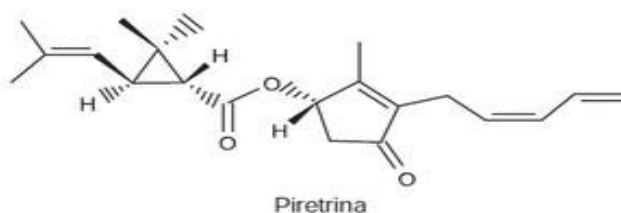


Empurrão para o ENEM - Química

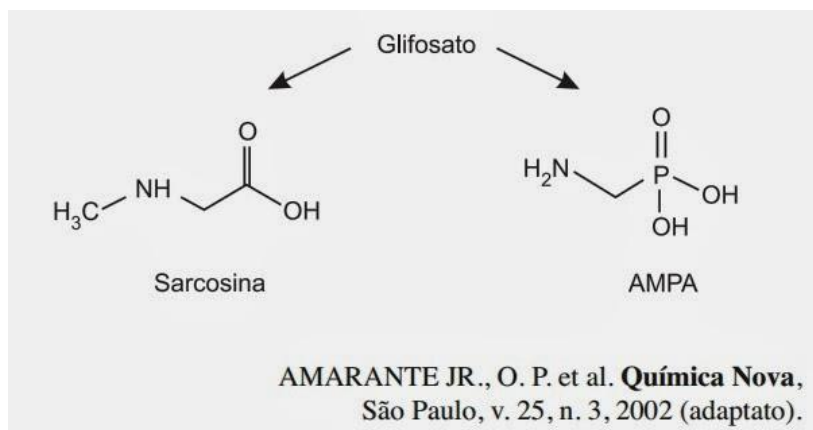
1. A produção mundial de alimentos poderia se reduzir a 40% da atual sem a aplicação de controle sobre as pragas agrícolas. Por outro lado, o uso frequente dos agrotóxicos pode causar contaminação em solos, águas superficiais e subterrâneas, atmosfera e alimentos. Os biopesticidas, tais como a piretrina e a coronopilina, têm sido uma alternativa na diminuição dos prejuízos econômicos, sociais e ambientais gerados pelos agrotóxicos.



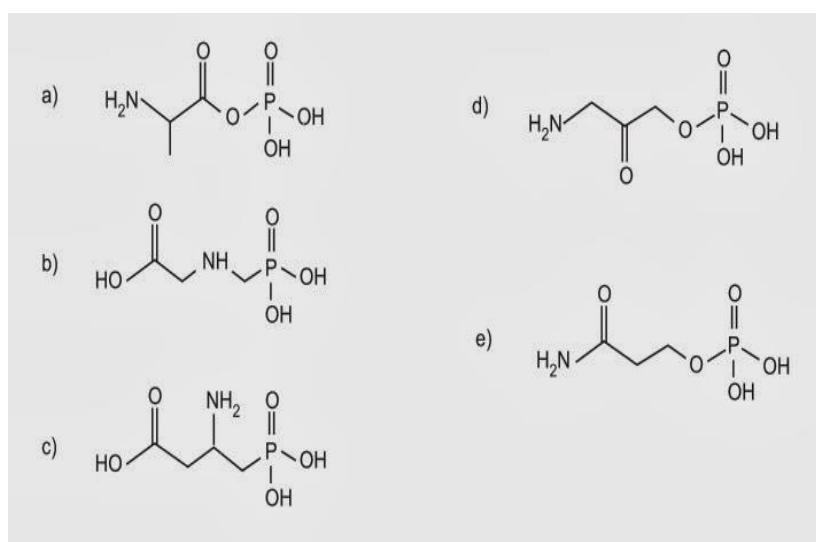
Identifique as funções orgânicas presentes simultaneamente nas estruturas dos dois biopesticidas apresentados:

- Éter e éster.
- Cetona e éster.
- Álcool e cetona.
- Aldeído e cetona.
- Éter e ácido carboxílico

2. O glifosato ($C_3H_8NO_5P$) é um herbicida pertencente ao grupo químico das glicinas, classificado como não seletivo. Esse composto possui os grupos funcionais carboxilato, amino e fosfonato. A degradação do glifosato no solo é muito rápida e realizada por grande variedade de microrganismos, que usam o produto como fonte de energia e fósforo. Os produtos da degradação são o ácido aminometilfosfônico (AMPA) e o N-metilglicina (sarcosina):



A partir do texto e dos produtos de degradação apresentados, a estrutura química que representa o glifosato é:



3. Química Verde pode ser definida como a criação, o desenvolvimento e a aplicação de produtos e processos químicos para reduzir ou eliminar o uso e a geração de substâncias nocivas à saúde humana e ao ambiente. Sabe-se que algumas fontes energéticas desenvolvidas pelo homem exercem, ou têm potencial para exercer, em algum nível, impactos ambientais negativos.

CORRÊA, A.G.; ZUIN, V.G. (Orgs). *Química Verde: fundamentos e aplicações*. São Carlos: EdUFSCar, 2009.

À luz da Química Verde, métodos devem ser desenvolvidos para eliminar ou reduzir a poluição do ar causada especialmente pelas

a) hidrelétricas

- b) termelétricas
- c) usinas geotérmicas
- d) fontes de energia solar
- e) fontes de energia eólica

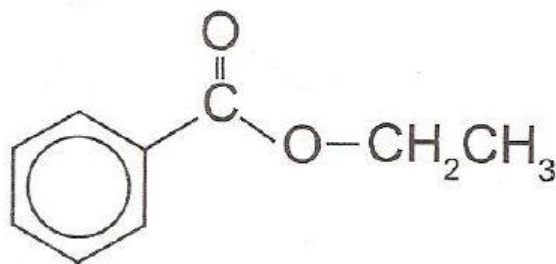
4. “A atmosfera terrestre é composta pelos gases nitrogênio (N_2) e oxigênio (O_2), que somam cerca de 99%, e por gases traços, entre eles o gás carbônico (CO_2), vapor de água (H_2O), metano (CH_4), ozônio (O_3) e o óxido nitroso (N_2O), que compõem o restante 1% do ar que respiramos. Os gases traços, por serem constituídos por pelo menos três átomos, conseguem absorver o calor irradiado pela Terra, aquecendo o planeta. Esse fenômeno, que acontece há bilhões de anos, é chamado de efeito estufa. A partir da Revolução Industrial (século XIX), a concentração de gases traços na atmosfera, em particular o CO_2 , tem aumentado significativamente, o que resultou no aumento da temperatura em escala global. Mais recentemente, outro fator tornou-se diretamente envolvido no aumento da concentração de CO_2 na atmosfera: o desmatamento.”

BROWN, I. F.; ALECHANDRE, A. S. Conceitos básicos sobre clima, carbono, florestas e comunidades. A.G. Moreira & S.Schwartzman. As mudanças climáticas globais e os ecossistemas brasileiros. Brasília: Instituto de Pesquisa Ambiental da Amazônia, 2000 (adaptado).

Considerando o texto, uma alternativa viável para combater o efeito estufa é:

- a) reduzir o calor irradiado pela Terra mediante a substituição da produção primária pela industrialização refrigerada.
- b) promover a queima da biomassa vegetal, responsável pelo aumento do efeito estufa devido à produção de CH_4 .
- c) reduzir o desmatamento, mantendo-se, assim, o potencial da vegetação em absorver o CO_2 da atmosfera.
- d) aumentar a concentração atmosférica de H_2O , molécula capaz de absorver grande quantidade de calor.
- e) remover moléculas orgânicas polares da atmosfera, diminuindo a capacidade delas de reter calor.

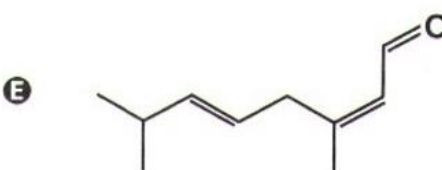
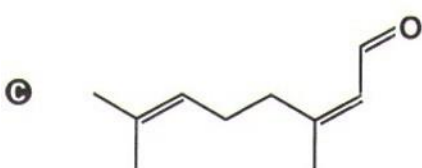
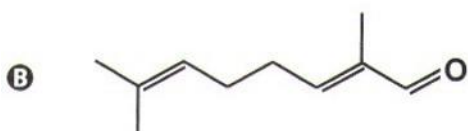
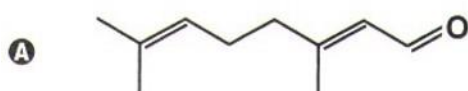
5. A própolis é um produto natural conhecido por suas propriedades anti-inflamatórias e cicatrizantes. Esse material contém mais de 200 compostos identificados até o momento. Dentre eles, alguns são de estrutura simples, como é o caso do $C_6H_5CO_2CH_2CH_3$, cuja estrutura está mostrada a seguir.



O ácido carboxílico e o álcool capazes de produzir o éster em apreço por meio da reação de esterificação são, respectivamente,

- a) ácido benzoico e etanol.
- b) ácido propanoico e hexanol.
- c) ácido fenilacético e metanol.
- d) ácido propiônico e cicloexanol.
- e) ácido acético e álcool benzílico.

6. O citral, substância de odor fortemente cítrico, é obtido a partir de algumas plantas como o capim-limão, cujo óleo essencial possui aproximadamente 80%, em massa, da substância. Uma de suas aplicações é na fabricação de produtos que atraem abelhas, especialmente do gênero *Apis*, pois seu cheiro é semelhante a um dos feromônios liberados por elas. Sua fórmula molecular é $C_{10}H_{16}O$, com uma cadeia alifática de oito carbonos, duas insaturações, nos carbonos 2 e 6 e dois grupos substituintes metila, nos carbonos 3 e 7. O citral possui dois isômeros geométricos, sendo o *trans* o que mais contribui para o forte odor. Para que se consiga atrair um maior número de abelhas para uma determinada região, a molécula que deve estar presente em alta concentração no produto a ser utilizado é:

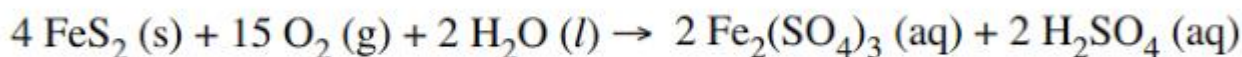


7. A varfarina é um fármaco que diminui a agregação plaquetária, e por isso é utilizada como anticoagulante, desde que esteja presente no plasma, com uma concentração superior a 1,0 mg/L. Entretanto, concentrações plasmáticas superiores a 4,0 mg/L podem desencadear hemorragias. As moléculas desse fármaco ficam retidas no espaço intravascular e dissolvidas exclusivamente no plasma, que representa aproximadamente 60% do sangue em volume. Em um medicamento, a varfarina é administrada por via intravenosa na forma de solução aquosa, com concentração de 3,0 mg/mL. Um indivíduo adulto, com volume sanguíneo total de 5,0 L, será submetido a um tratamento com solução injetável desse medicamento.

Qual é o máximo volume da solução do medicamento que pode ser administrado a esse indivíduo, pela via intravenosa, de maneira que não ocorram hemorragias causadas pelo anticoagulante?

- a) 1,0 mL.
- b) 1,7 mL.
- c) 2,7 mL.
- d) 4,0 mL.
- e) 6,7 mL.

8. A formação frequente de grandes volumes de pirita (FeS_2) em uma variedade de depósitos minerais favorece a formação de soluções ácidas ferruginosas, conhecidas como “drenagem ácida de minas”. Esse fenômeno tem sido bastante pesquisado pelos cientistas e representa uma grande preocupação entre os impactos da mineração no ambiente. Em contato com oxigênio, a 25°C, a pirita sofre reação, de acordo com a equação química:



FIGUEIREDO, B. R. *Minérios e Ambientes*. Campinas. Unicamp. 2000.

Para corrigir os problemas ambientais causados por essa drenagem, a substância mais recomendada a ser adicionada ao meio é o

- a) sulfeto de sódio.
- b) cloreto de amônio
- c) dióxido de enxofre.
- d) dióxido de carbono.
- e) carbonato de cálcio.

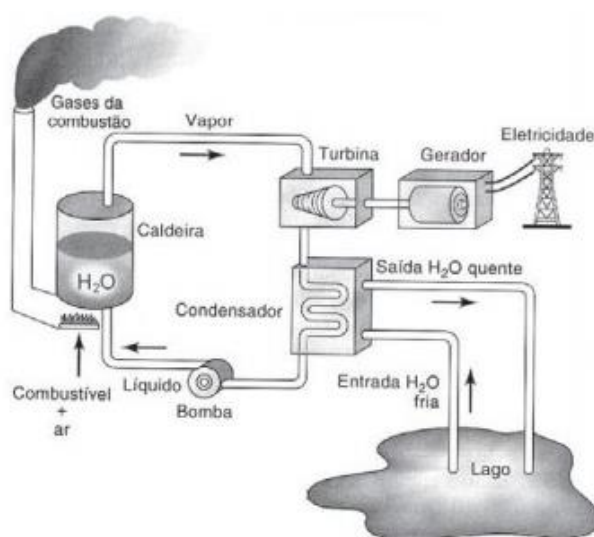
9. O boato de que os lacres das latas de alumínio teriam um alto valor comercial levou muitas pessoas a juntarem esse material na expectativa de ganhar dinheiro com sua venda. As empresas fabricantes de alumínio esclarecem que isso não passa de uma “lenda urbana”, pois ao retirar o anel da lata, dificulta-se a reciclagem do alumínio. Como a liga do qual é feito o anel contém alto teor de magnésio, se ele não estiver junto com a lata, fica mais fácil ocorrer a oxidação do alumínio no forno. A tabela apresenta as semirreações e os valores de potencial padrão de redução de alguns metais:

Semirreacao	Potencial Padrao de Reducao (V)
$\text{Li}^+ + \text{e}^- \rightarrow \text{Li}$	- 3,05
$\text{K}^+ + \text{e}^- \rightarrow \text{K}$	- 2,93
$\text{Mg}^{2+} + 2\text{e}^- \rightarrow \text{Mg}$	- 2,36
$\text{Al}^{3+} + 3\text{e}^- \rightarrow \text{Al}$	- 1,66
$\text{Zn}^{2+} + 2\text{e}^- \rightarrow \text{Zn}$	- 0,76
$\text{Cu}^{2+} + 2\text{e}^- \rightarrow \text{Cu}$	+ 0,34

Com base no texto e na tabela, que metais poderiam entrar na composição do anel das latas com a mesma função do magnésio, ou seja, proteger o alumínio da oxidação nos fornos e não deixar diminuir o rendimento da sua reciclagem?

- Somente o lítio, pois ele possui o menor potencial de redução.
- Somente o cobre, pois ele possui o maior potencial de redução.
- Somente o potássio, pois ele possui potencial de redução mais próximo do magnésio.
- Somente o cobre e o zinco, pois eles sofrem oxidação mais facilmente que o alumínio.
- Somente o lítio e o potássio, pois seus potenciais de redução são menores do que o do alumínio.

10. O esquema mostra um diagrama de bloco de uma estação geradora de eletricidade abastecida por combustível fóssil.



HINRICHS, R. A.; KLEINBACH, M. **Energia e meio ambiente**. São Paulo: Pioneira Thomson Learning, 2003 (adaptado).

Se fosse necessário melhorar o rendimento dessa usina, que forneceria eletricidade para abastecer uma cidade, qual das seguintes ações poderia resultar em alguma economia de energia, sem afetar a capacidade de geração da usina?

- a) Reduzir a quantidade de combustível fornecido à usina para ser queimado.
- b) Reduzir o volume de água do lago que circula no condensador de vapor.
- c) Reduzir o tamanho da bomba usada para devolver a água líquida à caldeira.
- d) Melhorar a capacidade dos dutos com vapor conduzirem calor para o ambiente.
- e) Usar o calor liberado com os gases pela chaminé para mover um outro gerador.

Gabarito

1. B
2. B
3. B
4. C
5. A
6. A
7. D
8. E
9. E
10. E